

c	d	u

Problème

Dans la boîte de mamie, il y a 1 billet de 100 euros, 2 billets de 20 euros, 4 billets de 10 euros, 1 billet de 5 euros et 2 pièces de 1 euro.

Combien d'argent y a-t-il dans la boîte de mamie?

Problème

Dans la boîte de mamie, il y a 1 billet de 100 euros, 2 billets de 20 euros, 4 billets de 10 euros, 1 billet de 5 euros et 2 pièces de 1 euro.

Combien d'argent y a-t-il dans la boîte de mamie?

Problème






Dans la boîte de mamie, il y a 1 billet de 100 euros, 2 billets de 20 euros, 4 billets de 10 euros, 1 billet de 5 euros et 2 pièces de 1 euro.

Combien d'argent y a-t-il dans la boîte de mamie?

Problème

Dans la boîte de mamie, il y a 1 billet de 100 euros, 2 billets de 20 euros, 4 billets de 10 euros, 1 billet de 5 euros et 2 pièces de 1 euro.

Combien d'argent y a-t-il dans la boîte de mamie?



De 0 à 199

1. Je calcule ces opérations

$100 + 20 + 3 =$

$100 + 40 + 7 =$

$100 + 60 + 8 =$

$100 + 40 + 7 =$

$6 + 20 + 100 =$

$20 + 4 + 100 =$

$5 + 100 + 40 =$

$100 + 8 + 90 =$

$100 + 20 + 7 =$

2. J'écris en chiffres

cent trente-quatre: _____

cent vingt-neuf: _____

cent soixante-sept: _____

cent cinquante-six: _____

cent quatre-vingt-sept: _____

cent soixante-quatorze: _____

cent dix-huit: _____

3. écris le calcul qui correspond au nombre

$123 = 100 + 20 + 3$

$142 =$ _____

$172 =$ _____

$183 =$ _____

$195 =$ _____

$186 =$ _____

$126 =$ _____

$154 =$ _____