



Module 4 :

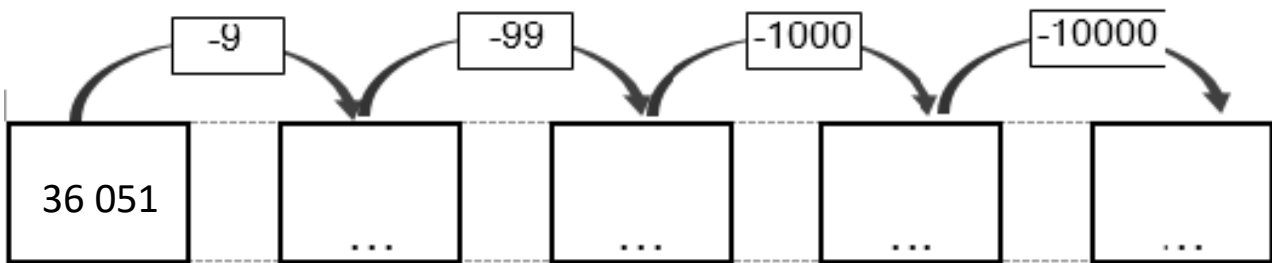
Cm2

Pour aller plus loin.

<http://2maitressesalacampagne.etlablog.com>

Découpe et colle chaque exercice.

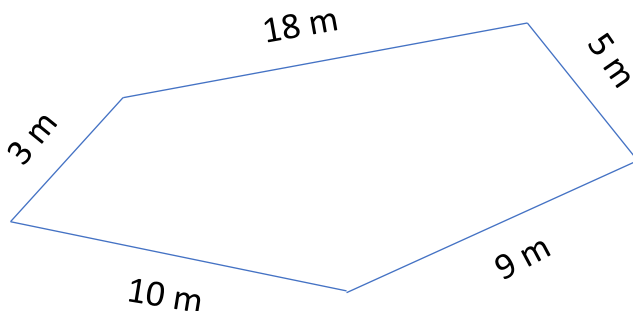
Exercice 1 : COMPLETE la chaîne de calculs suivante:



Exercice 2 : ENCADRE à la centaine près.

Centaine inférieure	Nombre	Centaine supérieure
	156 548	
	345 938	
	425 065	

Exercice 3 : CALCULE le périmètre de la figure suivante.



P =

Exercice 4 : CONSTRUIS un rectangle de 6 cm sur 4 cm sur une feuille de papier blanc.



Module 4 :

Ce2

Pour aller plus loin

<http://2maitressesalacampagne.eklablog.com>

Découpe et colle chaque exercice.

Exercice 1 : CALCULE sans poser.

$736 - 9 = \text{----}$

$321 - 9 = \text{----}$

$845 - 9 = \text{----}$

$547 - 9 = \text{----}$

Exercice 2 : COMPARE avec < ou >

$650 \text{ ---- } 590$

$728 \text{ ---- } 287$

$567 \text{ ---- } 756$

$412 \text{ ---- } 142$

Exercice 3 : POSE et **CALCULE** sur ta feuille.


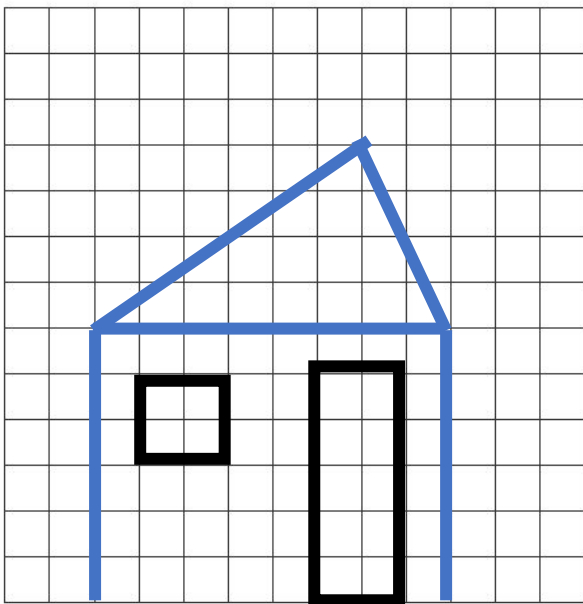
$456 - 68 =$

$329 - 43 =$

$547 - 29 =$

$628 - 352 =$

Exercice 4 : REPRODUIS la figure suivante.



Exercice 5 : TROUVE le nombre cible à partir des nombres suivants.

24

Avec les nombres 12 - 7 - 9 - 4 - 1