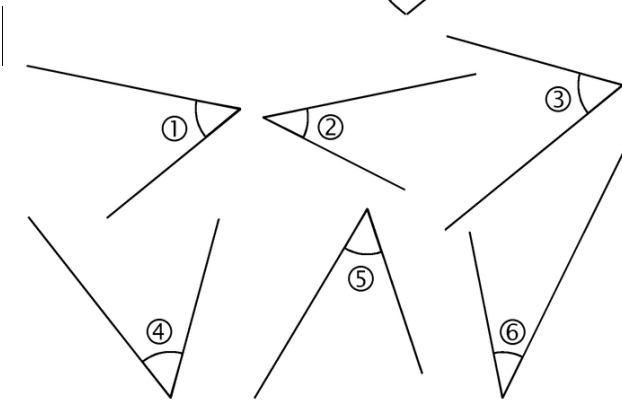
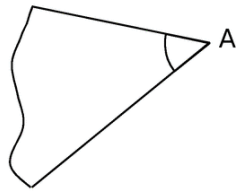


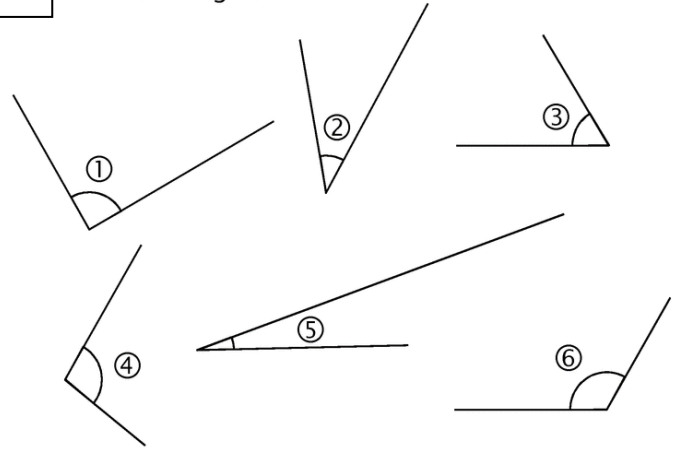
1 Voici un angle \hat{A} .



Classe les angles ① à ⑥ dans ce tableau.

Plus petits que l'angle \hat{A}	Égaux à l'angle \hat{A}	Plus grands que l'angle \hat{A}

2 Voici six angles.



a. Classe ces angles du plus petit au plus grand.

b. Classe ces angles dans le tableau ci-dessous.

Angles aigus	Angles droits	Angles obtus

3 Quels sont les angles égaux ?

.....

.....

