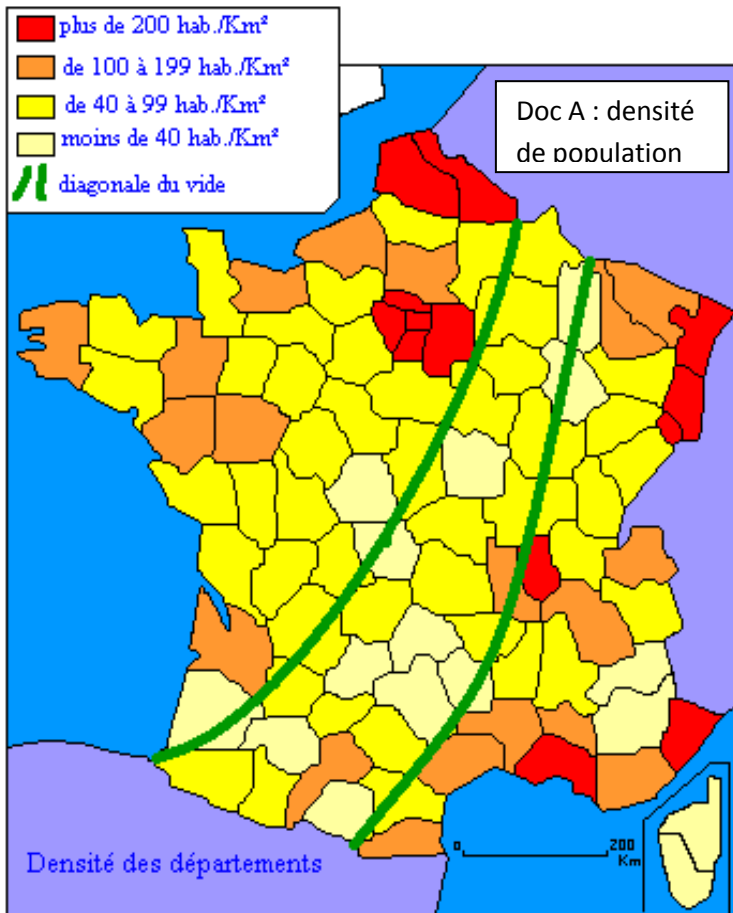
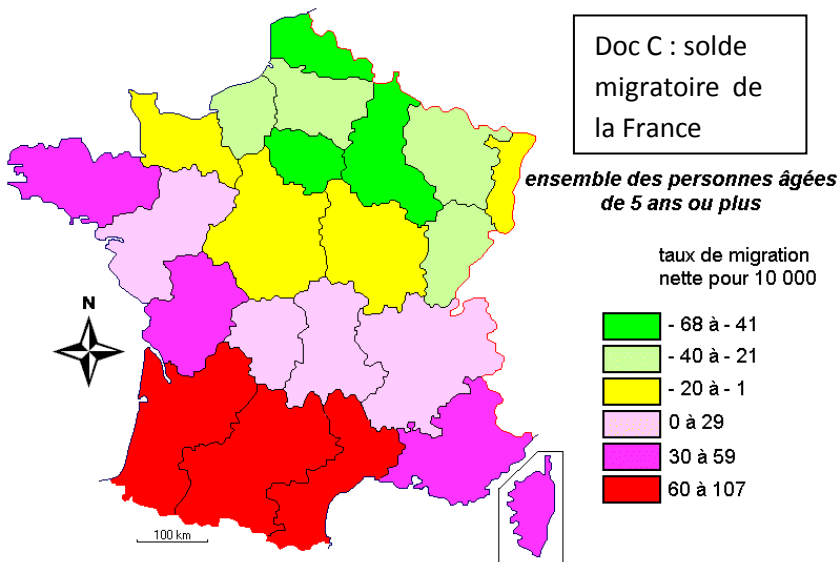
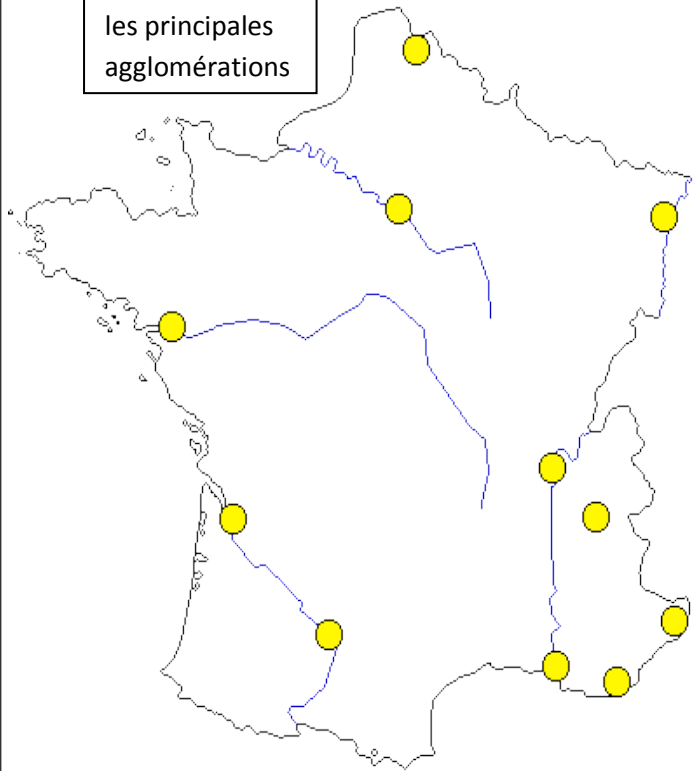


LES FRANÇAIS DANS LE CONTEXTE EUROPEEN : la répartition de la population sur le territoire français



Doc B : France les principales agglomérations



Doc A :

1-Quels sont les départements français les plus peuplés, cite-en 6 (tu peux t'aider de tes leçons précédentes)?

2-Comment appelle-t-on la bande de terre où le nombre d'habitants est peu important ?

Doc B :

1-Place sur la carte les noms de villes suivantes (aide-toi d'un dictionnaire) : Lyon, Lille, Strasbourg, Paris, Nantes, bordeaux, Toulouse, Marseille, Toulon, Nice, Grenoble

2- Si tu compares les grandes villes aux départements les plus peuplés, que remarques-tu ?

Doc C :

1-Quelles sont les 3 régions qui attirent le plus les français ?

2-Où sont-elles situées ?

3- Quelles sont les 3 régions d'où partent le plus de français ?

4- Où sont-elles situées ?

