

Alex et Lisa se partagent le trésor.

Chacun doit recevoir le même nombre de pépites et il doit rester le moins de pépites.

Combien de pépites aura chaque enfant?



37



Alex et Lisa se partagent le trésor.

Chacun doit recevoir le même nombre de pépites et il doit rester le moins de pépites.

Combien de pépites aura chaque enfant?



37



Alex et Lisa se partagent le trésor.

Chacun doit recevoir le même nombre de pépites et il doit rester le moins de pépites.

Combien de pépites aura chaque enfant?



37




38

Un bus part avec 20 personnes à l'intérieur.

Au premier arrêt, 15 personnes montent.

Au deuxième arrêt, 8 personnes montent.

Combien y a-t-il de personnes dans le bus ?



38

Un bus part avec 20 personnes à l'intérieur.

Au premier arrêt, 15 personnes montent.

Au deuxième arrêt, 8 personnes montent.

Combien y a-t-il de personnes dans le bus ?




38

Un bus part avec 20 personnes à l'intérieur.

Au premier arrêt, 15 personnes montent.

Au deuxième arrêt, 8 personnes montent.


Combien y a-t-il de personnes dans le bus ?



Dans un jardin, Lisa cueille 42 cerises. Alex en cueille 39.

Combien **ont-ils ramassé** de cerises à eux deux ?

39




--	--

Dans un jardin, Lisa cueille 42 cerises. Alex en cueille 39.

Combien **ont-ils ramassé** de cerises à eux deux ?

39




--	--

Dans un jardin, Lisa cueille 42 cerises. Alex en cueille 39.

Combien **ont-ils ramassé** de cerises à eux deux ?

39



--	--

40

Mourad achète 4 boîtes de 6 œufs.

Combien d'œufs achète-t-il ?



--	--



40

Mourad achète 4 boîtes de 6 œufs.

Combien d'œufs achète-t-il ?



--	--



40

Mourad achète 4 boîtes de 6 œufs.

Combien d'œufs achète-t-il ?




--	--



Arthur range ses photos dans des enveloppes. Il y a 18 photos et 6 enveloppes. Il veut qu'il y ait autant de photos dans chaque enveloppe.

Combien de photos met-il dans chaque enveloppe ?




41



Arthur range ses photos dans des enveloppes. Il y a 18 photos et 6 enveloppes. Il veut qu'il y ait autant de photos dans chaque enveloppe.

Combien de photos met-il dans chaque enveloppe ?




41



Arthur range ses photos dans des enveloppes. Il y a 18 photos et 6 enveloppes. Il veut qu'il y ait autant de photos dans chaque enveloppe.

Combien de photos met-il dans chaque enveloppe ?



41



42

Au jeu de l'oie, Lisa est sur la case 39. Elle recule de 6 cases après avoir lancé son dé.

Sur quelle case arrive-t-elle ?



42

Au jeu de l'oie, Lisa est sur la case 39. Elle recule de 6 cases après avoir lancé son dé.

Sur quelle case arrive-t-elle ?



42

Au jeu de l'oie, Lisa est sur la case 39. Elle recule de 6 cases après avoir lancé son dé.

Sur quelle case arrive-t-elle ?



Alex a 148 autocollants Ses parents lui en achètent 26 de plus.

Combien Alex a-t-il d'autocollants maintenant ?

--	--

43



Alex a 148 autocollants Ses parents lui en achètent 26 de plus.

Combien Alex a-t-il d'autocollants maintenant ?

--	--

43



Alex a 148 autocollants Ses parents lui en achètent 26 de plus.

Combien Alex a-t-il d'autocollants maintenant ?

--	--

43



44

Alex est allé faire les courses pour son anniversaire. Il a acheté des bonbons pour ses copains. Il a pris 3 paquets de 12 bonbons.

Combien de bonbons a-t-il acheté en tout ?



--	--

44

Alex est allé faire les courses pour son anniversaire. Il a acheté des bonbons pour ses copains. Il a pris 3 paquets de 12 bonbons.

Combien de bonbons a-t-il acheté en tout ?



--	--

44

Alex est allé faire les courses pour son anniversaire. Il a acheté des bonbons pour ses copains. Il a pris 3 paquets de 12 bonbons.

Combien de bonbons a-t-il acheté en tout ?



--	--

Dans l'école, il y a 427 élèves. Aujourd'hui, il y a 58 enfants qui sont malades et qui ne sont pas venus à l'école.

Combien y a-t-il d'élèves à l'école aujourd'hui ?



45



Dans l'école, il y a 427 élèves. Aujourd'hui, il y a 58 enfants qui sont malades et qui ne sont pas venus à l'école.

Combien y a-t-il d'élèves à l'école aujourd'hui ?



45



Dans l'école, il y a 427 élèves. Aujourd'hui, il y a 58 enfants qui sont malades et qui ne sont pas venus à l'école.

Combien y a-t-il d'élèves à l'école aujourd'hui ?



45



46

Dans la ville d'Alex et Lisa il y a 2 écoles.

Dans la première, l'école du Petit Bois, il y a 275 élèves.

Dans la deuxième, l'école du Lac, il y a 196 élèves.

Combien d'élèves y a-t-il en tout dans la ville ?



46

Dans la ville d'Alex et Lisa il y a 2 écoles.

Dans la première, l'école du Petit Bois, il y a 275 élèves.

Dans la deuxième, l'école du Lac, il y a 196 élèves.

Combien d'élèves y a-t-il en tout dans la ville ?



46

Dans la ville d'Alex et Lisa il y a 2 écoles.

Dans la première, l'école du Petit Bois, il y a 275 élèves.

Dans la deuxième, l'école du Lac, il y a 196 élèves.

Combien d'élèves y a-t-il en tout dans la ville ?



Lisa partage 52 balles entre ces trois chats.

Combien de balles aura chaque chat ?



47



Lisa partage 52 balles entre ces trois chats.

Combien de balles aura chaque chat ?



47



Lisa partage 52 balles entre ces trois chats.

Combien de balles aura chaque chat ?



47



48

Dans son placard, Monsieur Mangetout a 56 biscuits. Il en mange 6 au petit déjeuner puis encore 5 au goûter.

Combien **lui reste-t-il** de biscuits à la fin de la journée ?



48

Dans son placard, Monsieur Mangetout a 56 biscuits. Il en mange 6 au petit déjeuner puis encore 5 au goûter.

Combien **lui reste-t-il** de biscuits à la fin de la journée ?



48

Dans son placard, Monsieur Mangetout a 56 biscuits. Il en mange 6 au petit déjeuner puis encore 5 au goûter.

Combien **lui reste-t-il** de biscuits à la fin de la journée ?

