

Maths – Exercices quart et quadruple

Exercice 1 – Quadrupler

Quadrupler, c'est multiplier par 4

Le quadruple de 2 est 8

Le quadruple de 6 est 24

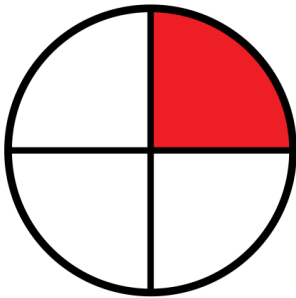
Le quadruple de 3 est 12

Le quadruple de 5 est 20

Le quadruple de 8 est 32

Exercice 2 – Le quart

On trouve le quart en partageant en 4 parts égales.





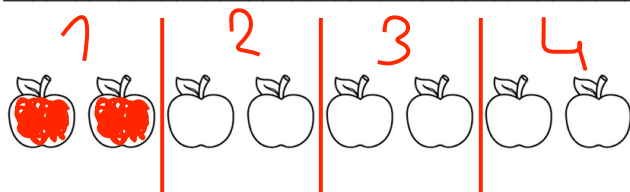

Si je prends deux parts de ce gâteau, je mange 2 quarts du gâteau.

Exercice 3 – Calcule

Le quart de 8 est 2

Le quart de 16 est 4

Exercice 3 – Colorie le quart des pommes



Exercice 5 – C'est l'heure

Combien de minutes y a-t-il dans un quart d'heure ?

15 minutes

Les cartes Pokemon

Tom a 2 cartes Pokemon, c'est le quart de ce que possède Lucas. Combien Lucas a-t-il de cartes?

$$2 \times 4 = 8$$

Lucas a 8 cartes