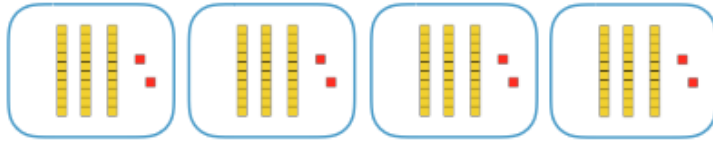


Multiplier en ligne un nombre à 3 chiffres

1 Décompose ton calcul pour trouver le résultat.

$4 \times 32$



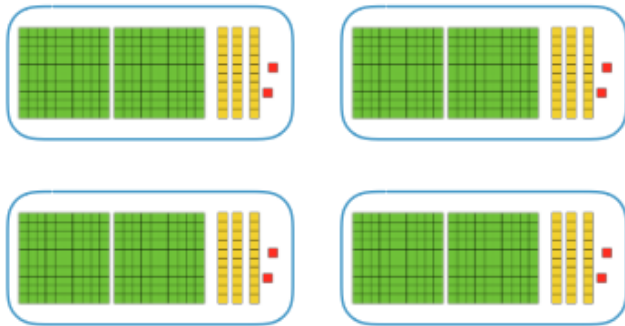
$$4 \times 32 = ( \quad \times \quad ) + ( \quad \times \quad )$$

$$4 \times 32 = \underline{\hspace{2cm}} + \underline{\hspace{2cm}}$$

$$4 \times 32 = \underline{\hspace{2cm}}$$

2 Décompose ton calcul pour trouver le résultat.

$4 \times 232$



$$4 \times 232 = ( \quad \times \quad ) + ( \quad \times \quad ) + ( \quad \times \quad )$$

$$4 \times 232 = \underline{\hspace{2cm}} + \underline{\hspace{2cm}} + \underline{\hspace{2cm}}$$

$$4 \times 232 = \underline{\hspace{2cm}}$$

Multiplier en ligne un nombre à 3 chiffres

3 Dessine le contenu des paquets puis complète le calcul.

$3 \times 142$




$$3 \times 142 = ( \quad \times \quad ) + ( \quad \times \quad ) + ( \quad \times \quad )$$

$$3 \times 142 = \underline{\hspace{2cm}} + \underline{\hspace{2cm}} + \underline{\hspace{2cm}}$$

$$3 \times 142 = \underline{\hspace{2cm}}$$

4 Dessine le contenu des paquets puis réalise ton calcul.

$4 \times 312$



$$4 \times 312 = \underline{\hspace{2cm}}$$

$$4 \times 312 = \underline{\hspace{2cm}}$$

$$4 \times 312 = \underline{\hspace{2cm}}$$