

Mathématiques → géométrie

Géométrie plane

Décrire, reproduire, tracer un carré, un rectangle, un triangle rectangle.

1

2

3

4

① Trace un carré de 4 cm de côté.

② Trace un rectangle de 2 cm de largeur et 5 cm de longueur.

③ Trace un triangle rectangle. (Tu as le choix des dimensions.)

4 Trace un angle droit.

5 Trace une droite passant par les deux points.



6 Trace un segment entre les deux points.



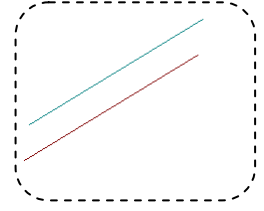
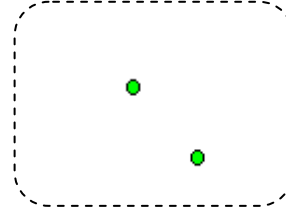
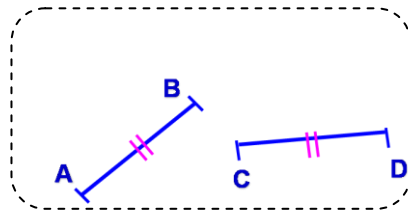
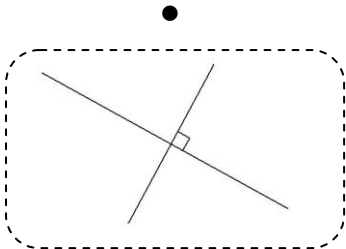
7 Relie chaque dessin à sa légende.

Deux points alignés

Deux droites
perpendiculaires

Deux droites parallèles

Deux segments de
même longueur



Date

Signature des parents