

ATELIER MATHÉMATIQUES

LA BATAILLE DE L'HEURE 2

INFORMATION : TU VAS APPRENDRE À LIRE L'HEURE.

Le but est de gagner le plus de carte heure. Pour cela il faut savoir lire l'heure le plus vite.

Consigne : à tour de rôle tirer une carte texte et la lire, les autres concurrents doivent trouver le plus vite possible l'horloge qui correspond.

J'ai gagné _____ carte heure sur _____ jouées.

 <http://ouestmoncrayon.eklablog.com> 

ATELIER MATHÉMATIQUES

LA BATAILLE DE L'HEURE 2

INFORMATION : TU VAS APPRENDRE À LIRE ET ÉCRIRE L'HEURE.

Le but est de gagner le plus de carte heure. Pour cela il faut savoir lire l'heure et écrire l'heure le plus vite.

Consigne : à tour de rôle tirer une carte texte et la lire, les autres concurrents doivent trouver le plus vite possible l'horloge qui correspond.

J'ai gagné _____ carte heure sur _____ jouées.

 <http://ouestmoncrayon.eklablog.com> 

ATELIER MATHÉMATIQUES

LA BATAILLE DE L'HEURE 2

INFORMATION : TU VAS APPRENDRE À LIRE L'HEURE.

Le but est de gagner le plus de carte heure. Pour cela il faut savoir lire l'heure.

Consigne : à tour de rôle tirer une carte texte et la lire, les autres concurrents doivent trouver le plus vite possible l'horloge qui correspond.

J'ai gagné _____ carte heure sur _____ jouées.

 <http://ouestmoncrayon.eklablog.com> 

ATELIER MATHÉMATIQUES

LA BATAILLE DE L'HEURE 2

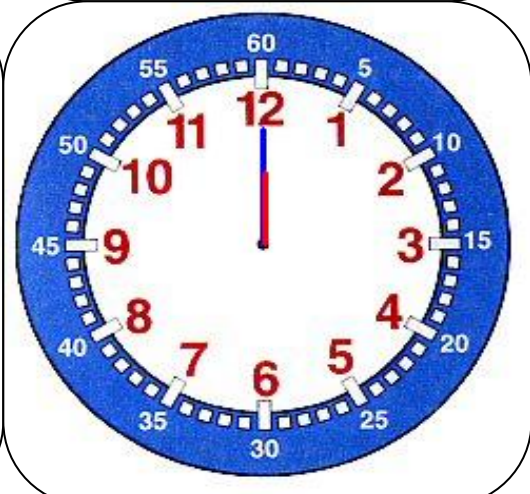
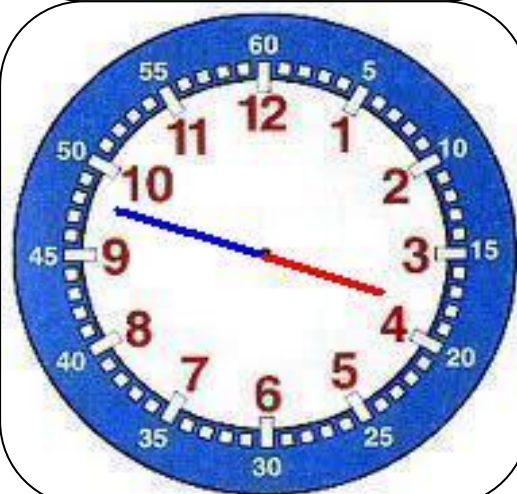
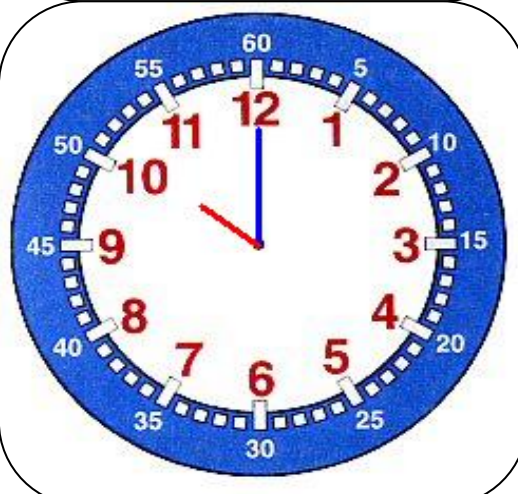
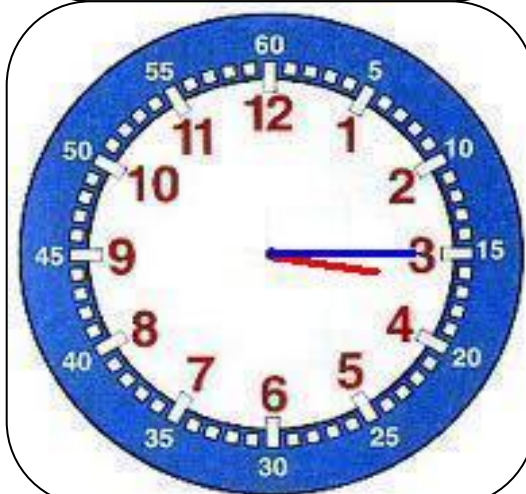
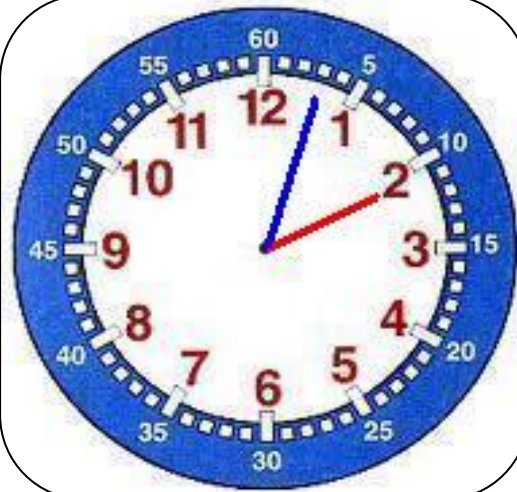
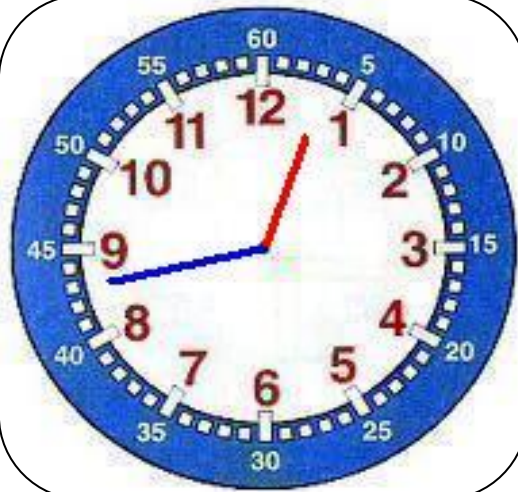
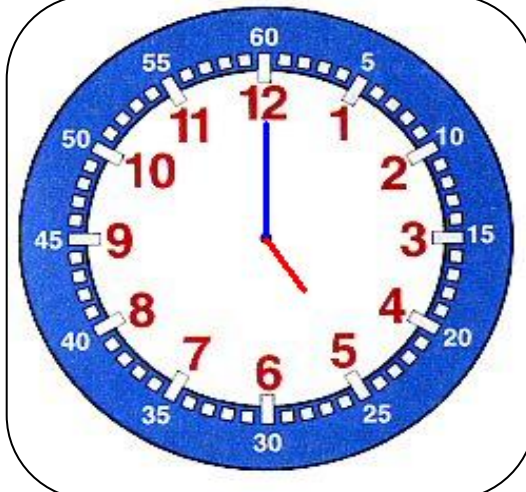
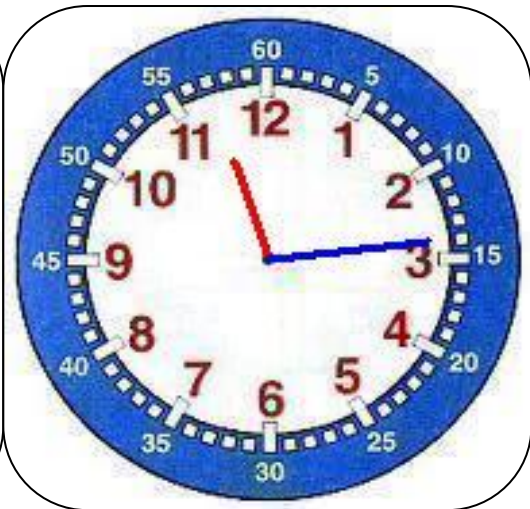
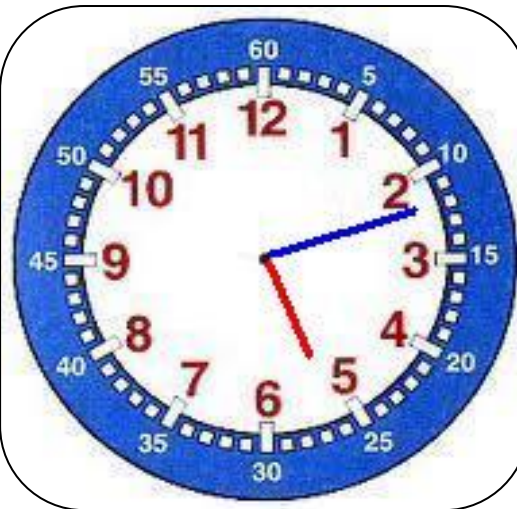
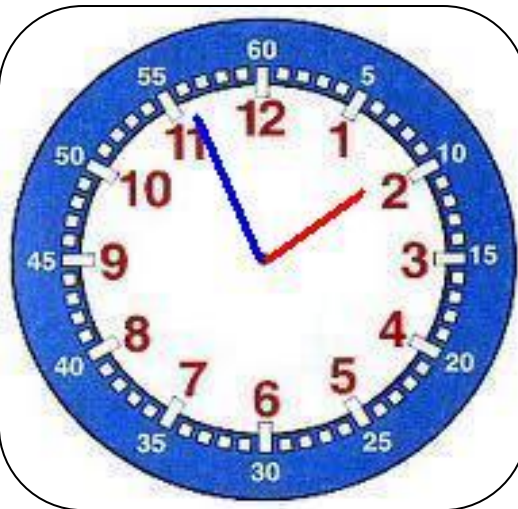
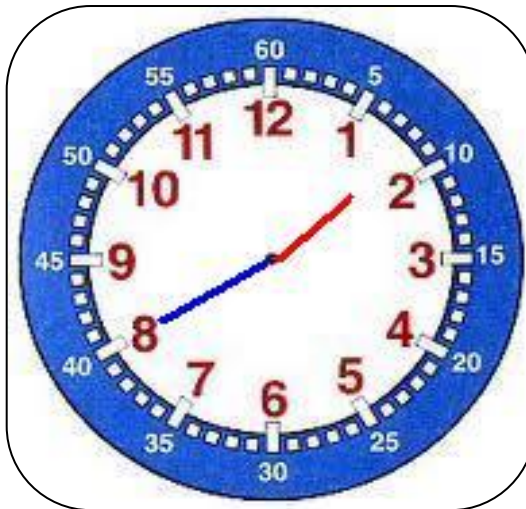
INFORMATION : TU VAS APPRENDRE À LIRE ET ÉCRIRE L'HEURE.

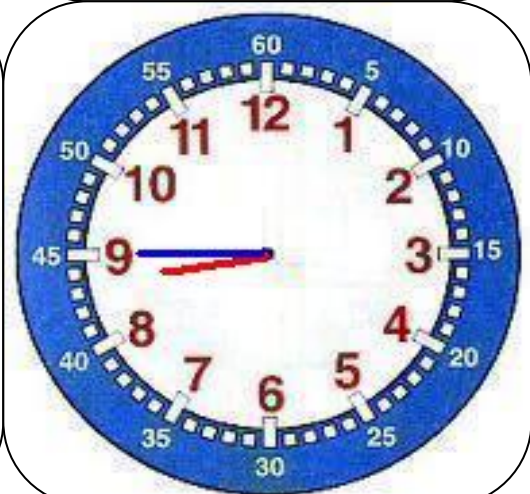
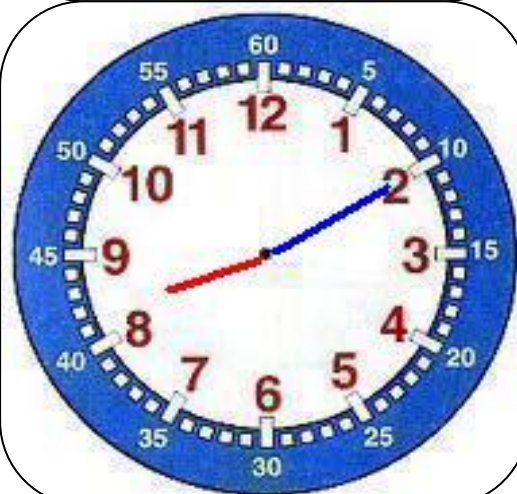
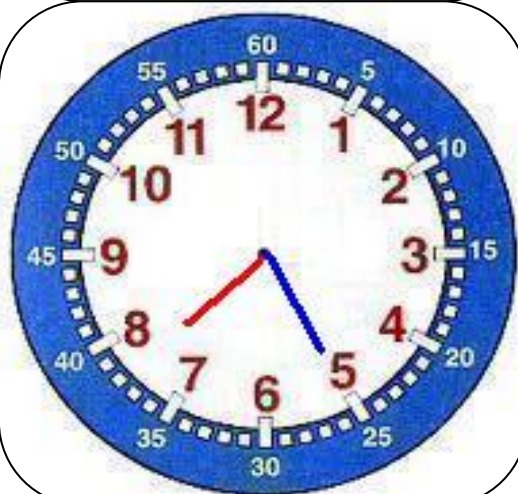
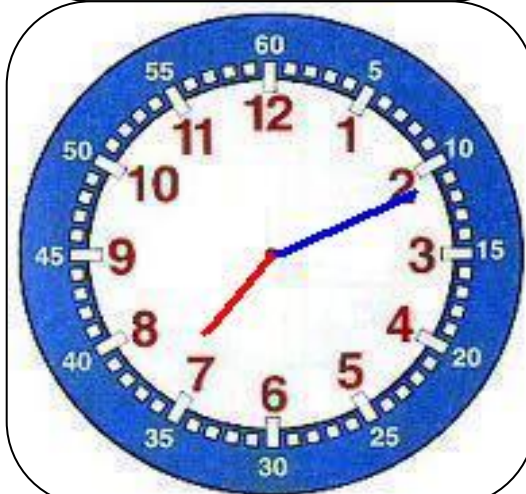
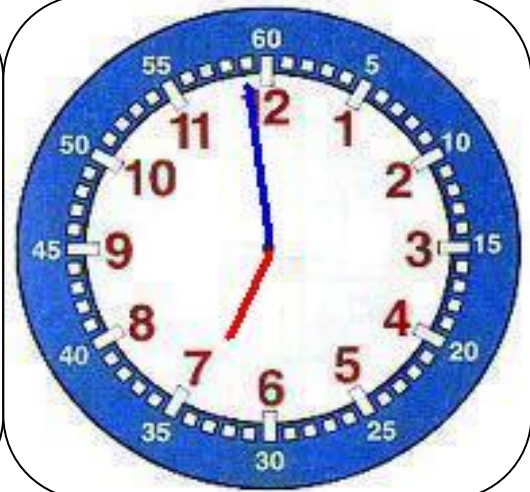
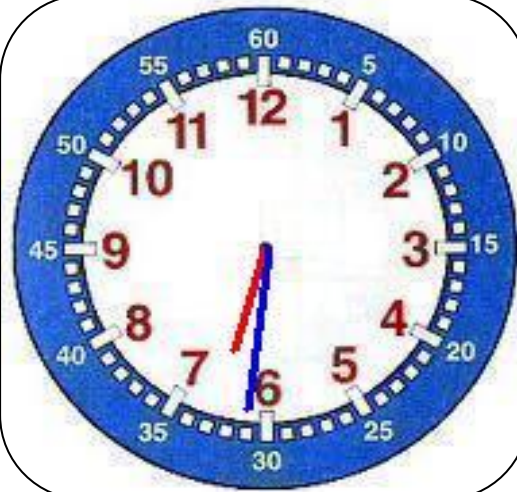
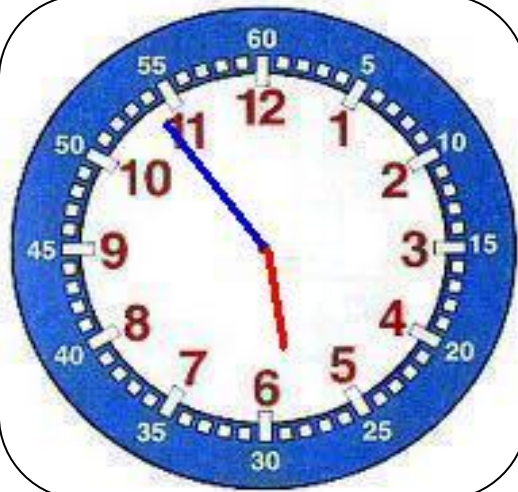
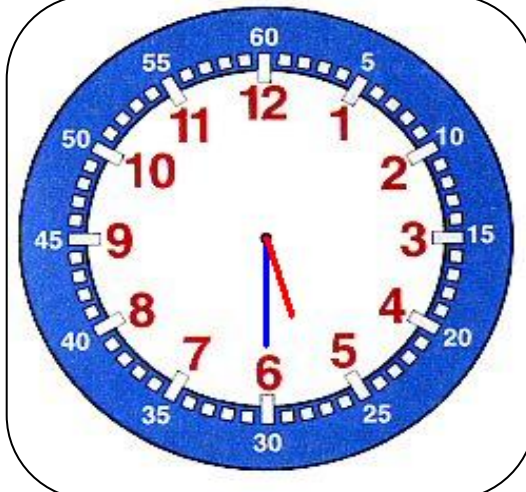
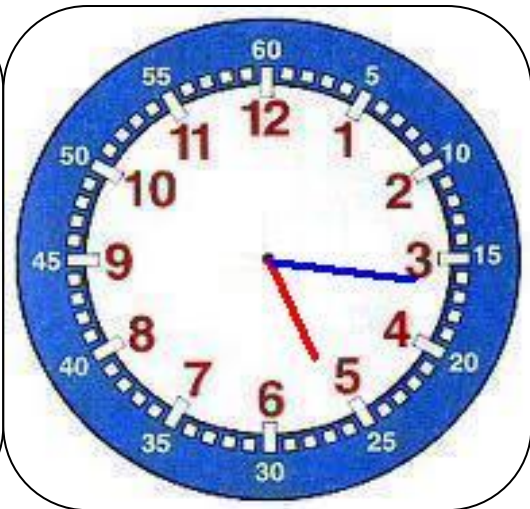
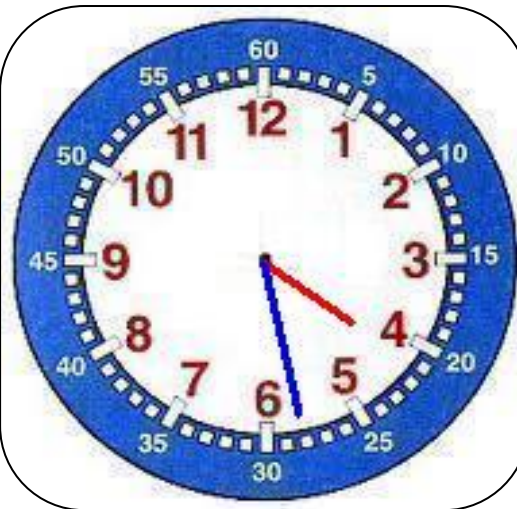
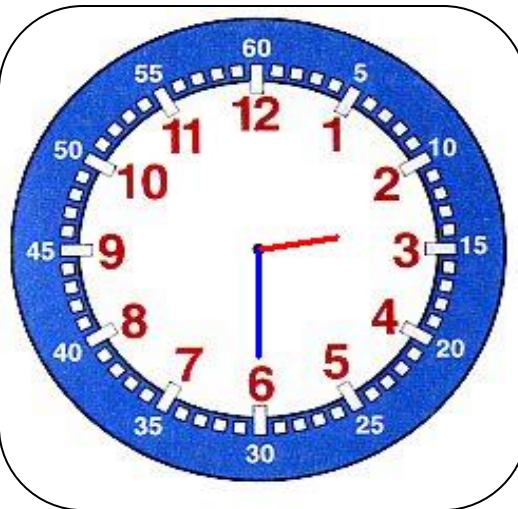
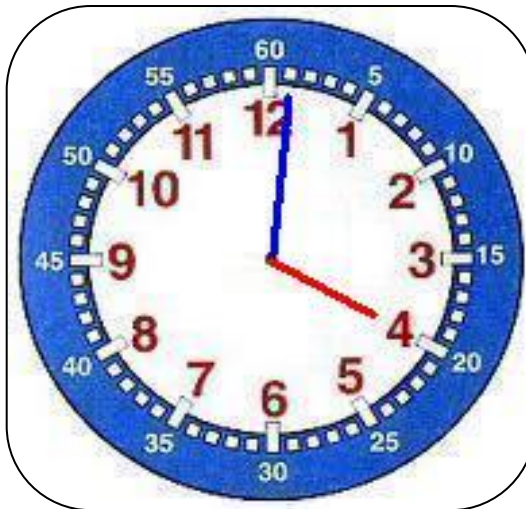
Le but est de gagner le plus de carte heure. Pour cela il faut savoir lire l'heure et écrire l'heure.

Consigne : à tour de rôle tirer une carte texte et la lire, les autres concurrents doivent trouver le plus vite possible l'horloge qui correspond.

J'ai gagné _____ carte heure sur _____ jouées.

 <http://ouestmoncrayon.eklablog.com> 





Monsieur Martin a un train pour Paris à **13h40** (1h40 de l'après-midi).

Madame Martin a rencontré Mme Michelle à **13h56** (1h56 de l'après-midi).

Monsieur Paul a rendez-vous à **17 h12** chez le médecin (5h12 de l'après-midi).

Madame Michelle doit sortir du four son gâteau à **11h14**.

Monsieur Martin a rendez-vous à **17h00** avec Monsieur Paul.

Madame Martin a un train pour Lyon à **12h48**.

Monsieur Paul arrive à **14h03** (2h03 de l'après-midi) chez le dentiste.

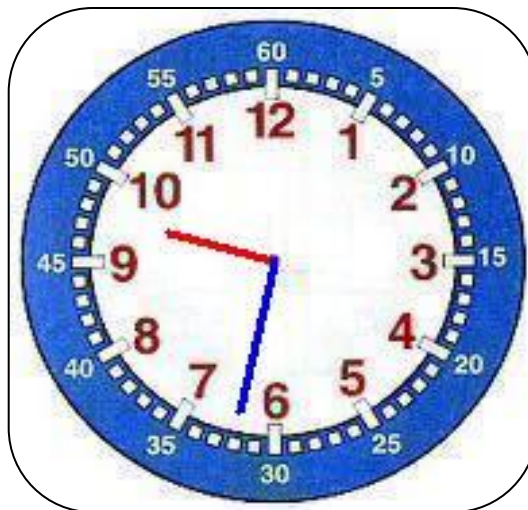
Madame Michelle a rendez-vous à **14h30** chez le coiffeur mais elle arrive à **14h33**.

Monsieur Henri a rendez-vous à **15 h15** (3h15 de l'après-midi) chez le médecin.

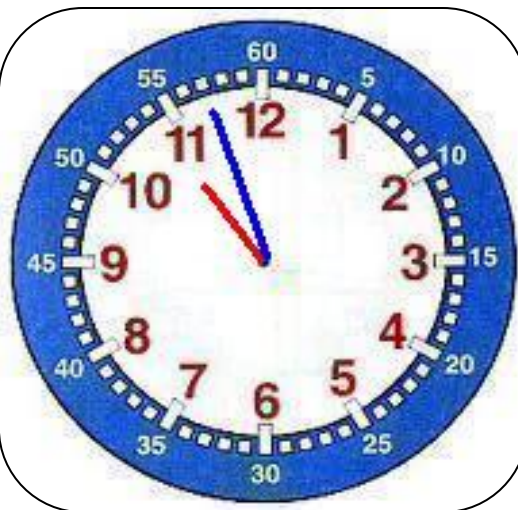
Madame Gentil a rendez-vous à **10h00** au musée avec M. Henri.

Monsieur Bidon a rendez-vous chez sa mère, il arrive à **15 h48** (3h48 de l'après-midi).

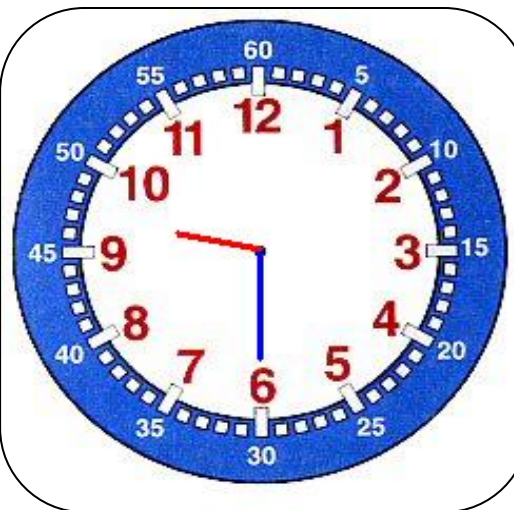
Madame Henri a rendez-vous à **12h00** avec Madame Graindorge.



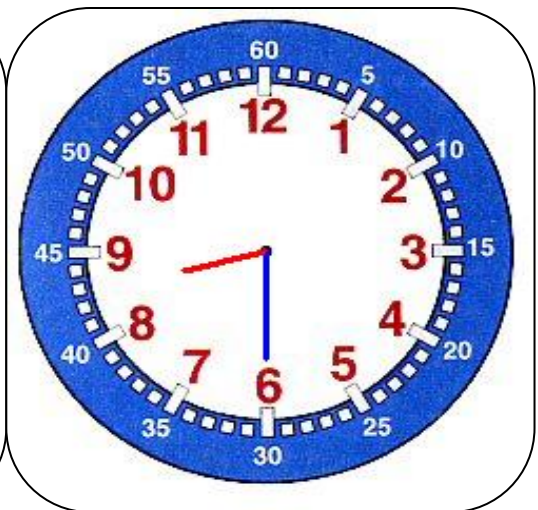
Monsieur Nuit
se couche à
4h01.



Madame Dodo
va faire sa
sieste à **14h30**
(2h30 de l'après-
midi).



Monsieur Dodo
sort de son lit
à **16 h28** (4h28
de l'après-midi).



Madame Choux
sort de chez
elle à **17h16**
(5h16 de l'après-
midi).



Monsieur Nuit a
rendez-vous à
5h30 avec
Madame Nuit.



Madame Dodo
était dans son
lit à **17h54**
(5h54 de l'après-
midi).



Monsieur
Choux rentre
chez lui à
18h31 (6h31 de
l'après-midi).



Madame Choux
arrive chez elle
à **18h59** (6h59
de l'après-midi).

Monsieur
Debout s'est
réveillé à **7h11**.

Madame
Debout s'est
réveillée à
7h25.

Monsieur Livre
ouvre son
magasin à
8h10.

Madame Henri
se couche à
20h45 (8h45 de
l'après-midi).

Monsieur
Gentil part au
travail à **9h32**.

Madame Nuit
quitte son
travail à **10h57**
et elle rentre
se coucher.

Monsieur Livre
ferme son livre
et se couche à
21h30 (9h30 de
l'après-midi).

A **20h30** (8h30
de l'après-midi)
Madame Dodo
dort depuis
longtemps.

