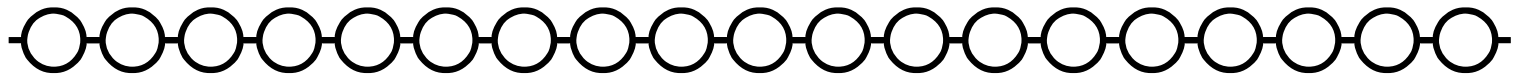


Date : ___ / ___ / ___

Correction : ○



Combien cela fait-il ?



★ a)

Cela fait ___ € ___ .



★ b)

Cela fait ___ € ___ .

Compose avec les billets puis dessine.

★ a) 32€10

★★ b) 62€35

Additionne.

★ a) 5 € + 2 € 30

★★ b) 12 € + 3 € 20

★★★ c) 7 € 50 + 8 € 20

Compare < ou >.

★ a) 7 € 50 ___ 7 €

★ b) 2 € 80 ___ 3 €

★ c) 2 € 50 ___ 2 €

Date : ___ / ___ / ___

Correction : ○



Combien cela fait-il ?



Cela fait ___ € ___.



Cela fait ___ € ___.

Compose avec les billets puis dessine.

★ a) 45€15

★★ b) 39€70

Additionne.

★ a) 10 € + 2 € 30

★★ b) 15 € + 3 € 20

★★★ c) 6 € 50 + 8 € 40

Compare < ou >.

★ a) 11 € ___ 7 € 80

★ b) 2 € ___ 3 € 50

★ c) 55 € ___ 5 € 55

Date : ___ / ___ / ___

Correction : ○



Combien cela fait-il ?



★ a)



Cela fait ___ € ___.



★ b)

Cela fait ___ € ___.

Compose avec les billets puis dessine.

★ a) 75€20

★★ b) 47€50

Additionne.

★ a) 6 € 50 € + 2 € 30

★★ b) 10 € 50 + 3 € 20

★★★ c) 8 € 50 + 13 € 10

Compare < ou >.

★ a) 80 € 80 ___ 80 € 90

★ b) 5 € ___ 5 € 10

★ c) 20 € ___ 20 € 35

Date : ___ / ___ / ___

Correction : ○



Combien cela fait-il ?



★ a)



Cela fait ___ € ___ .



★ b)



Cela fait ___ € ___ .

Compose avec les billets puis dessine.

★ a) 63€80

★★ b) 40€30

Additionne.

★ a) 3 € + 80 € 30

★★ b) 5 € + 7 € 60

★★★ c) 7 € 10 + 2 € 20

Compare < ou >.

★ a) 1 € 90 ___ 19 €

★ b) 6 € 40 ___ 6 € 35

★ c) 65 € ___ 6 € 50


Date : ___ / ___ / ___

Correction : ○



Compétence : Utiliser les euros dans différentes situations

Combien cela fait-il ?



Cela fait ___ € ___.



Cela fait ___ € ___.

Compose avec les billets puis dessine.

a) 46€50

b) 73€60

Additionne.

a) 20 € 60 + 2 € 30

b) 12 € 70 + 4 € 10

c) 9 € 50 + 8 € 50

Compare < ou >.

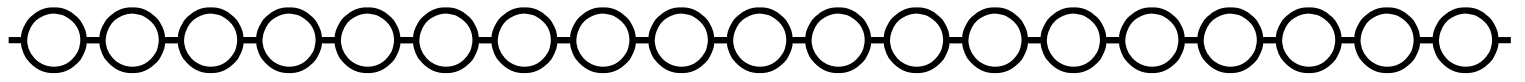
a) 6 € 50 ___ 5 € 60

b) 5 € 90 ___ 7 €

c) 8 € ___ 7 € 90

Date : ___ / ___ / ___

Correction : ○



Combien cela fait-il ?



★ a)



Cela fait ___ € ___ .



★ b)



Cela fait ___ € ___ .

Compose avec les billets puis dessine.

★ a) 27€70

★★ b) 65€30

Additionne.

★ a) 9 € 50 + 2 € 30

★★ b) 12 € 40 + 2 € 20

★★★ c) 7 € 50 + 1 € 20

Compare < ou >.

★ a) 47 € ___ 7 € 90

★ b) 55 € ___ 50 € 00

★ c) 7 € 45 ___ 7 € 05

Date : ___ / ___ / ___

Correction : ○



Combien cela fait-il ?



★ a)



Cela fait ___ € ___.



★ b)



Cela fait ___ € ___.

Compose avec les billets puis dessine.

★ a) 28€40

★★ b) 88€10

Additionne.

★ a) 15 € 70 + 5 € 20

★★ b) 19 € 90 + 2 € 10

★★★ c) 35 € 10 + 5 € 10

Compare < ou >.

★ a) 13 € 45 ___ 134 € 50

★ b) 5 € 65 ___ 5 € 55

★ c) 2 € 25 ___ 25 € 20

Date : ___ / ___ / ___

Correction : ○

Compétence : Utiliser les euros dans différentes situations

Combien cela fait-il ?



Cela fait ___ € ___ .



Cela fait ___ € ___ .

Compose avec les billets puis dessine.

a) 11€75

b) 94€20

Additionne.

a) $8 \text{ € } 60 + 4 \text{ € } 30$

b) $17 \text{ € } 20 + 3 \text{ € } 10$

c) $25 \text{ € } 50 + 5 \text{ € } 20$

Compare < ou >.

a) $42 \text{ € } 10 \text{ ___ } 43 \text{ €}$

b) $2 \text{ € } 70 \text{ ___ } 5 \text{ €}$

c) $5 \text{ € } 45 \text{ ___ } 45 \text{ €}$