

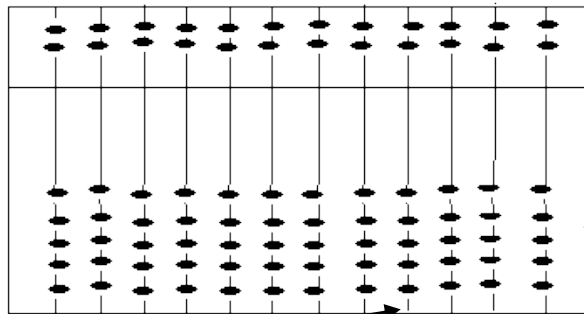



Le boulier chinois

N...

CE-CM

Nous avons pu observer le boulier chinois de Maëlle et Loann.



Une boule correspond à 5

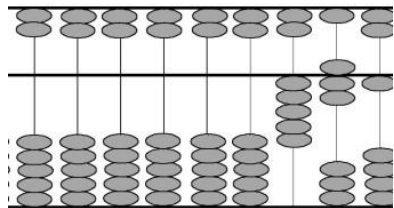
Une boule correspond à 1

Les mille

Les centaines

Les unités

Les dizaines



Quel est ce nombre ?

.....

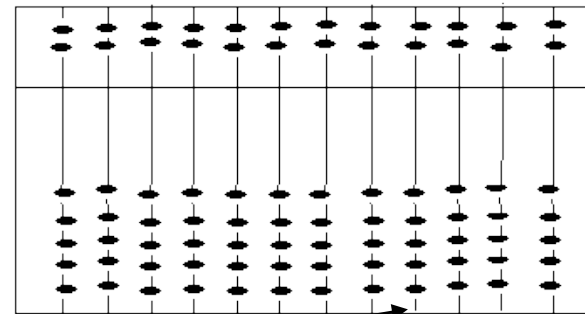


Le boulier chinois

N...

CE-CM

Nous avons pu observer le boulier chinois de Maëlle et Loann.



Une boule correspond à 5

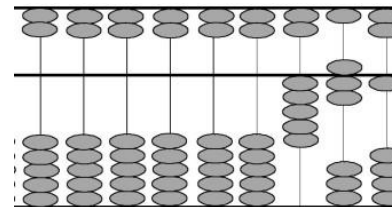
Une boule correspond à 1

Les mille

Les centaines

Les unités

Les dizaines



Quel est ce nombre ?

.....