

Problème : les courses pour les crêpes (1)

Voici les ingrédients de la recette de la pâte à crêpes pour un groupe.

Cherche quelle quantité la maitresse devra acheter de chaque ingrédient pour groupes.

Dresse la liste des courses de la maîtresse sur un petit papier.

Pour 1 groupe					
	2 œufs	125 g de farine	25 cl de lait	1 pincée de sel	1 cuillère à soupe d'huile






Pour groupes	Dessin					
	calcul					
	réponse	... œufs	... g de farine	... cl de lait	... pincées de sel	... cuillères à soupe d'huile

Problème : les courses pour les crêpes (2)

Voici les prix proposés par le magasin.

Indique pour chaque produit la quantité que nous devons acheter, puis le prix. Calcule si besoin sur ton cahier de brouillon.

Enfin, calcule le prix total de ces courses.

produit					
prix	0,99€	0,55€	0,78€	1,98€	0,35€
Quantité proposée par le magasin	1 bouteille = 100cL (1L)	1 oeuf	1 paquet = 1000 g (1Kg)	1 bouteille = 1L	1 paquet = 750g
Quantité que nous devons acheter					
Prix que ça va nous coûter					
Prix total					