



Nom : .....	<b>Test Ceinture Noire de Calcul Mental</b>	
Date : .....		
<input type="checkbox"/> Bravo <input type="checkbox"/> Tu y es presque <input type="checkbox"/> Tu dois encore t'entraîner		Score : ..... sur 50 points


**Tu as 5 minutes pour réussir un maximum de calculs !**

- |                     |                             |                          |                        |                          |
|---------------------|-----------------------------|--------------------------|------------------------|--------------------------|
| 4 x 25 = .....      | 356 pour aller à 400 = .... | Moitié de 16 = .....     | Tiers de 48 = .....    | 51 : 6 ? q = ... r = ... |
| 9 + 25 + 31 = ..... | 819 pour aller à 900 = .... | 17 000 : 100 = .....     | 8 + 2, 8 = .....       | 54 : 7 ? q = ... r = ... |
| 32 + 18 + 9 = ..... | 227 pour aller à 300 = .... | 19 : 2 ? q = ... r = ... | 23 + 7 + 14 = .....    | 38 : 5 ? q = ... r = ... |
| 103 + 9 = .....     | 50 - 9 = .....              | 109 + 11 = .....         | 37 - 9 = .....         | 3,7 + ..... = 4          |
| 58 - 9 = .....      | 7 x 20 = .....              | 900 : 10 = .....         | 2x 10 x 4 = .....      | Triple de 25 = .....     |
| 41 + 9 = .....      | 66 - 11 = .....             | 230 + 11 = .....         | 2 + 1, 7 = .....       | 70 : 8 ? q = ... r = ... |
| 128 - 11 = .....    | 40 x 80 = ....              | Double de 29 = .....     | 62 - 11 = .....        | 6,1 + ..... = 7          |
| 3 x 15 = .....      | 170 : 10 = .....            | Double de 11 = .....     | Quadruple de 11 = .... | 9,2 + ..... = 10         |
| 4 x 5 x 7 = .....   | 8100 : 100 = .....          | 6 x 50 = .....           | 6,1 + 4 = .....        | 51 + 6 + 14 = .....      |
| 3 x 4 x 5 = .....   | 7 x 300 = .....             | 3 + 4, 5 = .....         | Quart de 60 = .....    | 12,5 + ..... = 13        |

Nom : .....	<b>Test Ceinture Noire de Calcul Mental</b>	
Date : .....		
<input type="checkbox"/> Bravo <input type="checkbox"/> Tu y es presque <input type="checkbox"/> Tu dois encore t'entraîner		Score : ..... sur 50 points

**Tu as 5 minutes pour réussir un maximum de calculs !**

- |                     |                             |                          |                        |                          |
|---------------------|-----------------------------|--------------------------|------------------------|--------------------------|
| 4 x 25 = .....      | 356 pour aller à 400 = .... | Moitié de 16 = .....     | Tiers de 48 = .....    | 51 : 6 ? q = ... r = ... |
| 9 + 25 + 31 = ..... | 819 pour aller à 900 = .... | 17 000 : 100 = .....     | 8 + 2, 8 = .....       | 54 : 7 ? q = ... r = ... |
| 32 + 18 + 9 = ..... | 227 pour aller à 300 = .... | 19 : 2 ? q = ... r = ... | 23 + 7 + 14 = .....    | 38 : 5 ? q = ... r = ... |
| 103 + 9 = .....     | 50 - 9 = .....              | 109 + 11 = .....         | 37 - 9 = .....         | 3,7 + ..... = 4          |
| 58 - 9 = .....      | 7 x 20 = .....              | 900 : 10 = .....         | 2x 10 x 4 = .....      | Triple de 25 = .....     |
| 41 + 9 = .....      | 66 - 11 = .....             | 230 + 11 = .....         | 2 + 1, 7 = .....       | 70 : 8 ? q = ... r = ... |
| 128 - 11 = .....    | 40 x 80 = ....              | Double de 29 = .....     | 62 - 11 = .....        | 6,1 + ..... = 7          |
| 3 x 15 = .....      | 170 : 10 = .....            | Double de 11 = .....     | Quadruple de 11 = .... | 9,2 + ..... = 10         |
| 4 x 5 x 7 = .....   | 8100 : 100 = .....          | 6 x 50 = .....           | 6,1 + 4 = .....        | 51 + 6 + 14 = .....      |
| 3 x 4 x 5 = .....   | 7 x 300 = .....             | 3 + 4, 5 = .....         | Quart de 60 = .....    | 12,5 + ..... = 13        |

<sup>2</sup> Nom : ..... Date : .....	<h2 style="margin: 0;">Test Ceinture Noire de Calcul Mental</h2>	
<input type="checkbox"/> Bravo <input type="checkbox"/> Tu y es presque <input type="checkbox"/> Tu dois encore t'entraîner		Score : ..... sur 50 points

**Tu as 5 minutes pour réussir un maximum de calculs !**

- |                     |                             |                          |                         |                          |
|---------------------|-----------------------------|--------------------------|-------------------------|--------------------------|
| 4 x 20 = .....      | 384 pour aller à 400 = .... | Moitié de 50 = .....     | Tiers de 45 = .....     | 82 : 9 ? q = ... r = ... |
| 9 + 63 + 17 = ..... | 801 pour aller à 900 = .... | 9200 : 100 = .....       | 9 + 2, 3 = .....        | 22 : 7 ? q = ... r = ... |
| 31 + 18 + 9 = ..... | 258 pour aller à 300 = .... | 17 : 2 ? q = ... r = ... | 3 + 16 + 14 = .....     | 48 : 5 ? q = ... r = ... |
| 91 + 9 = .....      | 82 - 9 = .....              | 94 + 11 = .....          | 33 - 9 = .....          | 6,3 + ..... = 7          |
| 34 - 9 = .....      | 14 x 20 = .....             | 1000 : 10 = .....        | 2 x 5 x 4 = .....       | Triple de 15 = .....     |
| 58 + 9 = .....      | 60 - 11 = .....             | 523 + 11 = .....         | 9 + 0, 7 = .....        | 26 : 8 ? q = ... r = ... |
| 117 - 11 = .....    | 7 x 80 = .....              | Double de 39 = .....     | 87 - 11 = .....         | 6,8 + ..... = 7          |
| 4 x 15 = .....      | 800 : 10 = .....            | Double de 15 = .....     | Quadruple de 21 = ..... | 0,8 + ..... = 1          |
| 3 x 5 x 6 = .....   | 1700 : 100 = .....          | 6 x 25 = .....           | 6,7 + 3 = .....         | 51 + 19 + 4 = .....      |
| 2 x 7 x 5 = .....   | 4 x 300 = .....             | 7 + 6, 5 = .....         | Quart de 100 = .....    | 12,7 + ..... = 13        |

<sup>2</sup> Nom : ..... Date : .....	<h2 style="margin: 0;">Test Ceinture Noire de Calcul Mental</h2>	
<input type="checkbox"/> Bravo <input type="checkbox"/> Tu y es presque <input type="checkbox"/> Tu dois encore t'entraîner		Score : ..... sur 50 points

**Tu as 5 minutes pour réussir un maximum de calculs !**

- |                     |                             |                          |                         |                          |
|---------------------|-----------------------------|--------------------------|-------------------------|--------------------------|
| 4 x 20 = .....      | 384 pour aller à 400 = .... | Moitié de 50 = .....     | Tiers de 45 = .....     | 82 : 9 ? q = ... r = ... |
| 9 + 63 + 17 = ..... | 801 pour aller à 900 = .... | 9200 : 100 = .....       | 9 + 2, 3 = .....        | 22 : 7 ? q = ... r = ... |
| 31 + 18 + 9 = ..... | 258 pour aller à 300 = .... | 17 : 2 ? q = ... r = ... | 3 + 16 + 14 = .....     | 48 : 5 ? q = ... r = ... |
| 91 + 9 = .....      | 82 - 9 = .....              | 94 + 11 = .....          | 33 - 9 = .....          | 6,3 + ..... = 7          |
| 34 - 9 = .....      | 14 x 20 = .....             | 1000 : 10 = .....        | 2 x 5 x 4 = .....       | Triple de 15 = .....     |
| 58 + 9 = .....      | 60 - 11 = .....             | 523 + 11 = .....         | 9 + 0, 7 = .....        | 26 : 8 ? q = ... r = ... |
| 117 - 11 = .....    | 7 x 80 = .....              | Double de 39 = .....     | 87 - 11 = .....         | 6,8 + ..... = 7          |
| 4 x 15 = .....      | 800 : 10 = .....            | Double de 15 = .....     | Quadruple de 21 = ..... | 0,8 + ..... = 1          |
| 3 x 5 x 6 = .....   | 1700 : 100 = .....          | 6 x 25 = .....           | 6,7 + 3 = .....         | 51 + 19 + 4 = .....      |
| 2 x 7 x 5 = .....   | 4 x 300 = .....             | 7 + 6, 5 = .....         | Quart de 100 = .....    | 12,7 + ..... = 13        |