

Mathématiques CP - Année 2015/2016 - Bilan 1



Date : _____

Ton prénom : _____

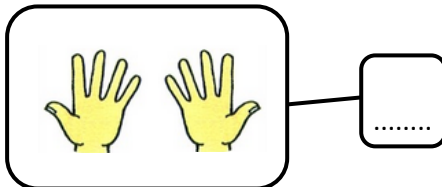




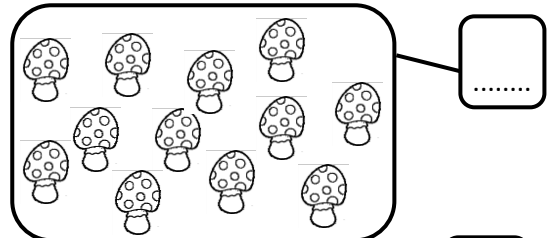



Zoé doit compléter le Zigotron.

Ecris le nombre de gommettes qu'elle doit commander.



Ecris le nombre d'objets ou de doigts levés.



Ecoute et suis les consignes dictées par la maîtresse

Consignes passées oralement :

- Entoure le lapin qui est **devant** le panier.
- Barre le lapin qui est **à l'intérieur** du panier.
- Colorie en vert sur le linge qui est **au-dessus** de la jupe.
- Colorie en bleu le pantalon qui est **tout en haut**.
- Dessine un rond violet **sous** la culotte.
- Colorie en jaune l'oiseau qui est **sur** le fil.
- Colorie en rouge le bras **droit** du garçon.
- Dessine une croix **à gauche** de la petite fille.
- Colorie en rose le nuage qui est **derrière** le soleil.

