



Ton prénom :

date :

5 Mets de l'ordre dans ces nombres, range-les en ordre croissant. (croître = grandir).

2 154	1 254	2 514	5 145	2 451	4 152

6 Mets de l'ordre dans ces nombres, range-les en ordre décroissant. (décroître = diminuer).

7 069	9 607	7 690	7 609	9 067	9 670

7 Utilise les signes de mathématiques. Complète avec l'un de ces signes :

+   -   =   <   >   ≠

150 ..... 50 = 100

3 000..... 200 = 1000 + 1000 + 1000 + 200

2 540 + 5 ..... 2 + 545

5000 + 20 + 3 ..... 2000 + 50 + 3

84 564 ..... 46 548

8000 + 200 + 9 ..... 9000 + 1

8 Compter de x en x. a) Compte de **2** en **2** de **222** jusqu'à **244** .

222												
-----	--	--	--	--	--	--	--	--	--	--	--	--

b) Observe la suite suivante, puis entoure la bonne réponse.

5205	5210	5215	5220	5225	5230	5235	5240	5245	5250	5255	5260
------	------	------	------	------	------	------	------	------	------	------	------

de 2 en 2

de 5 en 5

de 10 en 10

de 20 en 20

de 25 en 25

de 50 en 50

de 100 en 100.

Ton prénom :

date :

9 Complète ces trois tableaux, 👁 👁 observe bien l'exemple.

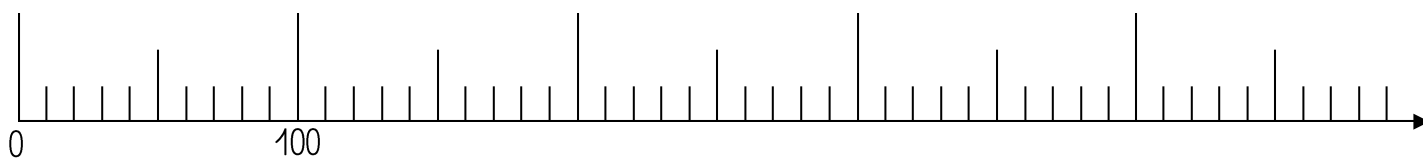
Nombre qui est juste avant celui-ci →		Nombre qui est juste après celui-ci ←		Nombre arrondi à la dizaine avant celui-ci →		Nombre arrondi à la dizaine après celui-ci ←
522	523	524		520	523	530
	754			0	621	0
	236			0	857	0

Nombre arrondi à la centaine avant celui-ci →		Nombre arrondi à la centaine après celui-ci ←
500	523	600
00	292	00
00	753	00

10 ✎ Trace un trait pour placer les nombres sur la demi-droite graduée.

90

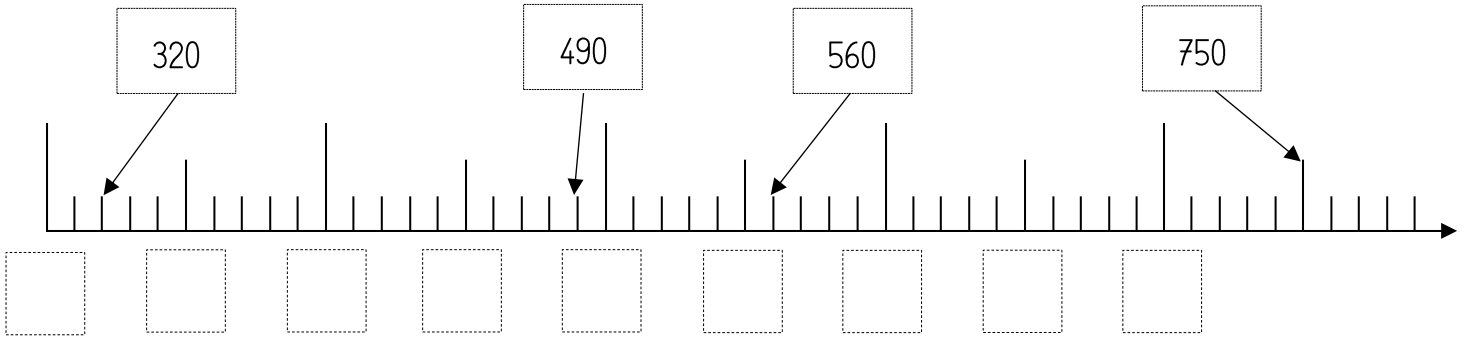
320



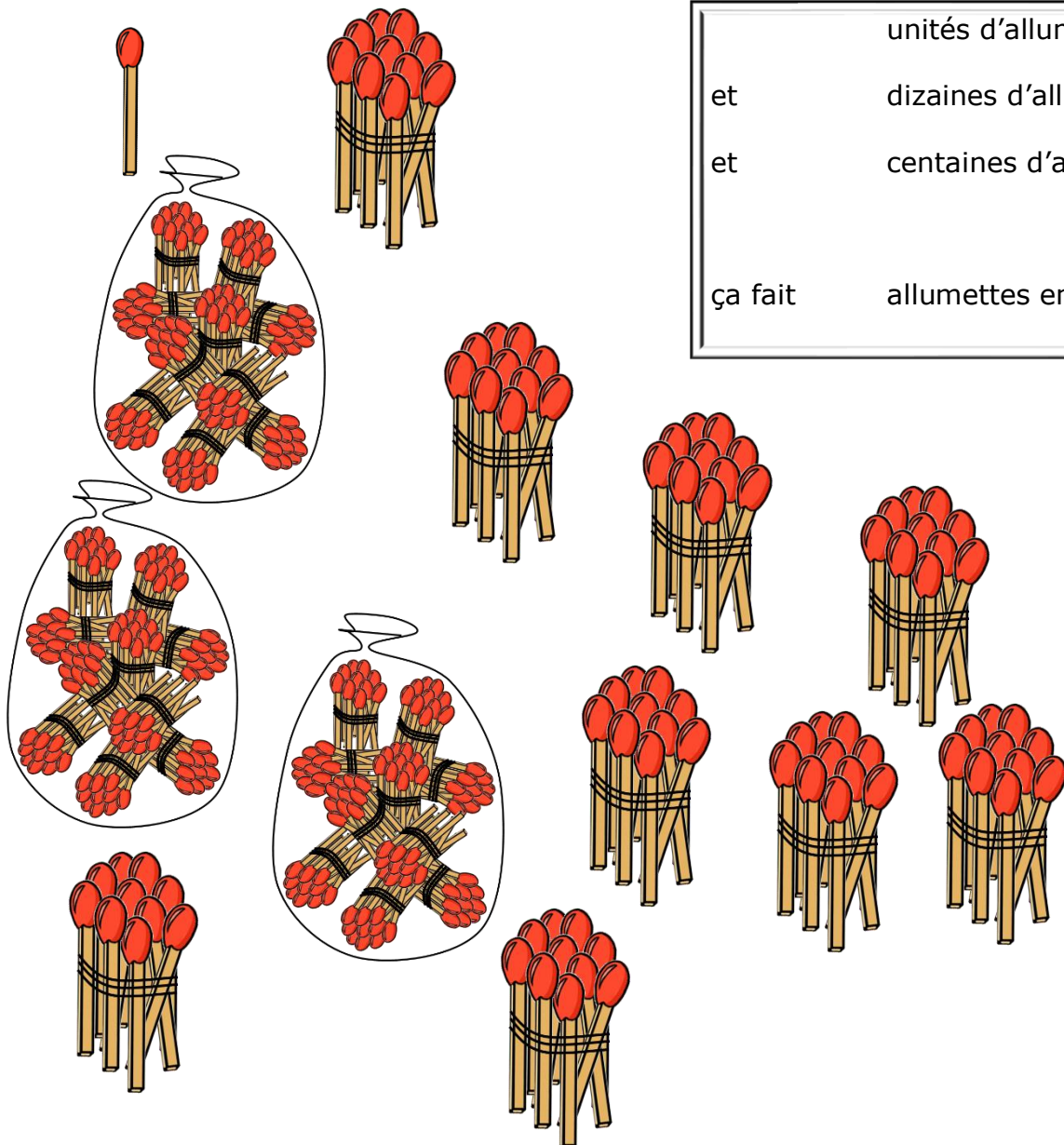
Ton prénom :

date :


11 👁️ 👁️ Observe les nombres et complète la demi-droite graduée.

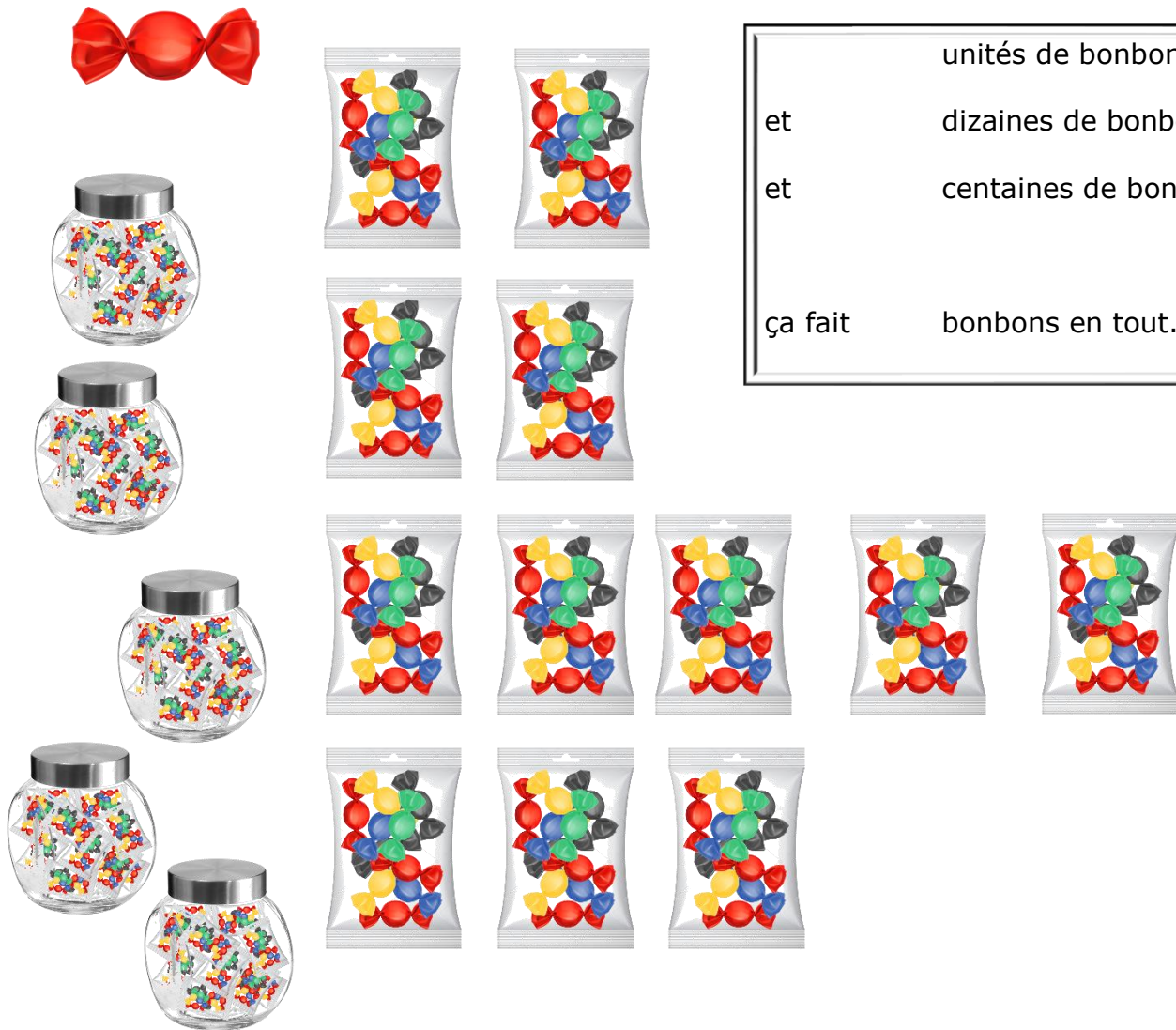


12 ✎ Écris combien tu vois d'allumettes.



	unités d'allumettes
et	dizaines d'allumettes
et	centaines d'allumettes
ça fait	allumettes en tout.

12  Écris combien tu vois de bonbons.



	unités de bonbons
et	dizaines de bonbons
et	centaines de bonbons
ça fait	bonbons en tout.