


Prénom : \_\_\_\_\_

Date: \_\_\_\_\_

## Nombres et quantités: de 0 à 199 999



1 Ecris les nombres manquants :

184 654	- - - -	- - - -	184 657
	- - - -	- - - -	- - - -
	- - - -	- - - -	- - - -
	184 660	- - - -	- - - -
129 002	- - - -	- - - -	- - - -
- - - -	- - - -	- - - -	- - - -
128 998	- - - -	- - - -	- - - -
- - - -	- - - -	- - - -	- - - -

2 Colorie les nombres identiques :

153 258

$(3 \times 10\ 000) + (2 \times 1\ 000) + 5$

32 005

$15\ 000 + 50 + 300 + 8$

15 358

quinze - mille - trois - cent - huit

$100\ 000 + 50\ 000 + 3\ 000 + 200 + 50 + 8$

cent - cinquante - trois - mille - deux - cent - cinquante - huit

3 Complète :

181 242	$100\ 000 + 80\ 000 + 1\ 000 + 200 + 40 + 2$
179 543	
185 647	

Prénom : \_\_\_\_\_

Date: \_\_\_\_\_

## Nombres et quantités : de 0 à 199 999



1 Complète le tableau:

nombre avant	nombre	nombre après
		135 898
156 208		
	156 650	
175 997		

2 Complète avec  $<$ ,  $>$  ou  $=$ :

3  15

154 645 ... 154 945

101 019 ... 110 910      156 672 ... 25 762

185 098 ... 158 850      165 101 ... 164 888

3 Relie les nombres à leur place sur la droite graduée

123 999

124 012

124 008

124 034

124 027

124 000


124 010

124 020

124 030

124 040

4 Complète la bande numérique:



Prénom : \_\_\_\_\_

Date: \_\_\_\_\_

## Nombres et quantités : de 0 à 199 999



1 Encadre le nombre avec les nombres de ton choix:

.....  .....

.....  .....

.....  .....

.....  .....

.....  .....

.....  .....

2 Ecris les nombres dans l'ordre croissant, du plus petit au plus grand:

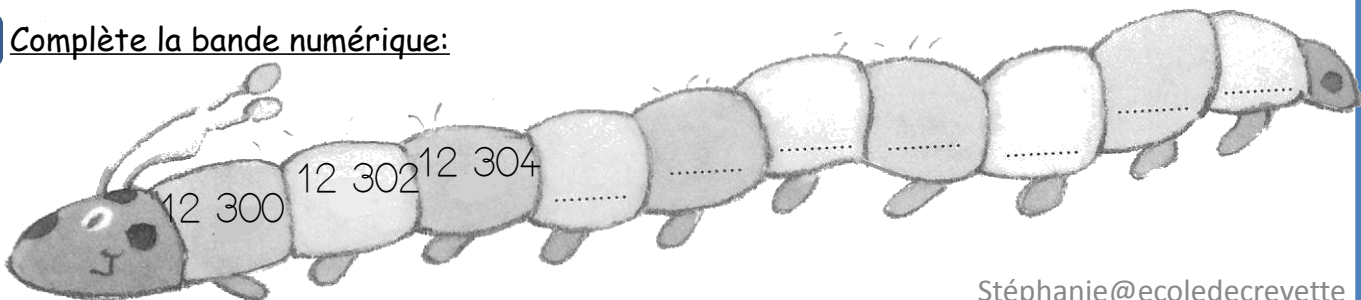
156 852 - 164 785 - 125 467 - 75 986 - 146 257 - 6 345

<input type="text"/>	<input type="text"/>	<input type="text"/>	<input type="text"/>	<input type="text"/>	<input type="text"/>
----------------------	----------------------	----------------------	----------------------	----------------------	----------------------

3 Ecris les nombres en lettres:

156 232	
102 654	
132 498	
195 657	
119 895	

4 Complète la bande numérique:



Prénom : \_\_\_\_\_

Date: \_\_\_\_\_

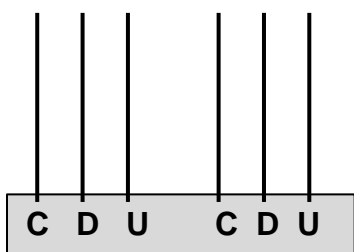
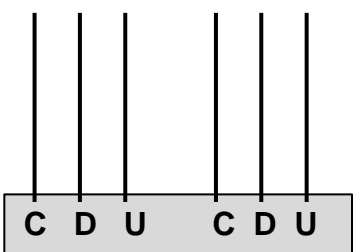
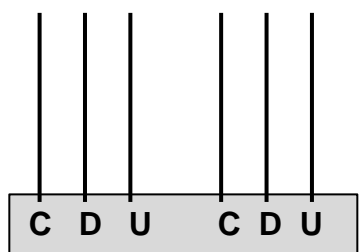
**Nombres et quantités : de 0 à 199 999**



**1 Complète avec <, > ou = :**

156 210	.....	cent - cinquante - quatre - mille - deux - cent
169 283	.....	cent - quarante - cinq - mille - huit - cent
146 360	.....	cent - quarante - six mille - quatre - cent

**2 Complète les abaques :**

		
124 645	125 008	158 670

**3 Complète le tableau :**

145 237	$(1 \times 100\ 000) + (4 \times 10\ 000) + (5 \times 1\ 000) + (2 \times 100) + (3 \times 10) + 7$
186 543	$( \times 100\ 000) + ( \times 10\ 000) + ( \times 1\ 000) + ( \times 100) + ( \times 10) +$
100 409	$( \times 100\ 000) + ( \times 10\ 000) + ( \times 1\ 000) + ( \times 100) + ( \times 10) +$
108 258	$( \times 100\ 000) + ( \times 10\ 000) + ( \times 1\ 000) + ( \times 100) + ( \times 10) +$
	$(1 \times 100\ 000) + (5 \times 10\ 000) + (6 \times 1\ 000) + (4 \times 100) + (5 \times 10) + 3$
	$(1 \times 100\ 000) + (9 \times 10\ 000) + (3 \times 1\ 000) + (5 \times 100) + (5 \times 10) + 9$

Prénom : \_\_\_\_\_

Date: \_\_\_\_\_

## Nombres et quantités : de 0 à 199 999



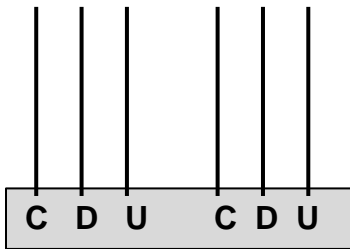
1 Complète les compteurs :

156 894
156 895

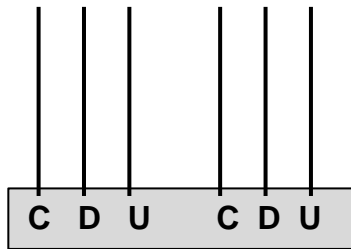
154 162
154 262

145 457
145 467

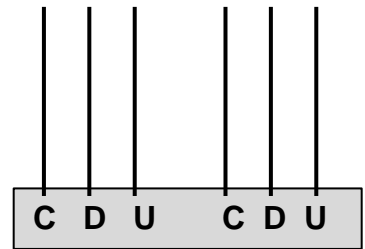
2 Complète les abaques :



146 845



194 852



165 423

3 Relie les nombres à leur place sur la droite graduée :

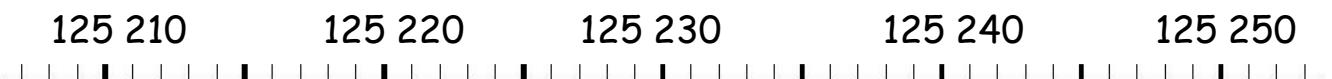
125 212

125 229

125 235

125 239

125 251



## Nombres et quantités : de 0 à 199 999



1 Ecris les nombres suivants en chiffres:

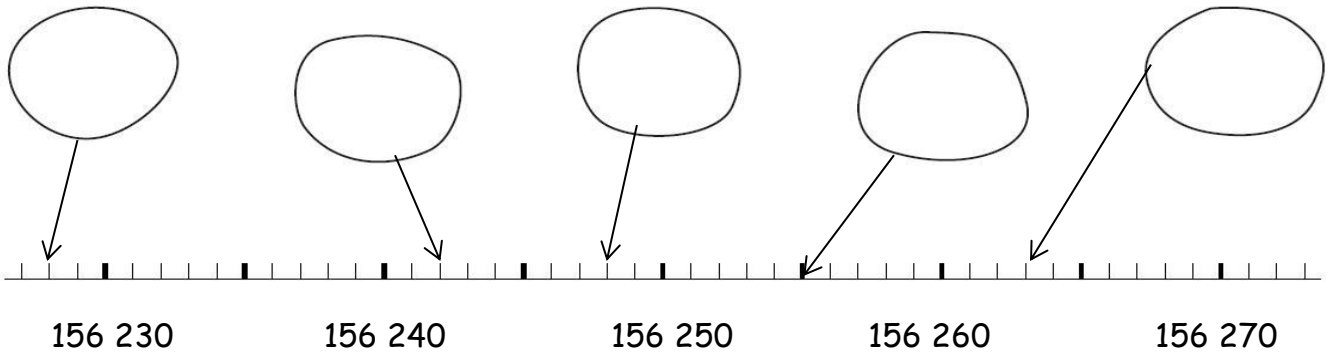
Cent quarante mille neuf cent cinquante-deux :

Cent vingt cinq mille sept cent quatorze:

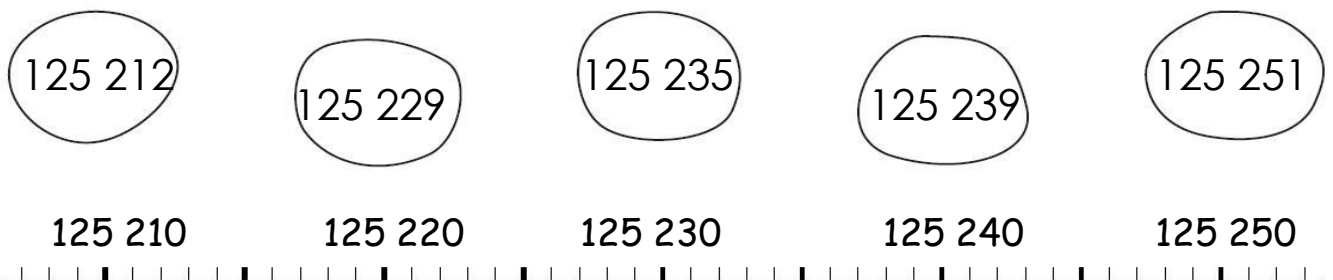
Cent trente cinq mille six cent trois:

Cent quinze mille neuf cent seize:

2 Ecris les nombres correspondants dans les bulles :



3 Relie les nombres à leur place sur la droite graduée :



## Nombres et quantités : de 0 à 199 999



1 Ecris les nombres suivants en chiffres:

Cent soixante quinze mille deux:

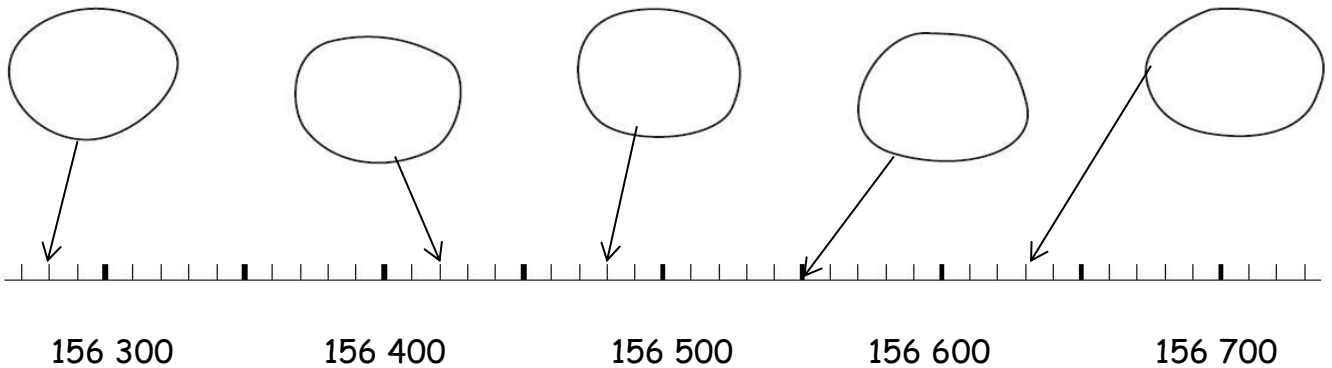
Cent quatre vingt six mille soixante :

Cent mille trois cent vingts :

Cent treize mille six cent huit:

2

Ecris les nombres correspondants dans les bulles :



3

Colorie en bleu les unités, en rouge les dizaines, en vert les centaines, en jaune les unités de mille, en orange les dizaines de milles et en rose les centaines de milles.

156 289

158 001

100 852

115 215

126 003

105 236

162 000

165 248

Prénom : \_\_\_\_\_

Date: \_\_\_\_\_

## Nombres et quantités : de 0 à 199 999



1 Range les nombres dans le tableau :

	Classe des milliers			Classe des unités simples		
	centaines	dizaines	unités	centaines	dizaines	unités
A						
B						
C						
D						
E						
F						
G						
H						
I						
J						
K						
L						
M						
N						
O						

A : 15 263

B : 105 326

C : 5 963

D : 841 236

E : 56

F : 74 562

G : 12 300

H : 84 652

I : 4 236

J : 871

K : 1 485

L : 96 325

M : 849 758

N : 40 120

O : 3