

**A**  
15€  
1 l  
26 cm

**B**  
5€  
2 l  
19 cm

Quelle bouteille est la plus chère?

**A**

**B**

On se sait pas

**A**  
15€  
1 l  
26 cm

**B**  
5€  
2 l  
19 cm

Quelle bouteille est la plus haute?

**A**

**B**

On se sait pas

**A**  
15€  
1 l  
26 cm

**B**  
5€  
2 l  
19 cm

Quelle bouteille contient le plus d'eau ?

**A**

**B**

On se sait pas

**A**  
15€  
1 l  
26 cm



**B**  
5€  
2 l  
19 cm

Quelle bouteille est la plus lourde?



**A**

**B**

On se sait pas



	
20€	22€
2kg	3 kg
32 fruits	39 fruits



**Quel panier est le plus cher?**

	
20€	22€
2kg	3 kg
32 fruits	39 fruits



**Quel panier est le plus léger?**

		On se sait pas
---	---	----------------



		On se sait pas
---	---	----------------


	
20€	22€
2kg	3 kg
32 fruits	39 fruits

**Quel panier contient le moins de fruits?**

	
20€	22€
2kg	3 kg
32 fruits	39 fruits



**Quel panier est le plus lourd?**



		On se sait pas
---	---	----------------

		On se sait pas
---	---	----------------

	
1 m 31	1m 40
34kg	38 kg
11 ans	10 ans



Quel garçon est le plus grand?

		On se sait pas
---	---	----------------



	
1 m 31	1m 40
34kg	38 kg
11 ans	10 ans



Quel garçon est le plus lourd?

		On se sait pas
---	---	----------------



	
1 m 31	1m 40
34kg	38 kg
11 ans	10 ans

Quel garçon est le plus vieux?

		On se sait pas
---	---	----------------

	
1 m 31	1m 40
34kg	38 kg
11 ans	10 ans

Quel garçon est le plus rapide?

		On se sait pas
---	---	----------------



	
90 km	40 km
50 minutes	45 minutes
2 passagers	5 passagers

**Quel trajet est le plus cher?**

		On se sait pas
---	---	----------------



	
90 km	40 km
50 minutes	45 minutes
2 passagers	5 passagers

**Quel trajet est le plus long?**

		On se sait pas
---	---	----------------



	
90 km	40 km
50 minutes	45 minutes
2 passagers	5 passagers


**Quel trajet est le plus rapide?**

		On se sait pas
---	---	----------------


	
90 km	40 km
50 minutes	45 minutes
2 passagers	5 passagers

**Quel trajet est le plus court?**

		On se sait pas
---	---	----------------



88 €  
20cmx20cm  
500g




68€  
10cm x10cm  
700g

**Quel cadeau est le moins cher?**



On se sait pas



88 €  
20cmx20cm  
500g




68€  
10cm x10cm  
700g


**Quel cadeau est le plus grand?**



On se sait pas



88 €  
20cmx20cm  
500g




68€  
10cm x10cm  
700g


**Quel cadeau est le plus léger?**



On se sait pas



88 €  
20cmx20cm  
500g





68€  
10cm x10cm  
700g

**Quel cadeau contient le plus de livres?**



On se sait pas

	
70 litres	65 litres
80cm	77cm
31€	35 €

**Quelle piscine est la plus chère?**

		On se sait pas
---	---	----------------



	
70 litres	65 litres
80cm	77cm
31€	35 €

**Quelle piscine est la plus remplie?**

		On se sait pas
---	---	----------------



	
70 litres	65 litres
80cm	77cm
31€	35 €

**Quelle piscine est la moins remplie?**

		On se sait pas
---	---	----------------

	
70 litres	65 litres
80cm	77cm
31€	35 €

**Quelle piscine est la plus lourde?**

		On se sait pas
---	---	----------------