




J'ai 5 faces et 6 sommets.




J'ai 6 arêtes.




J'ai 9 arêtes.
Toutes mes faces sont des triangles.



J'ai 8 sommets.
Mes faces ne sont pas toutes des carrés ou des rectangles.



J'ai 6 faces
J'ai 2 faces qui ont la même forme sans avoir les mêmes dimensions.



Toutes mes faces sont identiques.
Mon nombre d'arêtes est le double de mon nombre de faces.

