
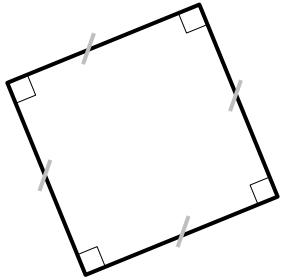


Géom 8 - 9 : Les quadrilatères

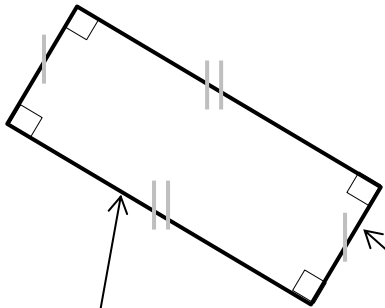


Une figure qui a *quatre côtés* et *quatre sommets* est un **quadrilatère**.



Le **carré** :

- 4 côtés de même longueur
- 4 angles droits



La **longueur** c'est le côté le plus long.

Le **rectangle** :

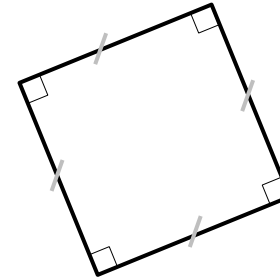
- 2 longueurs identiques
- 2 largeurs identiques
- 4 angles droits

La **largeur** c'est le côté le plus court.

Géom 8 - 9 : Les quadrilatères

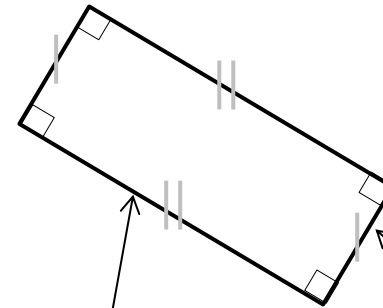


Une figure qui a *quatre côtés* et *quatre sommets* est un **quadrilatère**.



Le **carré** :

- 4 côtés de même longueur
- 4 angles droits



La **longueur** c'est le côté le plus long.

Le **rectangle** :

- 2 longueurs identiques
- 2 largeurs identiques
- 4 angles droits

La **largeur** c'est le côté le plus court.