


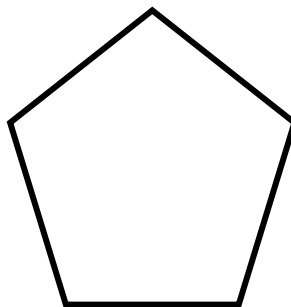

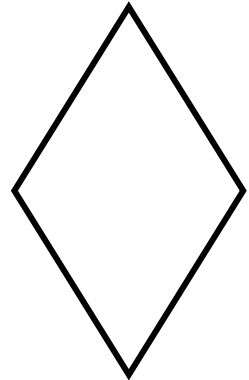

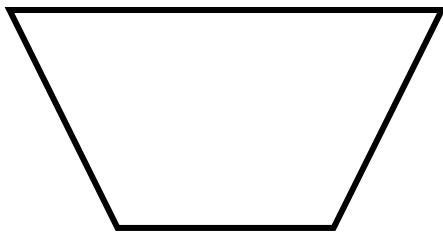
Nom : \_\_\_\_\_ Prénom : \_\_\_\_\_ Date : \_\_\_\_\_

**Evaluation CE2, géométrie.**

**Compétences évaluées : La symétrie :**

- *Savoir reconnaître si une figure a un ou plusieurs axes de symétrie, savoir tracer un axe de symétrie*
- *Etre capable de reproduire une figure par rapport à un axe de symétrie sur un quadrillage*

**1 - Pour chacune des figures suivantes, trace le ou les axe(s) de symétrie s'il existe.**



**2 - Reproduis les figures suivantes par rapport à l'axe de symétrie**

!!!!!!!**Soin**

