

Lecture de nombres

Quel est ce nombre?

52

Lecture de nombres

Quel est ce nombre?

43

Lecture de nombres

Quel est ce nombre?

34

Lecture de nombres

Quel est ce nombre?

25

Lecture de nombres


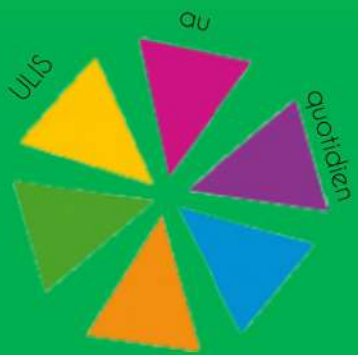
Quel est ce nombre?

56

Lecture de nombres

Quel est ce nombre?

47



Lecture de nombres

Quel est ce nombre?

48

Lecture de nombres

Quel est ce nombre?

59

Lecture de nombres

Quel est ce nombre?

30

Lecture de nombres

Quel est ce nombre?

21

Lecture de nombres


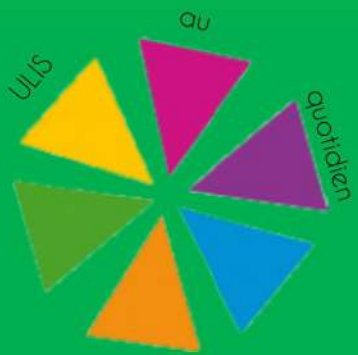
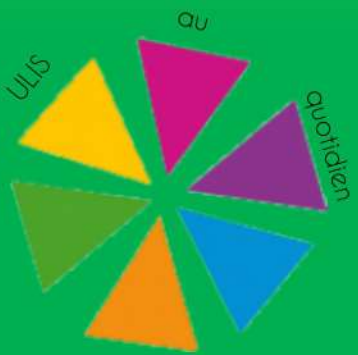
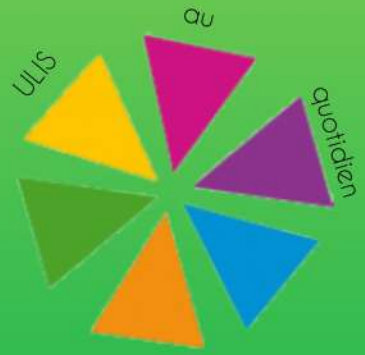
Quel est ce nombre?

52

Lecture de nombres

Quel est ce nombre?

13



Lecture de nombres

Quel est ce nombre?

44

Lecture de nombres

Quel est ce nombre?

55

Lecture de nombres

Quel est ce nombre?

36

Lecture de nombres

Quel est ce nombre?

27

Lecture de nombres



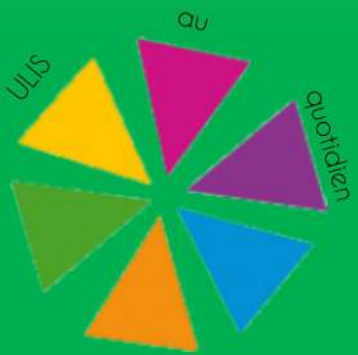
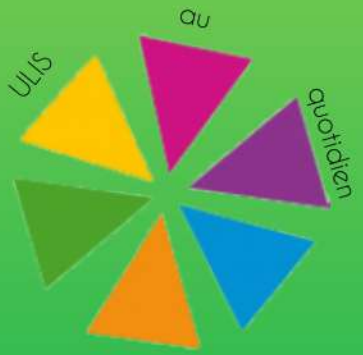
Quel est ce nombre?

48

Lecture de nombres

Quel est ce nombre?


59



Ranger les nombres

Range en ordre croissant:


42 - 31 - 27



Ranger les nombres

Range en ordre croissant:


58 - 45 - 37



Ranger les nombres

Range en ordre croissant:


32 - 21 - 15



Ranger les nombres

Range en ordre croissant:


57 - 49 - 28



Ranger les nombres

Range en ordre croissant:


58 - 26 - 41



Ranger les nombres

Range en ordre croissant:

54 - 37 - 23

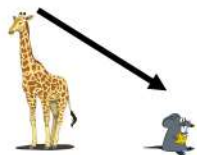




Ranger les nombres

Range en ordre décroissant:


38 - 42 - 57



Ranger les nombres

Range en ordre décroissant:

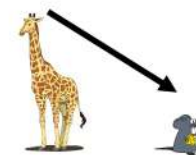
58 - 47 - 59



Ranger les nombres

Range en ordre décroissant:

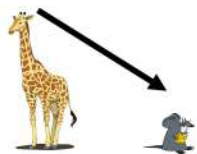
51 - 39 - 43



Ranger les nombres

Range en ordre décroissant:


48 - 20 - 15



Ranger les nombres

Range en ordre décroissant:

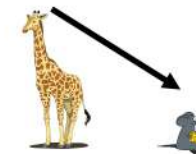
12 - 32 - 47



Ranger les nombres

Range en ordre décroissant:

38 - 52 - 57





Ranger les nombres

Ranger les nombres

Ranger les nombres

Montre le nombre le plus grand:

Montre le nombre le plus grand:

Montre le nombre le plus grand:

58 - 40 - 53

48 - 32 - 57

58 - 52 - 47

Ranger les nombres

Ranger les nombres

Ranger les nombres

Montre le nombre le plus petit:

Montre le nombre le plus petit:

Montre le nombre le plus petit:

48 - 22 - 37

56 - 35 - 24

23 - 30 - 21



Ecrire les nombres

Ecrire les nombres

Ecrire les nombres

Ecris le nombre que je te dicte

Ecris le nombre que je te dicte

Ecris le nombre que je te dicte

Trente-deux

**Quarante-
cinq**

**Cinquante-
deux**

Ecrire les nombres

Ecrire les nombres

Ecrire les nombres

Ecris le nombre que je te dicte

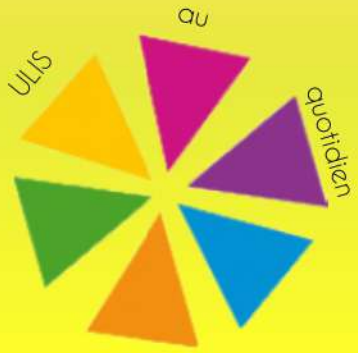
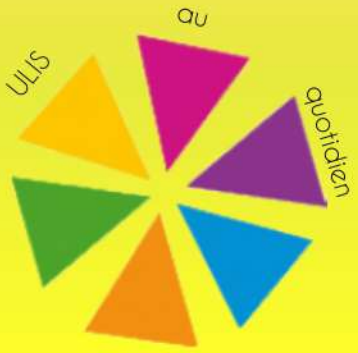
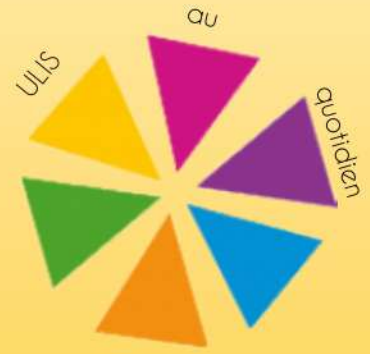
Ecris le nombre que je te dicte

Ecris le nombre que je te dicte

Vingt et un

**Quarante-
huit**

Cinquante



Ecrire les nombres

Ecrire les nombres

Ecrire les nombres

Ecris le nombre que je te dicte

Ecris le nombre que je te dicte

Ecris le nombre que je te dicte

Trente-huit

**Quarante-
neuf**

**Cinquante-
cinq**

Ecrire les nombres

Ecrire les nombres

Ecrire les nombres

Ecris le nombre que je te dicte

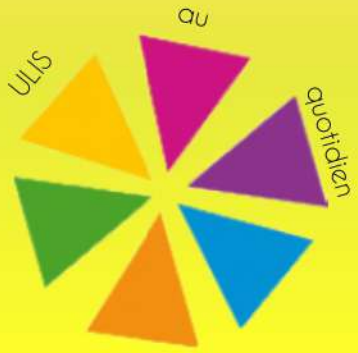
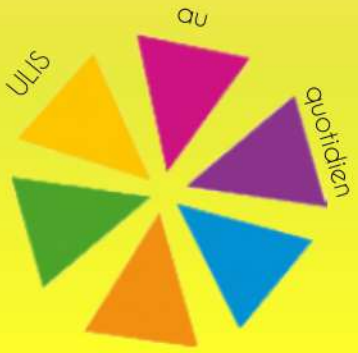
Ecris le nombre que je te dicte

Ecris le nombre que je te dicte

Trente-six

**Quarante-
deux**

**Cinquante-
neuf**



Ecrire les nombres

Ecrire les nombres

Ecrire les nombres

Ecris le nombre que je te dicte

Ecris le nombre que je te dicte

Ecris le nombre que je te dicte

trente-sept

quarante

vingt- six

Ecrire les nombres

Ecrire les nombres

Ecrire les nombres

Ecris le nombre que je te dicte

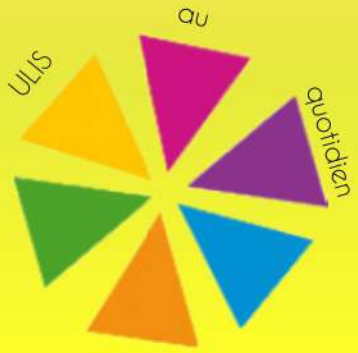
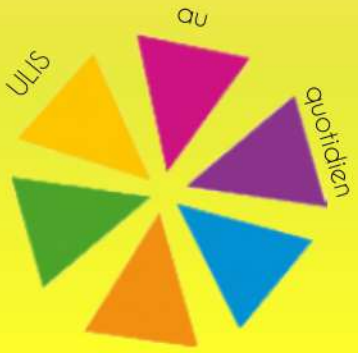
Ecris le nombre que je te dicte

Ecris le nombre que je te dicte

dix-neuf

treize

quatorze



former les nombres

former les nombres

former les nombres

Avec le matériel fais le nombre
suivant:

51

Avec le matériel fais le nombre
suivant:

42

Avec le matériel fais le nombre
suivant:

33

former les nombres

Former les nombres

Former les nombres

Avec le matériel fais le nombre
suivant:

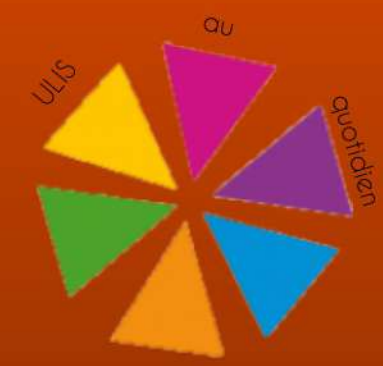
24

Avec le matériel fais le nombre
suivant:

55

Avec le matériel fais le nombre
suivant:

56



former les nombres

former les nombres

former les nombres

Avec le matériel fais le nombre
suivant:

47

Avec le matériel fais le nombre
suivant:

38

Avec le matériel fais le nombre
suivant:

29

former les nombres

Former les nombres

Former les nombres

Avec le matériel fais le nombre
suivant:

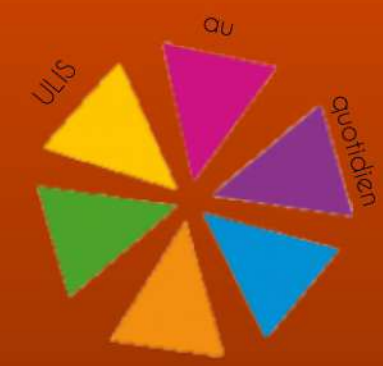
50

Avec le matériel fais le nombre
suivant:

41

Avec le matériel fais le nombre
suivant:

12



former les nombres

former les nombres

former les nombres

Avec le matériel fais le nombre
suivant:

43

Avec le matériel fais le nombre
suivant:

34

Avec le matériel fais le nombre
suivant:

55

former les nombres

Former les nombres

Former les nombres

Avec le matériel fais le nombre
suivant:

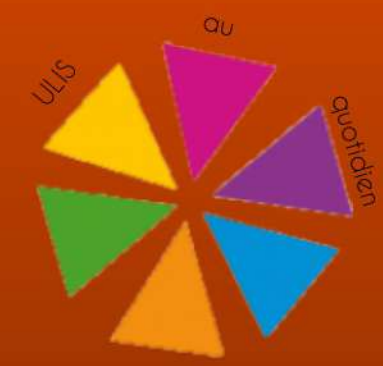
46

Avec le matériel fais le nombre
suivant:

27

Avec le matériel fais le nombre
suivant:

38



comparer les nombres

comparer les nombres

comparer les nombres

Ajoute le bon signe pour
comparer ces nombres:

53....48

Ajoute le bon signe pour
comparer ces nombres:

43....32

Ajoute le bon signe pour
comparer ces nombres:

43....37

comparer les nombres

comparer les nombres

comparer les nombres

Ajoute le bon signe pour
comparer ces nombres:

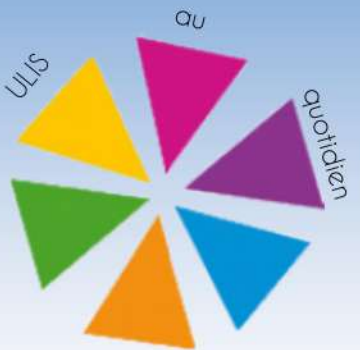
55....50

Ajoute le bon signe pour
comparer ces nombres:

46....46

Ajoute le bon signe pour
comparer ces nombres:

33....20



comparer les nombres

comparer les nombres

comparer les nombres

Ajoute le bon signe pour
comparer ces nombres:

43....28

Ajoute le bon signe pour
comparer ces nombres:

50....52

Ajoute le bon signe pour
comparer ces nombres:

42....17

comparer les nombres

comparer les nombres

comparer les nombres

Ajoute le bon signe pour
comparer ces nombres:

45....40

Ajoute le bon signe pour
comparer ces nombres:

36....35

Ajoute le bon signe pour
comparer ces nombres:

53....29



comparer les nombres

comparer les nombres

comparer les nombres

Ajoute le bon signe pour
comparer ces nombres:

24....28

Ajoute le bon signe pour
comparer ces nombres:

41....59

Ajoute le bon signe pour
comparer ces nombres:

51....51

comparer les nombres

comparer les nombres

comparer les nombres

Ajoute le bon signe pour
comparer ces nombres:

46....56

Ajoute le bon signe pour
comparer ces nombres:

67....36

Ajoute le bon signe pour
comparer ces nombres:

45....52



Décomposer les nombres

Décomposer les nombres

Décomposer les nombres

Quel nombre se cache ici?

3D + 2U

Quel nombre se cache ici?

4D + 3U

Quel nombre se cache ici?

5D + 4U

Décomposer les nombres

Décomposer les nombres

Décomposer les nombres

Quel nombre se cache ici?

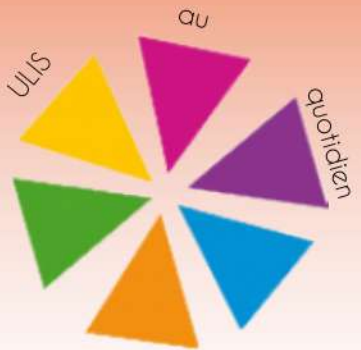
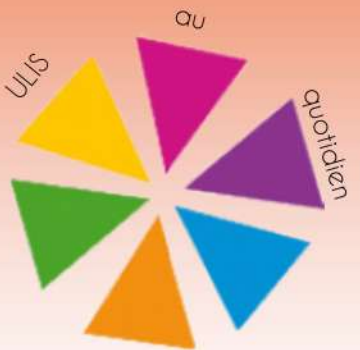
5D + 5U

Quel nombre se cache ici?

6D + 6U

Quel nombre se cache ici?

1D + 7U



Décomposer les nombres

Décomposer les nombres

Décomposer les nombres

Quel nombre se cache ici?

1U + 2D

Quel nombre se cache ici?

1U + 3D

Quel nombre se cache ici?

2U + 4D

Décomposer les nombres

Décomposer les nombres

Décomposer les nombres

Quel nombre se cache ici?

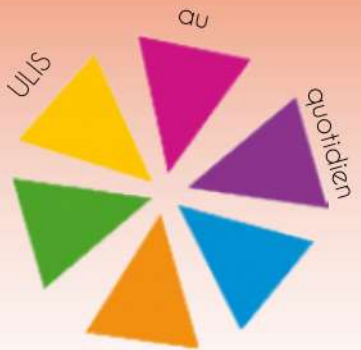
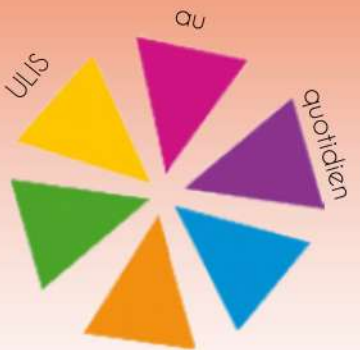
2U + 5D

Quel nombre se cache ici?

2U + 4D

Quel nombre se cache ici?

9U + 5D



Décomposer les nombres

Décomposer les nombres

Décomposer les nombres

Quel nombre se cache ici?

$$(3 \times 10) + 5$$

Quel nombre se cache ici?

$$(4 \times 10) + 2$$

Quel nombre se cache ici?

$$(5 \times 10) + 3$$

Décomposer les nombres

Décomposer les nombres

Décomposer les nombres

Quel nombre se cache ici?

$$(4 \times 10) + 3$$

Quel nombre se cache ici?

$$(2 \times 10) + 5$$

Quel nombre se cache ici?

$$(1 \times 10) + 9$$

