

CE1

MODULE 9

Séance 1-4

Activité
ritualisée



5'

Flash cards

Les mots nombres

De 1 à 20

Activité
ritualisée

onze

Activité
ritualisée



5'

Activité
ritualisée

trois

Activité
ritualisée



5'

Activité
ritualisée

dix-sept

Activité
ritualisée



5'

Activité
ritualisée

cinq

Activité
ritualisée



7'



Séance 1

dictée de nombres

Activité
ritualisée

Séance 1

60

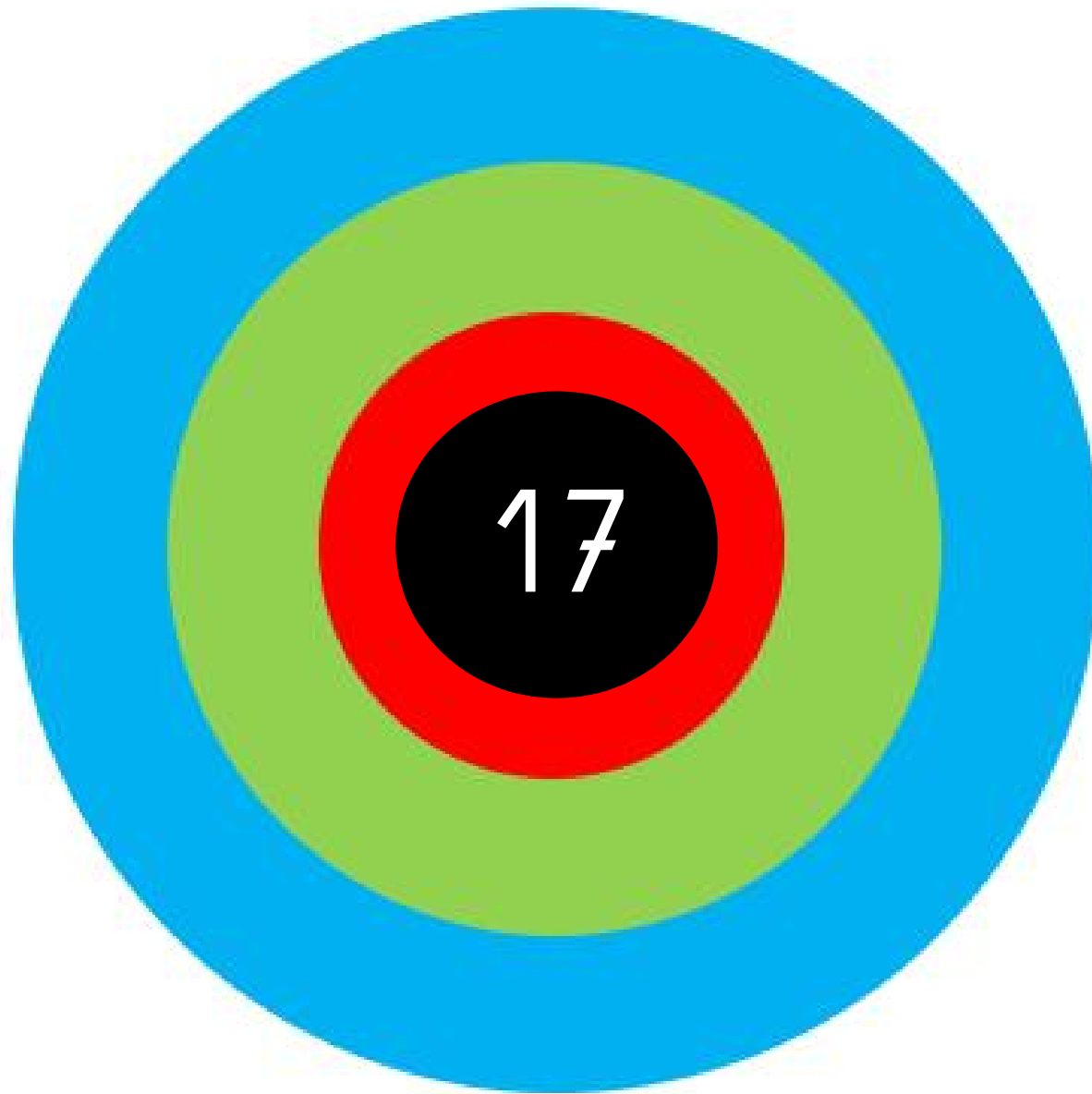


Compter de 5 en 5

calcul
mental



5
6
4
3
2



calcul
mental



$$14 + 15$$

calcul
mental



$$15 + 14$$

calcul
mental



$$15 + 16$$

calcul
mental



$$16 + 15$$

apprentissage

Séance 1

Atelier 1 LE NOMBRE 100

Partie 1 :

100 = ... paquets de 10
 100 = ... dizaines
 100 = ... unités

Partie 2 :

Dessine les dizaines qui manquent pour faire 100 et complète

$60 + \dots = 100$ $80 + \dots = 100$

Partie 3 :

Quel est le nombre représenté ici ?

Atelier 2 FICHE Numération

Exercice

Entoure 10 paquets de 10 pour faire une centaine puis écris le nombre représenté dans le tableau :

centaine	dizaine	unité
C	D	U

centaine	dizaine	unité
C	D	U

Atelier 3 Fiche droite graduée

Exercice : complète avec le nombre qui manque



Atelier 4 Leçon n°4

Leçon 4 : L'addition posée

→ Je sais poser et calculer une addition

$$\begin{array}{r} 78 \\ + 24 \\ \hline \end{array}$$
 J'ajoute d'abord les unités : $8 + 4$
 Cela fait $8 + 4 = 12$

$$\begin{array}{r} 14 \\ 78 \\ + 24 \\ \hline 12 \end{array}$$
 La dizaine devient une retenue
 Les unités sont placées sous le trait.

$$\begin{array}{r} 1 \\ 78 \\ + 24 \\ \hline 102 \end{array}$$
 J'ajoute ensuite les dizaines, en comptant la retenue :
 $1 + 7 + 2 = 10$

<https://le.ccx/q/KCN> <https://le.ccx/q/KGA>

exercice ticket

SUPERMERCHE		
Qté	Désignation	Total
1	JEU VIDEO	55 €
1	MANETTE DE JEU	17 €
TOTAL		...
MERCİ DE VOTRE VISİTE ET A BİENTOT		

Activité
ritualisée



5'

Flash cards

Les mots nombres

De 1 à 20

Activité
ritualisée

douze

Activité
ritualisée



5'

Activité
ritualisée

deux

Activité
ritualisée



5'

Activité
ritualisée

dix-neuf

Activité
ritualisée



5'

Activité
ritualisée

six

Activité
ritualisée



7'



Séance 2

dictée de nombres

Activité
ritualisée

Séance 2

60

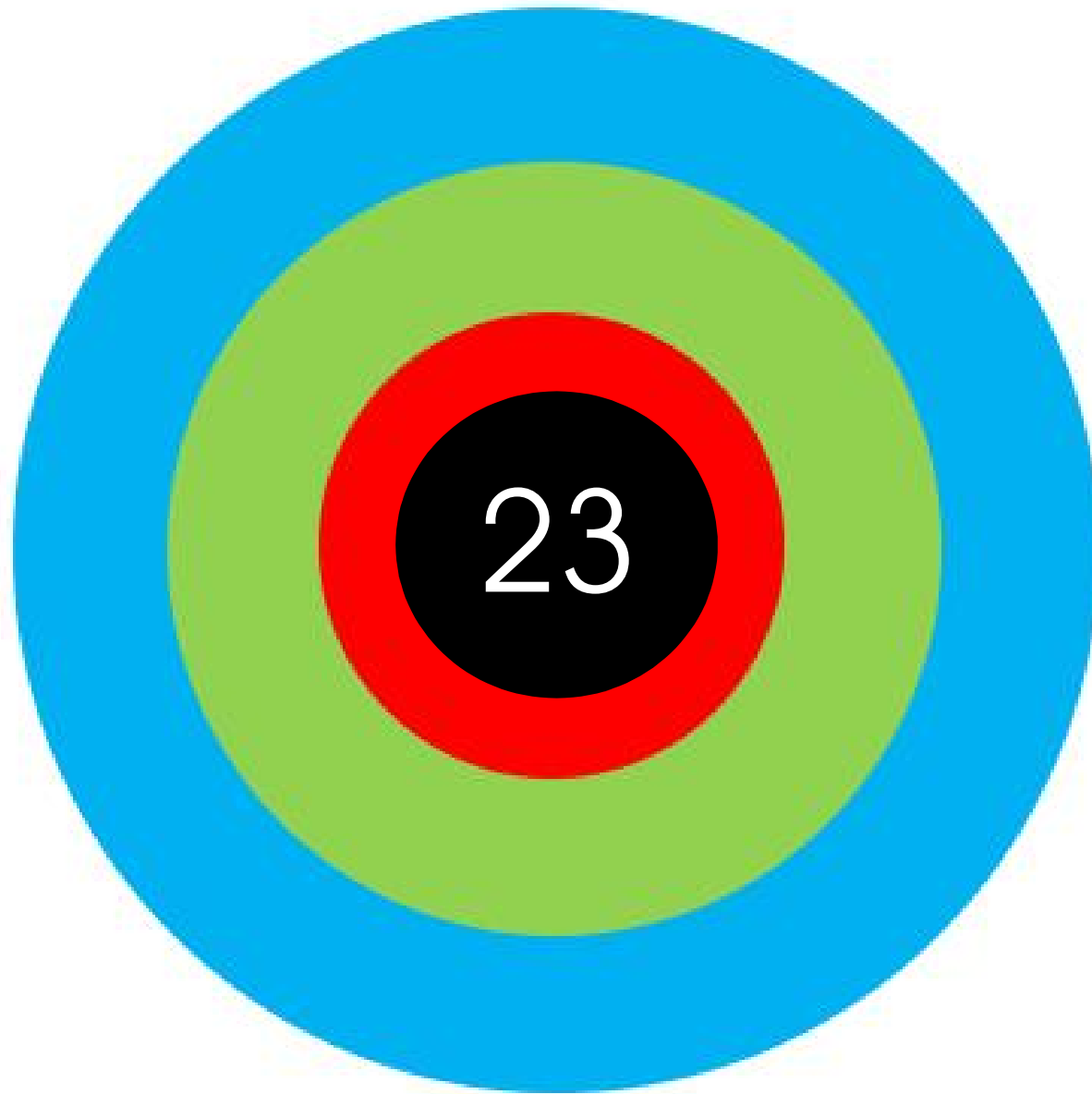


Compter de 5 en 5

calcul
mental



9
12
5
3



calcul
mental



$$14 + 15$$

calcul
mental



$$15 + 14$$

calcul
mental



$$15 + 16$$

calcul
mental



$$16 + 15$$


Atelier 1 LE NOMBRE 100

Partie 1 :
100 = ... paquets de 10
100 = ... dizaines
100 = ... unités

Partie 2 :
Dessine les dizaines qui manquent pour faire 100 et complète


60 + ... = 100 80 + ... = 100

Partie 3 :
Quel est le nombre représenté ici ?



Atelier 2 FICHE Numération

Exercice
Entoure 10 paquets de 10 pour faire une centaine puis écris le nombre représenté dans le tableau :

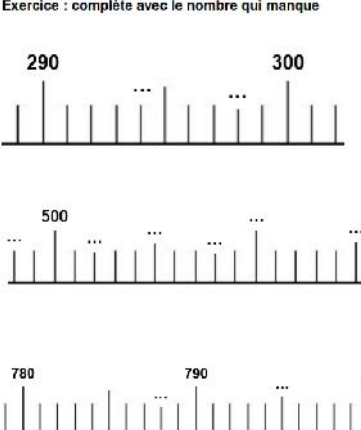


centaine	dizaine	unité
C	D	U

centaine	dizaine	unité
C	D	U

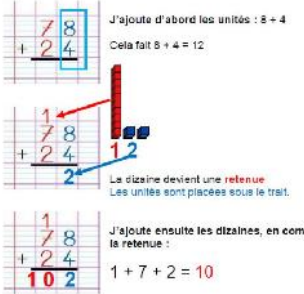
Atelier 3 Fiche droite graduée

Exercice : complète avec le nombre qui manque




Atelier 4 Leçon n°4

Leçon 4 : L'addition posée
→ Je sais poser et calculer une addition



J'ajoute d'abord les unités : $8 + 4$
Cela fait $8 + 4 = 12$

La dizaine devient une retenue
Les unités sont placées sous le trait.

J'ajoute ensuite les dizaines, en comptant la retenue :
 $1 + 7 + 2 = 10$

<https://lc.cx/qKCN> <https://lc.cx/qKGA>

exercice ticket

SUPERMARCHÉ		
Qté	Désignation	Total
1	JEU VIDEO	55 €
1	MANETTE DE JEU	17 €
TOTAL		...
MERCI DE VOTRE VISITE ET A BIENTOT		

Activité
ritualisée



5'

Flash cards

Les mots nombres

De 1 à 20

Activité
ritualisée

treize

Activité
ritualisée



5'

Activité
ritualisée

quatre

Activité
ritualisée



5'

Activité
ritualisée

dix-huit

Activité
ritualisée



5'

Activité
ritualisée

sept

Activité
ritualisée



Séance 3

dictée de nombres

Activité
ritualisée

Séance 3

60



Compter de 10 en 10

calcul
mental



2'

$$2 + \dots = 10$$

calcul
mental



2'

$$2 + \dots = 10$$

$$5 + \dots = 10$$

calcul
mental



$$2 + \dots = 10$$

$$5 + \dots = 10$$

$$7 + \dots = 10$$

calcul
mental



2'

$$2 + \dots = 10$$

$$5 + \dots = 10$$

$$7 + \dots = 10$$

$$9 + \dots = 10$$

calcul
mental



2'

$$130 + 20 = \dots$$

calcul
mental



2'

$$130 + 20 = \dots$$

$$160 + 10 = \dots$$

calcul
mental



2'

$$130 + 20 = \dots$$

$$160 + 10 = \dots$$

$$140 + 30 = \dots$$

calcul
mental



2'

$$130 + 20 = \dots$$

$$160 + 10 = \dots$$

$$140 + 30 = \dots$$

$$150 + 20 = \dots$$

calcul
mental



2'

$$130 + 20 = \dots$$

$$160 + 10 = \dots$$

$$140 + 30 = \dots$$

$$150 + 20 = \dots$$

$$110 + 40 = \dots$$


Atelier 1 LE NOMBRE 100

Partie 1 :
100 = ... paquets de 10
100 = ... dizaines
100 = ... unités

Partie 2 :
Dessine les dizaines qui manquent pour faire 100 et complète


60 + ... = 100 80 + ... = 100

Partie 3 :
Quel est le nombre représenté ici ?



Atelier 2 FICHE Numération

Exercice
Entoure 10 paquets de 10 pour faire une centaine puis écris le nombre représenté dans le tableau :

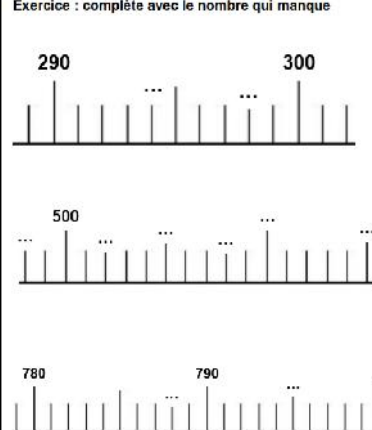


centaine	dizaine	unité
C	D	U

centaine	dizaine	unité
C	D	U


Atelier 3 Fiche droite graduée

Exercice : complète avec le nombre qui manque




Atelier 4 Leçon n°4

Leçon 4 : L'addition posée
→ Je sais poser et calculer une addition



https://c.cx/qKCN https://c.cx/qKGA

exercice ticket

SUPERMARCHÉ		
Qté	Désignation	Total
1	JEU VIDEO	55 €
1	MANETTE DE JEU	17 €
TOTAL		...
MERCI DE VOTRE VISITE ET A BIENTOT		

Activité
ritualisée



5'

Flash cards

Les mots nombres

De 1 à 20

Activité
ritualisée

dix

Activité
ritualisée



5'

Activité
ritualisée

six

Activité
ritualisée



5'

Activité
ritualisée

seize

Activité
ritualisée



5'

Activité
ritualisée

huit

Activité
ritualisée



Séance 4

dictée de nombres

Activité
ritualisée

Séance 4

60



Compter de 10 en 10

calcul
mental



2'

$$1 + \dots = 10$$

calcul
mental



$$1 + \dots = 10$$

$$6 + \dots = 10$$

calcul
mental



2'

$$1 + \dots = 10$$

$$6 + \dots = 10$$

$$8 + \dots = 10$$

calcul
mental



2'

$$1 + \dots = 10$$

$$6 + \dots = 10$$

$$8 + \dots = 10$$

$$4 + \dots = 10$$

calcul
mental



2'

$$1 + \dots = 10$$

$$6 + \dots = 10$$

$$8 + \dots = 10$$

$$4 + \dots = 10$$

$$3 + \dots = 10$$

calcul
mental

$$120 + 20 = \dots$$

calcul
mental

$$120 + 20 = \dots$$

$$140 + 10 = \dots$$

calcul
mental

$$120 + 20 = \dots$$

$$140 + 10 = \dots$$

$$160 + 30 = \dots$$

calcul
mental

$$120 + 20 = \dots$$

$$140 + 10 = \dots$$

$$160 + 30 = \dots$$

$$130 + 20 = \dots$$

calcul
mental

$$120 + 20 = \dots$$

$$140 + 10 = \dots$$

$$160 + 30 = \dots$$

$$130 + 20 = \dots$$

$$180 + 10 = \dots$$

apprentissage

Séance 4

Atelier 1 LE NOMBRE 100

Partie 1 :
 100 = ... paquets de 10
 100 = ... dizaines
 100 = ... unités

Partie 2 :
 Dessine les dizaines qui manquent pour faire 100 et complète

 $60 + \dots = 100$ $80 + \dots = 100$

Partie 3 :
 Quel est le nombre représenté ici ?

Atelier 2 FICHE Numération

Exercice
 Entoure 10 paquets de 10 pour faire une centaine puis écris le nombre représenté dans le tableau :

C	D	U

C	D	U

Atelier 3 Fiche droite graduée

Exercice : complète avec le nombre qui manque

290 ... 300

500

780 790 ...



Atelier 4 Leçon n°4

Leçon 4 : L'addition posée
 → Je sais poser et calculer une addition

J'ajoute d'abord les unités : $8 + 4$
 Cela fait $8 + 4 = 12$

La dizaine devient une retenue.
 Les unités sont placées sous le trait.

J'ajoute ensuite les dizaines, en comptant la retenue :
 $1 + 7 + 2 = 10$

<https://c.cx/q/KCN> <https://c.cx/q/KGA>

exercice ticket

SUPERMARCHÉ

Qté	Désignation	Total
1	JEU VIDEO	55 €
1	MANETTE DE JEU	17 €
TOTAL		...

MERCI DE VOTRE VISITE ET A BIENTOT



CE1

MODULE 9

Séance 5

**Activité
ritualisée**

Complète grâce aux images :

Pour peser mes légumes, j'utilise

Pour savoir l'heure, j'utilise

Pour mesurer la longueur d'un voyage, j'utilise

		
un GPS	un réveil	une balance

*résolution
problème*

R A L L Y E M A T H S

M A N C H E 1

résolution problème



Rallye Maths CE1

Manche 1

Pour chaque exercice, vous gagnez 5 points si la réponse est juste et 5 points en plus si elle est bien expliquée ! Si la réponse n'est pas juste, l'exercice ne rapporte aucun point. Mais il faudra choisir 3 exercices !

Exercice 1 :

À chaque anniversaire, depuis qu'il est né, le frère de Thomas souffle ses bougies. Hier, il a eu 8 ans.

Combien a-t-il soufflé de bougies depuis qu'il est né ?



Exercice 2 :

Les enfants fabriquent une tour avec des cubes. Ils ont quatre couleurs à leur disposition. Les tours font 4 cubes de hauteur. Il faut toujours les quatre couleurs.




Représente toutes les tours différentes que tu peux construire.



Exercice 3 :

Regarde cette construction de cubes :



Les cubes sont tous posés sur une table, il n'y a pas de trous cachés.

Combien y a-t-il de picots  dans toute la construction ?

(Même ceux qui sont cachés)

Exercice 4 :

Les enfants font pousser du bambou dans le jardin de l'école. Le bambou pousse vite grâce à la pluie.

Au départ, le bambou faisait 1 cm.

À la fin de la première semaine, il a poussé et fait le double de sa taille du début de semaine. Puis chaque semaine, il pousse et double de taille.



Au bout de combien de semaines, fera-t-il plus de 30 cm ?



CE1

MODULE 9


Séance 6

Pour construire cette séance, deux temps à prévoir :

1/ La correction du rallye

2/ Un temps de travail que vous définirez :

- Finir des tâches non achevées les jours précédents.
- S'entraîner sur une compétence ciblée, en avançant sur un fichier par exemple.
- Remédier à une difficulté particulière avec un groupe pendant que d'autres élèves sont sur une activité autonome.



CE1

MODULE 9

Séance 7

Activité
ritualisée

huit

soixante

..... < <

Activité
ritualisée

un

cent

..... < <

Activité
ritualisée

cent

treize

..... < <

*résolution
problème*

« Maman a acheté 13 poivrons au marché pour sa tarte aux poivrons : il y a 7 poivrons verts et des rouges.
Combien y a-t-il de poivrons rouges ? »

*résolution
problème*

Typologie de problème

<http://lesacdemaitresseclairer eklablog.com/>

*résolution
problème*



PROBLEMES CE1 (1)

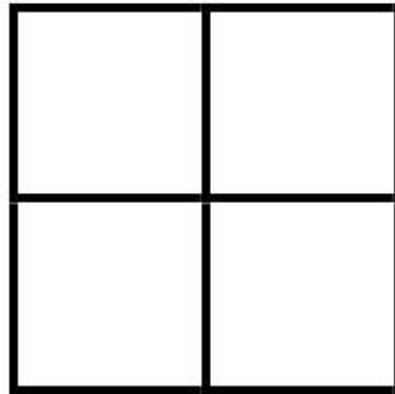
1	2	3	4	5	6	7	8	9	10
---	---	---	---	---	---	---	---	---	----

11	12	13	14	15	16	17	18	19	20
----	----	----	----	----	----	----	----	----	----

21	22	23	24	25
----	----	----	----	----

Exercice :

Combien vois-tu de carrés ? Repasse-les en couleur.

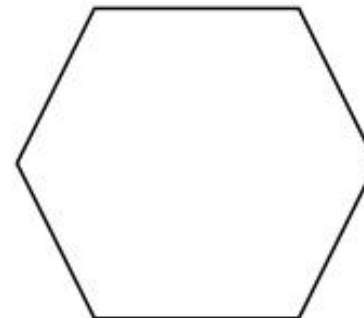
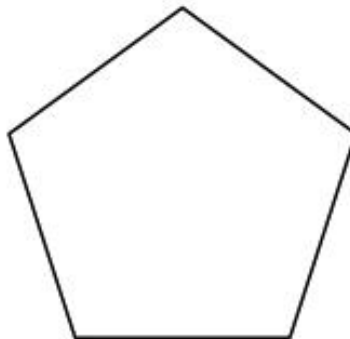





Exercice :

Sur ton cahier, trace un carré dont la mesure du côté fait 5 carreaux.

Exercice :

Repasse au feutre rouge sur les sommets des figures :



	LE GÉOMÈTRE		1
			L'objet A mesure :
<input type="checkbox"/>	<input type="checkbox"/>	<input type="checkbox"/>	