

Belle Rue

La maison de Tristan porte le numéro 10.

Si on avait numéroté les maisons depuis l'autre bout de la rue, elle porterait le numéro 30.

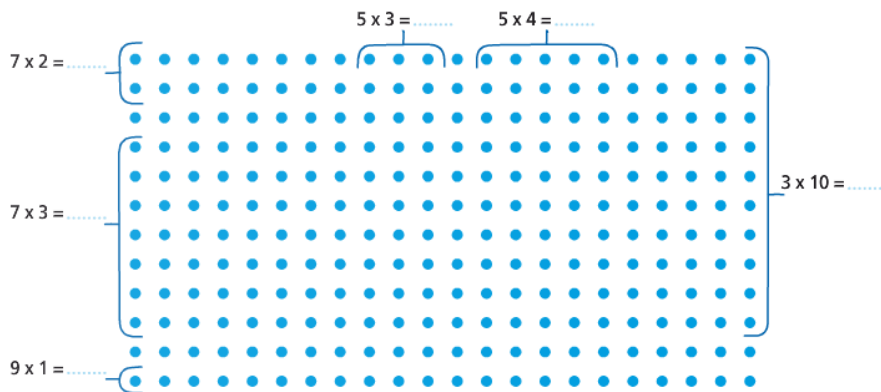
Du côté où habite Tristan, combien la rue compte-t-elle de maisons ?




Réponse : 6 8 10 12

Friandises et Gourmandises

Entoure le nombre de points indiqués et complète la réponse. Utilise les lignes déjà commencées :




Voici deux paquets de sucre. Combien contiennent-ils de morceaux ?



Paquet n°3 : _____

Réponse : _____



Paquet n°4 : _____

Réponse : _____