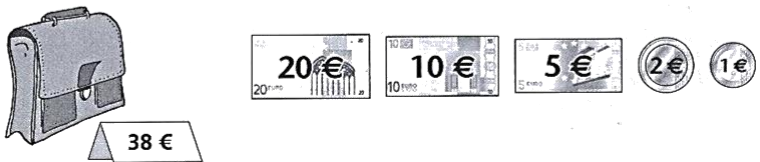
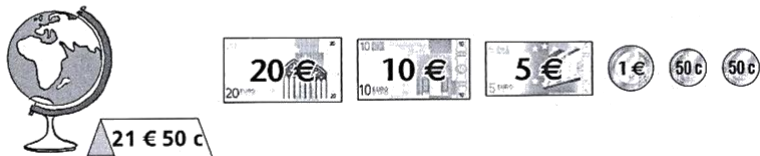
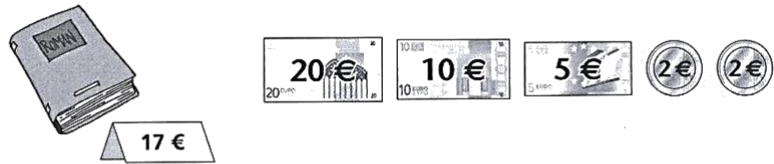
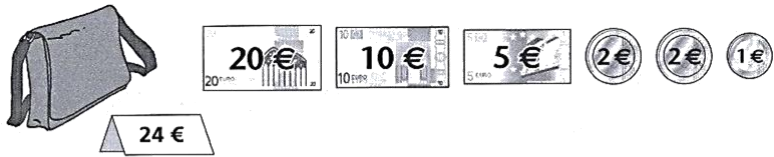




1. **CALCUL MENTAL – Complément à la dizaine supérieure**

2. **Entoure les pièces et les billets pour payer exactement :**



3. **Problème.**

David achète pour son fils un déguisement qui coûte 27 €.

Pour payer, il donne :  

Dessine les pièces que le marchand va lui rendre.



Nombre de réponses justes



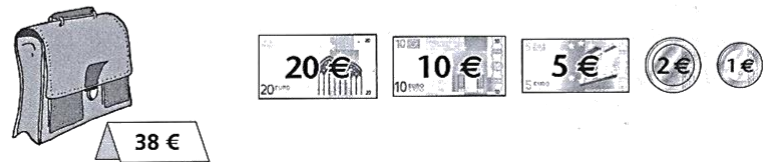
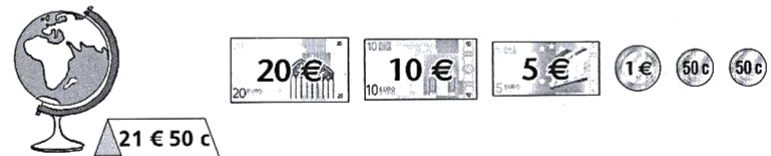
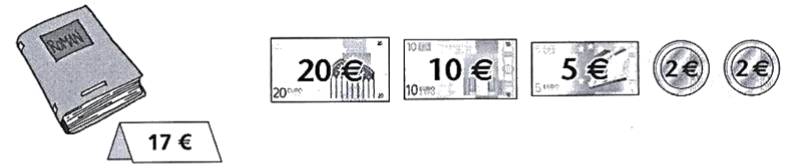
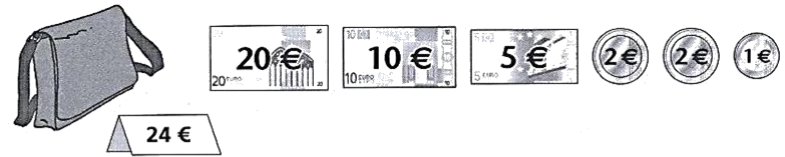
Je sais additionner des euros

OUI
MOYEN
NON

15



1. **CALCUL MENTAL – Complément à la dizaine supérieure**

2. **Entoure les pièces et les billets pour payer exactement :**



3. **Problème.**

David achète pour son fils un déguisement qui coûte 27 €.

Pour payer, il donne :  

Dessine les pièces que le marchand va lui rendre.



Nombre de réponses justes



Je sais additionner des euros

OUI
MOYEN
NON

15