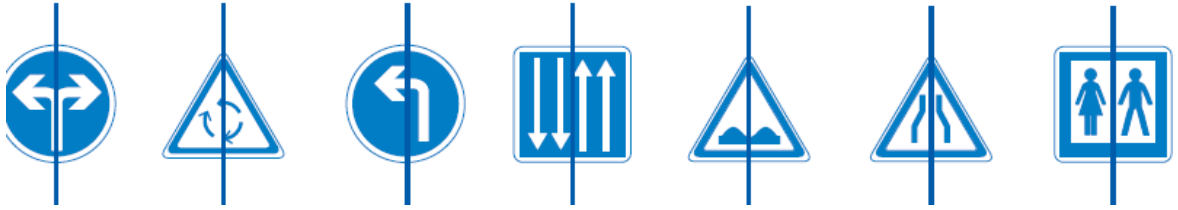


Note : la plus basse -- moyenne -- la plus haute


Mes réussites :	A	ECA	NA	→ points
1 : Je sais identifier des axes de symétrie				/4
2a et 2b : Je sais tracer des axes de symétrie				/7
3a - 3b : Je sais construire le symétrique d'une figure				/9

Date :/...../.....

1 Barre les figures qui ne sont pas symétriques par rapport à l'axe de symétrie. (4pts)




2a Trace les axes de symétrie de ces figures. (4pts)



2b Trace les axes de symétrie des chiffres quand c'est possible. (3pts)

1 2 3 4 5 6 7 8 9 0

3a Construis le symétrique de la figure par rapport à l'axe de symétrie. (4pts)



nom + prénom :

3b Construis le symétrique de la figure par rapport à l'axe de symétrie. (5pts)

