

Mardi 9 juin 2020

Grammaire

La proposition relative

1. Pour chaque phrase entoure le pronom relatif.

La maison de vacances que mes parents ont achetée est très grande.
Chaque soir, je lis le journal dont la maîtresse a parlé.
La ville où je suis né compte plus d'un million d'habitants.
J'ai des amis qui sont vraiment gentils.
Les souvenirs auxquels je pense resteront toujours dans ma mémoire.

2. Complète avec le pronom relatif qui convient.

- ◆ Les champignons poussent ici sont comestibles.
- ◆ L'arbre je te parle est très grand.
- ◆ Je n'aime pas les fraises sont trop mures.
- ◆ La maison j'habite est dans le centre-ville de ma commune.

3. Souligne les propositions relatives et entoure les pronoms relatifs.

Le cheval qui saute un obstacle.
La lampe électrique qui ne fonctionne plus.
Le vélo de course que j'avais acheté l'an dernier.
Le loup affamé qui sort du bois.
La délicieuse crème au caramel que je déguste.

4. Recopie ces phrases et supprime les propositions relatives.

Exemple : Cette chanteuse que tu admires est à Paris.--> Cette chanteuse est à Paris.

Lila invente une histoire qui fait peur.

.....

L'accusé que cet avocat défend est innocent.

.....

Les photos que tu cherches sont dans le tiroir.

.....


Calcul réfléchi

La multiplication des décimaux

Date :

1 Effectue les calculs suivants.

$$3,5 \times 2 = (3 \times 2) + (0,5 \times 2) = 7$$



$$\underline{\quad} \times 5 = (6 \times 5) + (0,5 \times 5) = \underline{\quad}$$

$$\underline{\quad} \times 3 = (7 \times 3) + (0,5 \times 3) = \underline{\quad}$$

$$\underline{\quad} \times 4 = (10 \times 4) + (0,5 \times 4) = \underline{\quad}$$

$$\underline{\quad} \times 5 = (8 \times 5) + (0,5 \times 5) = \underline{\quad}$$

2 En t'aidant du résultat donné, trouve les résultats des autres calculs.

$$432 \times 26 = 11\,232$$

$$4,32 \times 26 = \underline{\quad}$$

$$43,2 \times 26 = \underline{\quad}$$

$$0,432 \times 26 = \underline{\quad}$$

$$43,2 \times 260 = \underline{\quad}$$

$$432 \times 2,6 = \underline{\quad}$$



$$10,06 \times 38 = 382,28$$

$$1\,006 \times 3,8 = \underline{\quad}$$

$$100,6 \times 3,8 = \underline{\quad}$$

$$1,006 \times 38 = \underline{\quad}$$

$$10,06 \times 3,8 = \underline{\quad}$$

$$1\,006 \times 38 = \underline{\quad}$$

3 Calcule les doubles et les quadruples.

Nombres

0,75

1,5

3,5

7,4

10,5

Le double

Nombres

2,2

0,5

1,25

0,25

2,5

Le quadruple

Orthographe

Utilise le diaporama proposé sur le blog pour préparer la leçon

Orthographe 25

Les noms féminins en -tion et en -ssion



- La plupart du temps, on écrit **-tion** à la fin des mots féminins.

Exemples : une invention, la création, l'imagination.

- Certains noms féminins se terminent en **-ssion** comme la passion, la discussion, les mots terminés par **-mission** et **-ession**.

Mots à apprendre pour la dictée

Le Bassin aux nymphéas

noms	le soleil, une impression, le peintre, le mouvement, la réalité, le nom, un impressionniste, la perception, la précision, la peinture, l'eau, l'apparition, le ciel, l'invention, un atelier, la mission, la profession, la lumière, le style, la variation, l'exposition, la passion
verbes	représenter, exprimer, quitter, s'exercer, saisir, choquer, penser, exclure
mots invariables	avec, mais, depuis, en effet, dehors, tellement, bien, tard, plus

Les noms féminins en -tion et en -ssion

Niveau 1 (*)

Complète les mots avec -tion ou -ssion.

Il faut apprendre à exprimer ses émo..... .

Mes parents regardent les informa..... .

La plongeuse retient sa respira..... .

Quelle est la défini..... de ce mot ?

Bernard est agent de la circula..... c'est sa profe..... .

Niveau 2 (**)

Complète les mots avec -tion ou -ssion.

Elsa a eu une puni..... pendant la récréa..... .

La sorcière s'est mise à la prépara..... de la po..... .

J'ai beaucoup d'admira..... pour cette profe..... .

Ma mi..... ? Réussir ces opéra..... !

J'ai reçu une invita..... à une exposi..... de peinture.



Conjugaison Rapide Série D

5

NOM :

date :

TEMPS :

Le plus que parfait

/ 10

tenir

Je

grossir

Les rivières

Ma grand-mère

venir

Vous

Le chien



NOM :

date :

MOT ETIQUETTE

Dans chaque liste, encrer le mot étiquette. Exemple : fauteuil - siège - tabouret - chaise



1
Corbeau
pie
oiseau
moineau

2
Sapin
arbre
chêne
frêne

3
Chausson
basket
sandale
chaussure

4
Volcan
cratère
lave
bouillant

5
Hemma
Édition
Hatier
Nathan

6
Aimant
craie
tableau
éponge

7
Basket
ballon
dribble
panier

8
Bec
oiseau
aile
œuf

9
Cadeau
anniversaire
carte
goûter

10
Vernis
ongle
lime
dissolvant

11
Tronc
feuille
arbre
pomme

12
Urne
bulletin
élection
vote

13
Pile
ampoule
interrupteur
électricité

14
Bateau
voile
mât
gouvernail

15
Iris
œil
pupille
cornée

16
Poste
facteur
lettre
boîte

17
Clown
trapéziste
chapiteau
cirque

18
Assiette
vaisselle
bol
tasse

19
Bracelet
bague
collier
bijou

20
Jardinier
métier
plombier
docteur

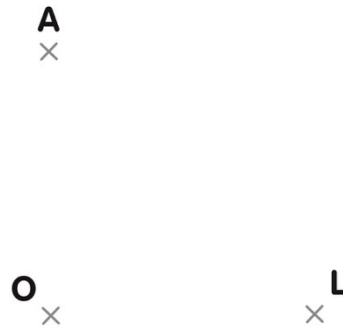
21
Dominos
marelle
puzzle
jeu

22
Insecte
moustique
guêpe
mouche


23
Chocolat
bonbon
friandise
sucette

24
Thermomètre
sirop
cachet
malade

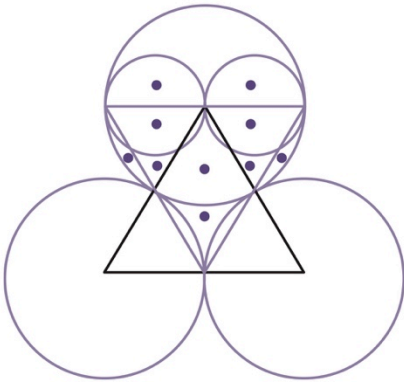
1 Lis les consignes, puis complète la figure.



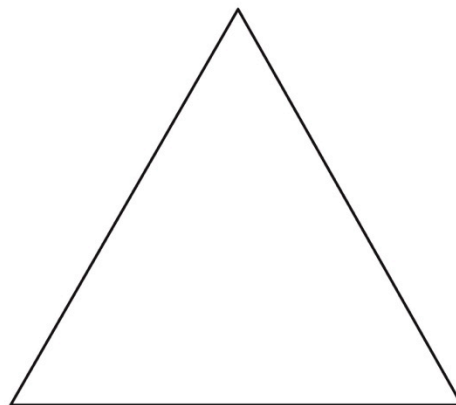
- Trace un cercle C_1 de centre O et de rayon $[OA]$.
- Trace le diamètre passant par A.
- Trace le rayon $[OL]$.
- Trace ensuite, une corde mesurant 4 cm.
- Repasse en pointillés l'arc entre A et L.



2 Observe, puis reproduis la figure.



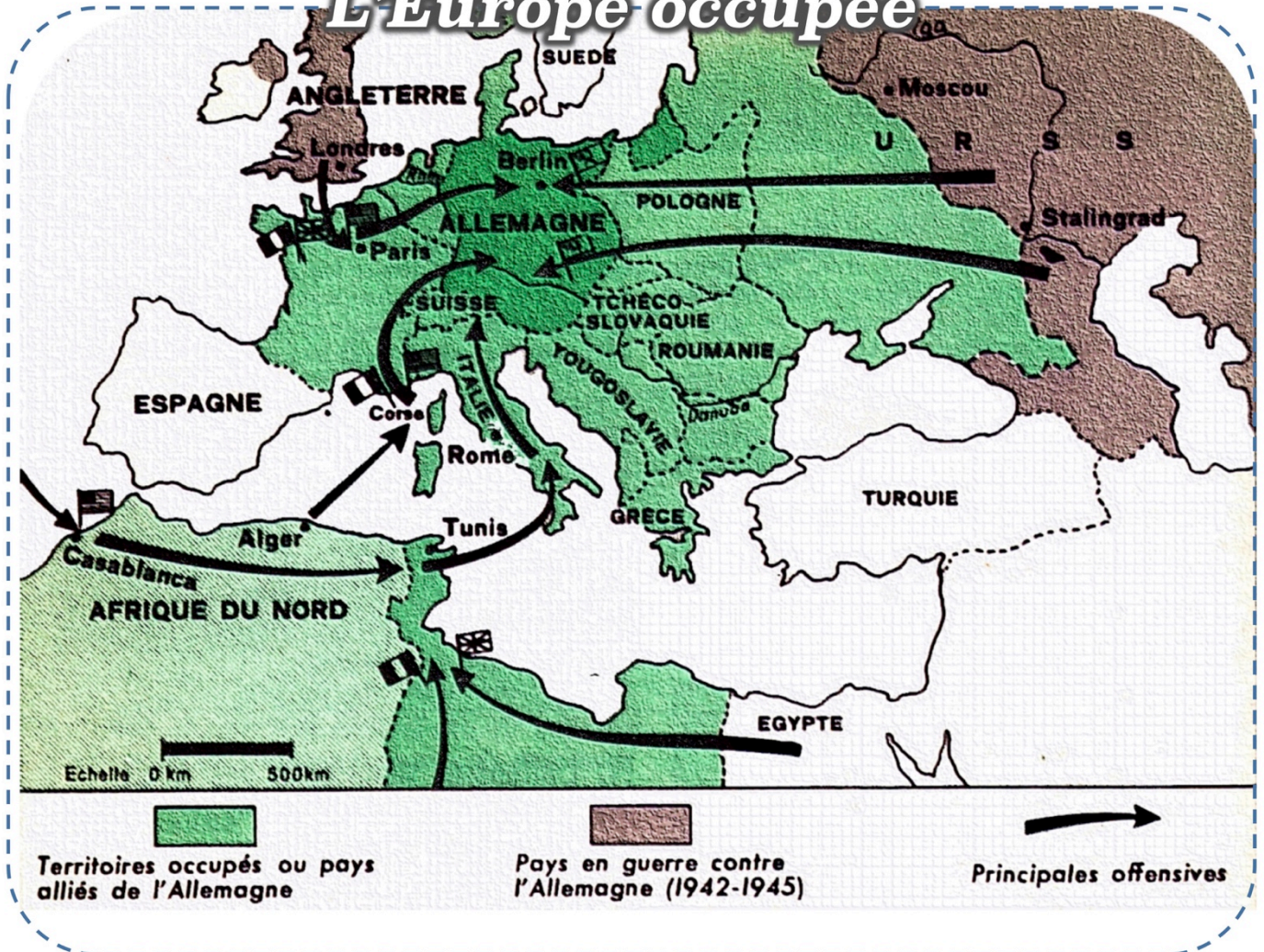
Colorie ensuite les zones contenant des points.





La seconde Guerre mondiale

L'Europe occupée

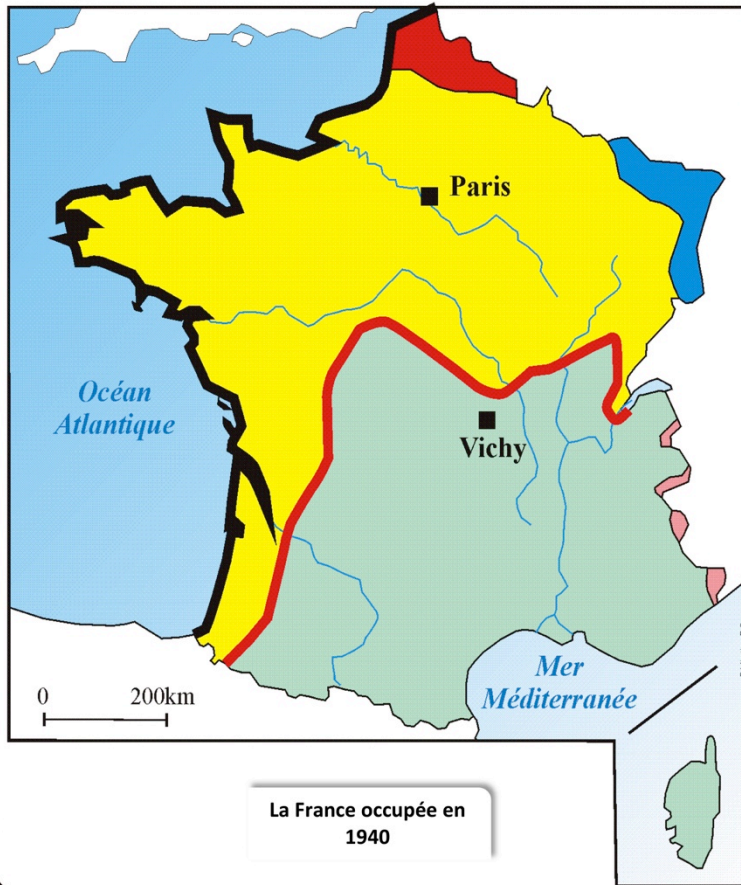


- La plus grande partie de l'Europe est occupée par l'Allemagne ou est son alliée: Nommez les Etats neutres.
- L'avance allemande à l'Est approche de Moscou. atteint la Volga.
- Les offensives contre l'Allemagne.
 - 1° En Afrique du Nord (Français du général Leclerc, Américains débarqués, Anglais venus d'Egypte);
 - 2° En Italie et en Corse;
 - 3° Débarquement en Normandie et en Provence;
 - 4° Offensives des Russes.

Je retiens :

1. La guerre éclate en septembre 1939, quand Hitler attaque la Pologne.
2. La France vaincue signe l'armistice de juin 1940.
3. A l'appel lancé de Londres, par le général de Gaulle, la Résistance s'organise, malgré une répression sauvage.

La seconde guerre mondiale

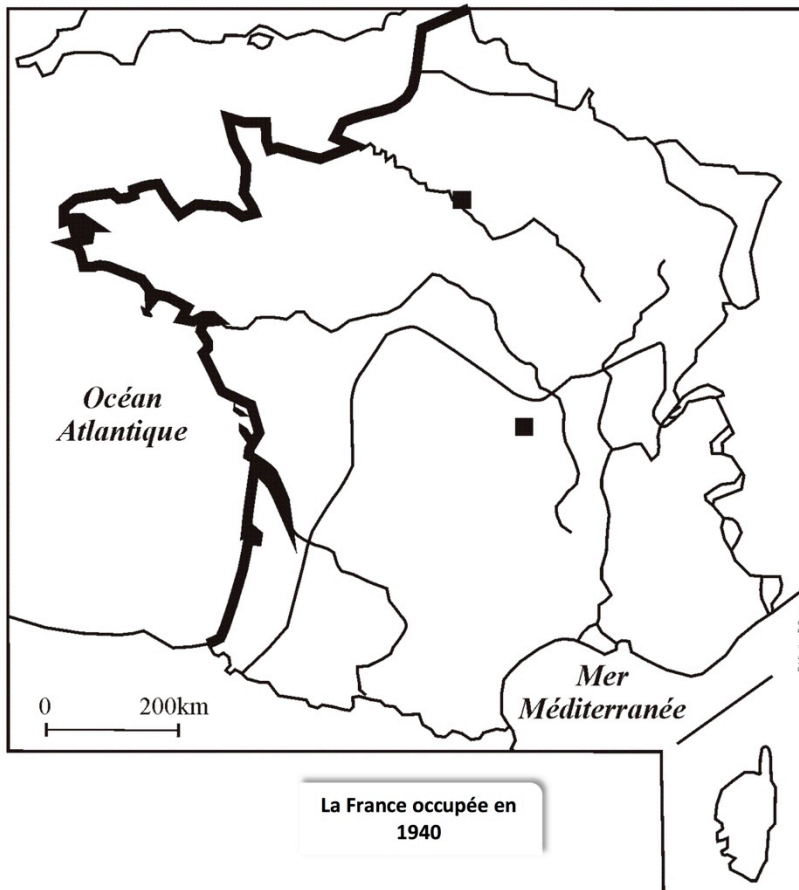


La France occupée en 1940

- Zone annexée par l'Allemagne
- Zone rattachée au commandement allemand de Bruxelles
- Zone occupée par l'Allemagne
- Zone occupée par l'Italie
- Zone libre dépendant de Vichy
- Ligne de démarcation
- Le mur de l'Atlantique

La France occupée fait l'objet d'un pillage économique, humain, financier et même territorial (**annexion de facto de l'Alsace-Lorraine**). Pour passer de la zone occupée à la zone libre, les Français doivent franchir la **ligne de démarcation**, véritable « frontière intérieure » gardée par les soldats allemands, soit de façon officielle en obtenant très difficilement un Ausweis (carte d'identité) ou un Passierschein (laissez-passer) auprès des autorités d'occupation ; soit clandestinement par l'intermédiaire d'un « passeur » lié aux nombreux réseaux de résistance. Dans les départements du Nord-Est, est définie une zone interdite au retour des gens partis en 1940. **Le mur de l'Atlantique** est un système de fortifications

La seconde guerre mondiale



La France occupée en 1940

-
-
-
-
-
-
-

La France occupée fait l'objet d'un pillage économique, humain, financier et même territorial (**annexion de facto de l'Alsace-Lorraine**). Pour passer de la zone occupée à la zone libre, les Français doivent franchir la **ligne de démarcation**, véritable « frontière intérieure » gardée par les soldats allemands, soit de façon officielle en obtenant très difficilement un Ausweis (carte d'identité) ou un Passierschein (laissez-passer) auprès des autorités d'occupation ; soit clandestinement par l'intermédiaire d'un « passeur » lié aux nombreux réseaux de résistance. Dans les départements du Nord-Est, est définie une zone interdite au retour des gens partis en 1940. **Le mur de l'Atlantique** est un système de fortifications



La seconde Guerre mondiale

La libération de l'Europe




L'Angleterre continue seule la guerre, dirigée par son ministre, W. Churchill. Elle résiste héroïquement, malgré les bombardements de sa capitale et la destruction de sa flotte par les sous-marins allemands.

La guerre s'étend bientôt au monde entier

• En **1941**, Hitler, pour achever d'être maître en Europe, conquiert les **Balkans** et attaque la **Russie**. Il s'enfonce dans ce pays immense, gagne des batailles, mais les **Russes ne s'avouent pas vaincus** ...

Le Japon (allié de l'Allemagne) provoque l'entrée en guerre des **Etats-Unis** dirigés par le **président Roosevelt** en attaquant et en détruisant, par surprise, la flotte américaine du Pacifique à **Pearl Harbor**.



• Eh **1942**, les Américains débarquent en **Algérie**, où se reconstitue l'**armée française**.

• En **1943**, l'**Italie** est envahie par les **Américains, les Anglais et les Français**. La **Corse** est délivrée. Les **Russes** font capituler une armée allemande à **Stalingrad**. On se bat en Europe, en Afrique, en Asie. On se bat sur terre, sur mer, dans les airs.

La guerre est totale. Les bombardements aériens tuent des milliers d'hommes, de femmes, d'enfants.

L'attaque japonaise sur Pearl Harbor.