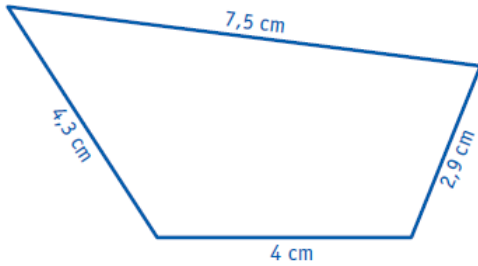


Compétence évaluée :	A	VA	NA
1 - 2 Mesures : Calculer le périmètre d'un polygone			
3 - 4 Mesures : Connaître les formules du périmètre du carré et du rectangle			

1 Calcule le périmètre de ce polygone sans mesurer.

...../2



.....

.....

.....

.....

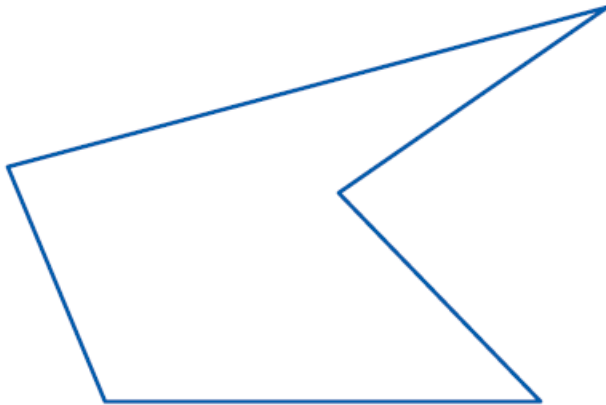
.....

.....

.....

2 Prends les mesures nécessaires puis calcule le périmètre de polygone.

...../3



.....

.....

.....

.....

.....

.....

.....

3 En utilisant les formules, calcule le périmètre de chaque figure.

...../6

Figure 1

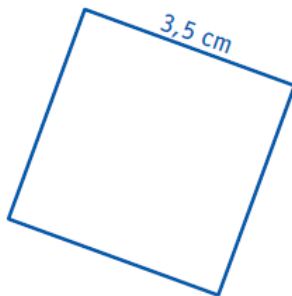


Figure 2

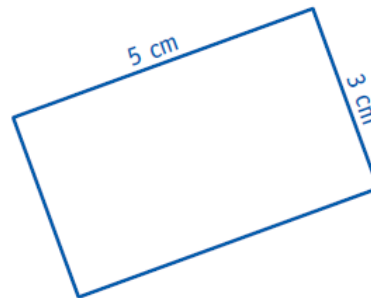


Figure 1.....

.....

Figure 2.....

.....

.....

.....

Date :

Nom + Prénom :



En utilisant les formules, calcule le périmètre de chaque figure.

.....19

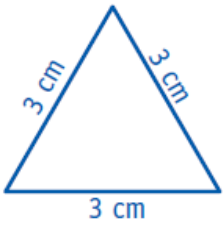


Figure 1

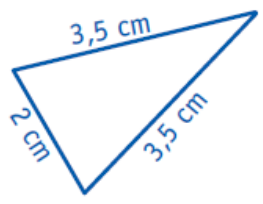


Figure 2

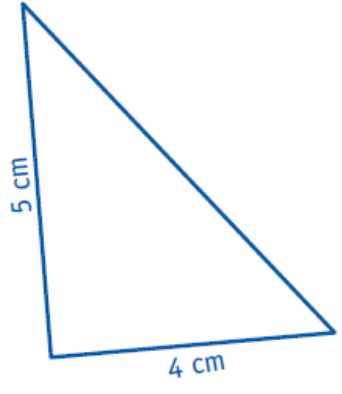


Figure 3

Figure 1.....
.....
.....

Figure 2.....
.....
.....

Figure 3.....
.....
.....