


1. Relie les différentes écritures d'un même nombre :

cinquante-huit	31
vingt-quatre	42
trente et un	58
quarante-deux	24


2. Écris le nombre de bonbons :



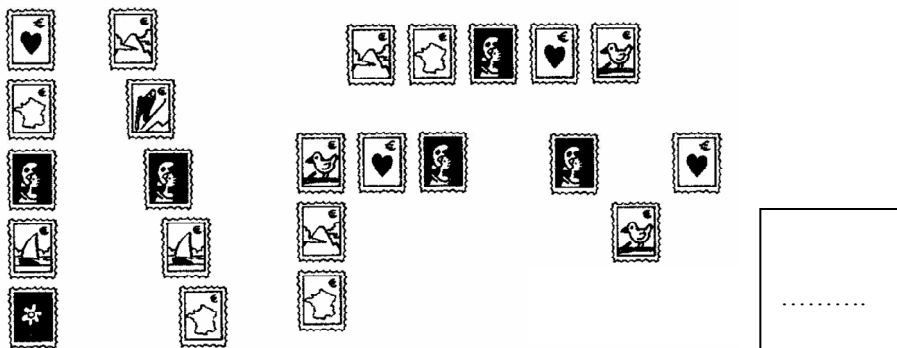
1. Relie les différentes écritures d'un même nombre :

cinquante-huit	31
vingt-quatre	42
trente et un	58
quarante-deux	24

2. Écris le nombre de bonbons :



3. Ecris le nombre de timbres d'Arthur. :



3. Ecris le nombre de timbres d'Arthur. :

