

Evaluation de géographie CM - Qu'est-ce que la géographie ?

Compétences évaluées :

Lire et utiliser différents langages : cartes, croquis, graphiques, chronologie, iconographie




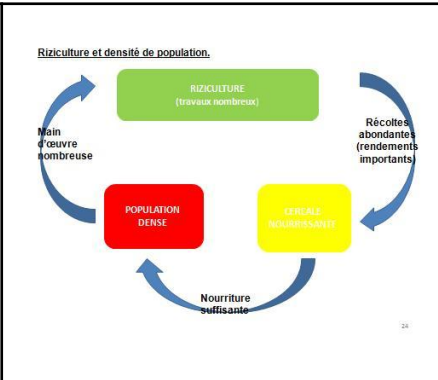
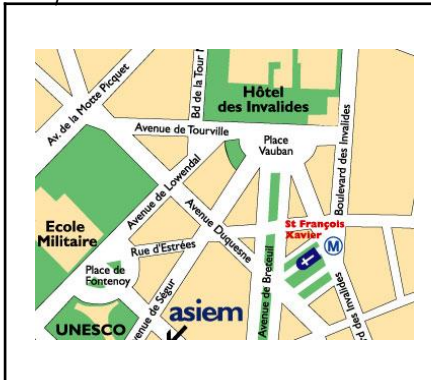
Prénom : _____
Date : _____

NOTE :

Les outils du géographe

1- Écris sous chaque illustration de quel outil il s'agit :

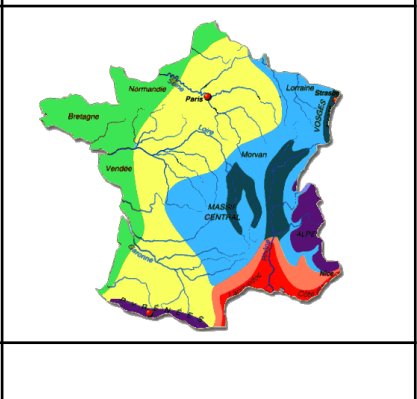
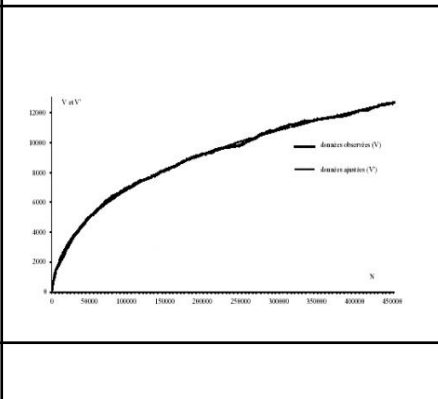
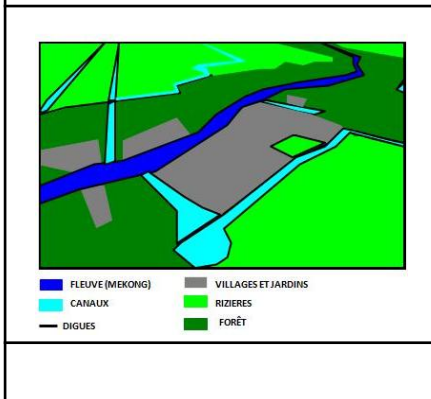
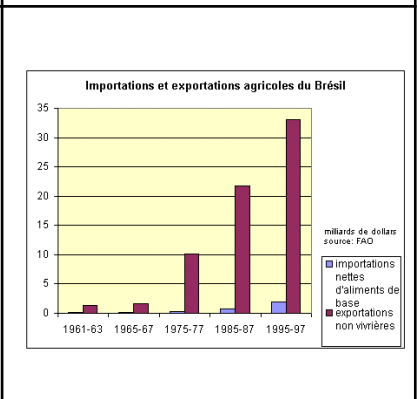
une carte, une photographie par satellite, un globe terrestre, un tableau, un graphique en bâtons, un schéma, un plan, un croquis, une courbe.



Vote démocrate en 2004 dans l'Etat de New York par comtés

Comtés urbains		Comtés ruraux	
Erie	56,4	Allegany	34,1
Monroe	50,6	Wyoming	33,8
Onondaga	54,2	Yates	39,3
Albany	60,7	Delaware	41,2
Broome	50,4	Greene	39,9
New York City		Schoharie	38
Kings	74,9	Hamilton	31,0
Queens	71,7	Essex	45,6
Nassau	52,3	Lewis	39,9
Bronx	82,8		

Réalisation : G. RABALLAND, 2008.



Cuteur : mariehelene83

http://laclassedestef.deblog.com



Les éléments de la carte

1- Écris dans le cadre approprié un de ces termes : TITRE / ORIENTATION / LÉGENDE / ÉCHELLE
et complète la rose des vents (Nord / Sud / Est / Ouest)

Carte de France des littoraux

[Empty box with arrow pointing to the map title]

2- Définis les mots suivants :

Une légende c'est _____

Les points cardinaux permettent _____

L'échelle c'est _____