



Les nombres de 0 à 20 (1)

1 Dictée de nombres.

a 5 b 8 c 9 d 3 e 10 f 4

2 Lis les étiquettes et écris-les à la bonne place.

cinq un quatre six dix
huit sept trois neuf deux



1 : un 2 : deux 3 : trois
4 : quatre 5 : cinq 6 : six
7 : sept 8 : huit 9 : neuf
10 : dix

3 Complète. Sur chaque ligne, les nombres doivent se suivre de 1 en 1.

2 3 4 5 6 7 8 9 10 11 12 13

9 10 11 12 13 14 15 16 17 18 19 20

0 1 2 3 4 5 6 7 8 9 10 11

4 Rangé les nombres du plus petit au plus grand.

0 - 5 - 9 - 2 - 6 - 7 - 3



0 - 2 - 3 - 5 - 6 - 7 - 9



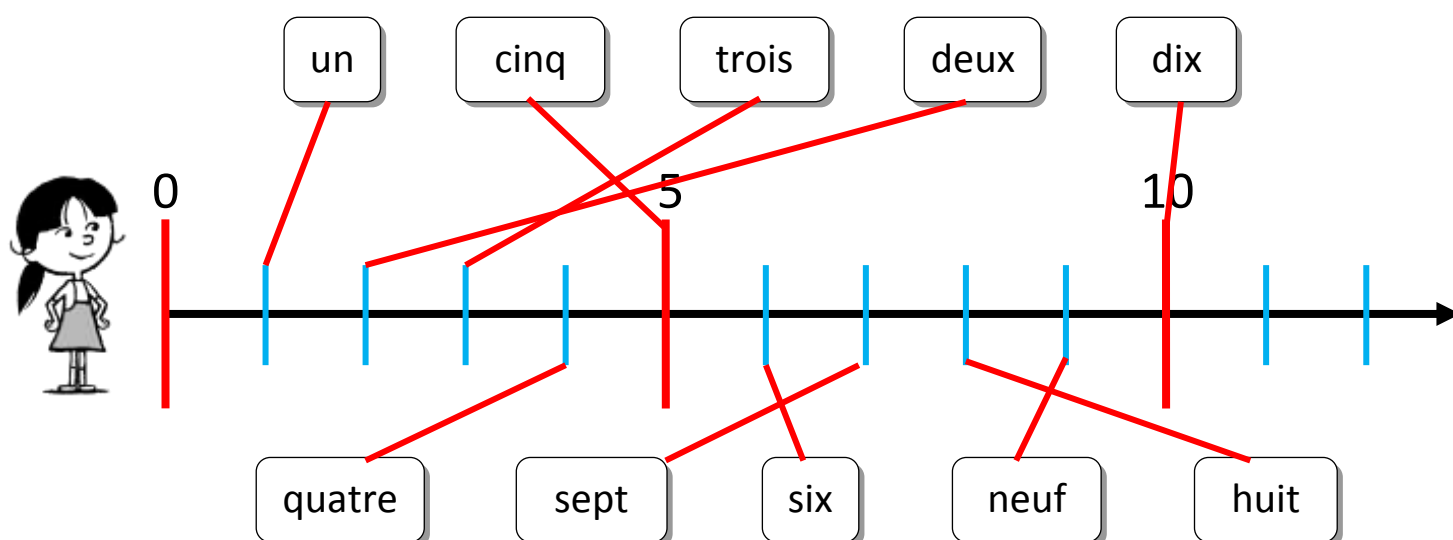


Les nombres de 0 à 20 (2)

1 Dictée de nombres en lettres.

a quatre b deux c cinq d trois e un

2 Relie les étiquettes à leur place sur la droite numérique.



3 Ecris le résultat de ces opérations en lettres.

$$\text{huit} + \text{un} = \text{sept}$$

$$\text{quatre} + \text{deux} = \text{six}$$

$$\text{trois} + \text{cinq} = \text{huit}$$

$$\text{quatre} + \text{un} = \text{cinq}$$

$$\text{six} + \text{quatre} = \text{dix}$$

$$\text{un} + \text{deux} = \text{trois}$$

$$\text{deux} + \text{sept} = \text{neuf}$$

$$\text{trois} + \text{un} = \text{quatre}$$



Les nombres de 0 à 20 (3)

1 Dictée de nombres en lettres.

a un b deux c trois d quatre e cinq

2 Complète avec <, > ou =.


2  8

3 < 7 9 > 7 7 = 6 + 1 4 + 1 < 7
5 < 6 7 > 6 5 = 5 3 + 4 > 6
2 < 9 10 > 9 9 = 3 + 6 2 + 5 < 9

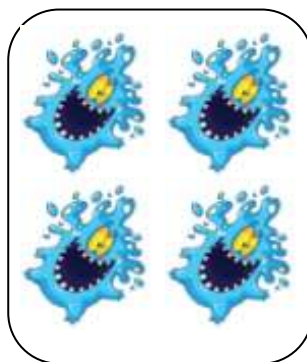
3 Ecris le nombre qui convient.




9



7

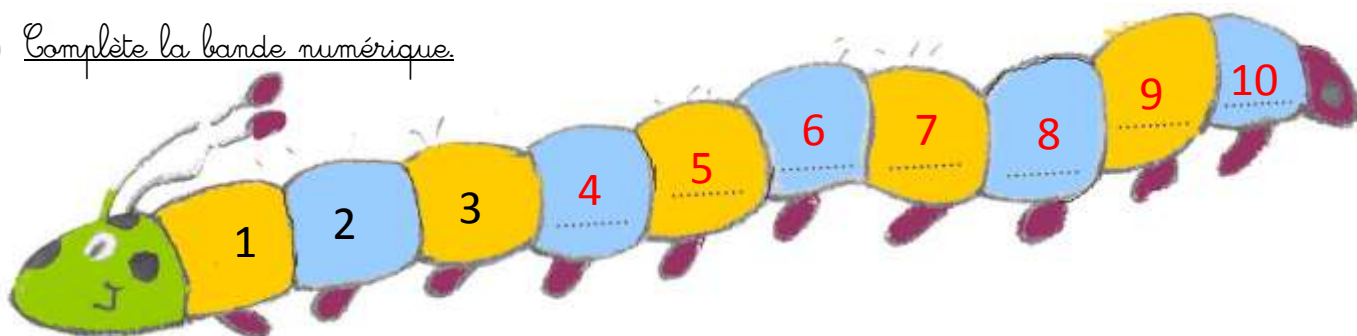


4



10

4 Complète la bande numérique.





Les nombres de 0 à 20 (4)

1 Dictée de nombres en lettres.

a six b sept c huit d neuf e dix

2 Lis les étiquettes et écris-les à la bonne place.

quinze onze quatorze seize vingt
dix-huit dix-sept treize dix-neuf douze



11 : onze 12 : douze 13 : treize
 14 : quatorze 15 : quinze 16 : seize
 17 : dix-sept 18 : dix-huit 19 : dix-neuf
 20 : vingt

3 Complète. Sur chaque ligne, les nombres doivent se suivre de 2 en 2.

0	2	4	6	8	10	12	14	16	18	20	22
3	5	7	9	11	13	15	17	19	21	23	25
2	4	6	8	10	12	14	16	18	20	22	24

4 Range les nombres du plus petit au plus grand.

10 - 15 - 9 - 12 - 6 - 17 - 3

3 - 6 - 9 - 10 - 12 - 15 - 17



Les nombres de 0 à 20 (5)

1 Dictée de nombres.

a 11

b 16

c 20

d 18

e 13

f 15

2 Relie les étiquettes à leur place sur la droite numérique.

onze

quinze

treize

douze

vingt

10

15

20

quatorze

dix-sept

seize

dix-neuf

dix-huit

3 Ecris le résultat de ces opérations en lettres.

huit + dix = **dix-huit**

neuf + deux = **onze**

trois + onze = **quatorze**

quatre + treize = **dix-sept**

seize + quatre = **vingt**

dix + deux = **douze**

dix + sept = **dix-sept**

trois + seize = **dix-neuf**