

Zerlege die Zahl  
75.

\_\_\_ Z \_\_\_ E

Zerlege die Zahl  
94.

\_\_\_ Z \_\_\_ E

Zerlege die Zahl  
82.

\_\_\_ Z \_\_\_ E

Zerlege die Zahl  
103.

\_\_\_ H \_\_\_ Z \_\_\_ E



2-sprachig

Zerlege die Zahl  
107.

\_\_\_ H \_\_\_ Z \_\_\_ E

Zerlege die Zahl  
78.

\_\_\_ E \_\_\_ Z

Zerlege die Zahl  
86.

\_\_\_ E \_\_\_ Z

Zerlege die Zahl  
91.

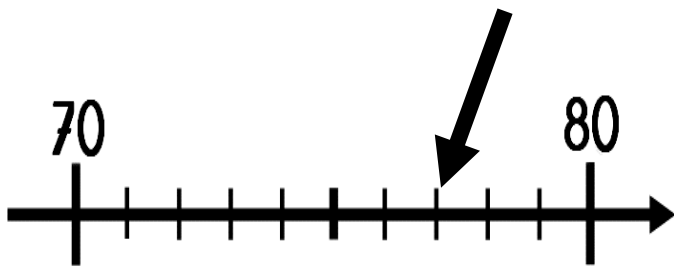
\_\_\_ H \_\_\_ Z \_\_\_ E



2-sprachig

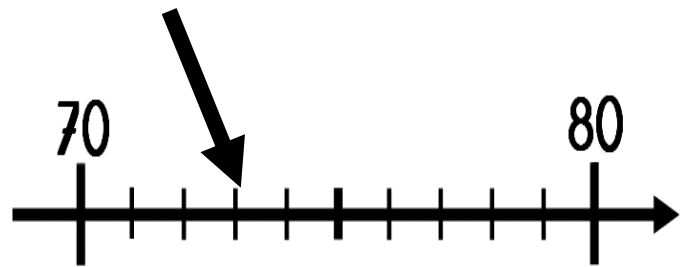
Welche Zahl ist das ? Schreibe.

\_\_\_\_\_

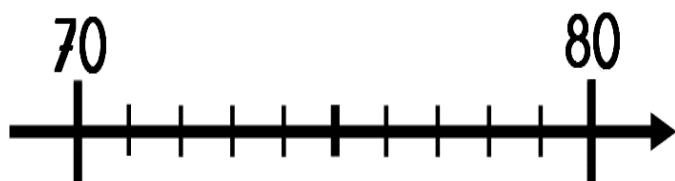


Welche Zahl ist das ? Schreibe.

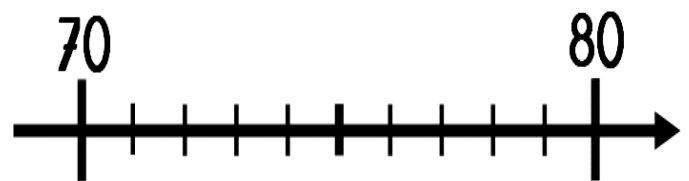
\_\_\_\_\_



Schreibe die Zahl 74  
an den richtigen  
Platz.



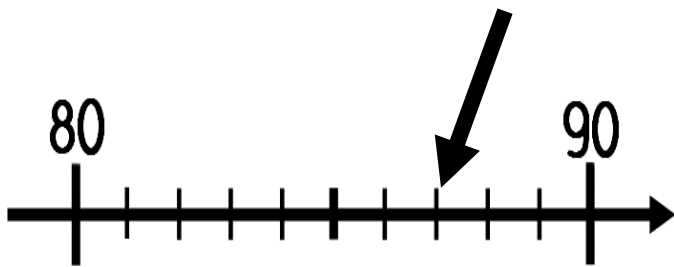
Schreibe die Zahl 78  
an den richtigen  
Platz.



2-sprachig

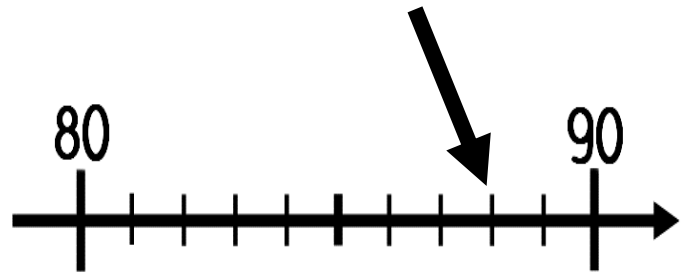
Welche Zahl ist das ? Schreibe.

\_\_\_\_\_

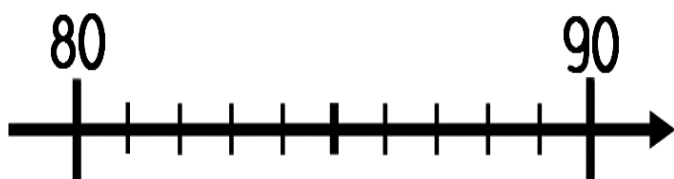


Welche Zahl ist das ? Schreibe.

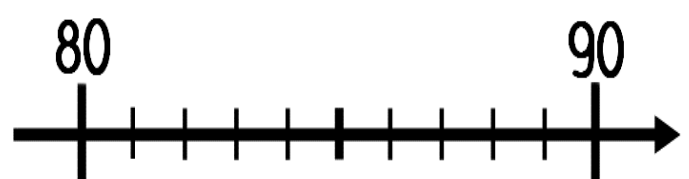
\_\_\_\_\_



Schreibe die Zahl 82  
an den richtigen  
Platz.



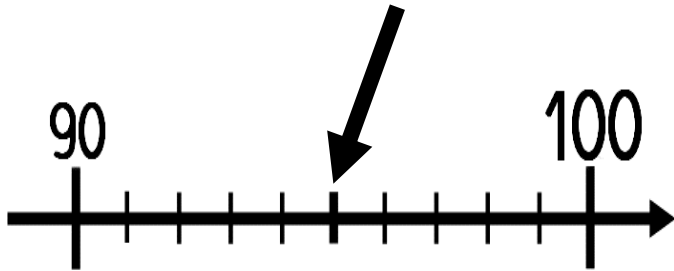
Schreibe die Zahl 89  
an den richtigen  
Platz.



2-sprachig

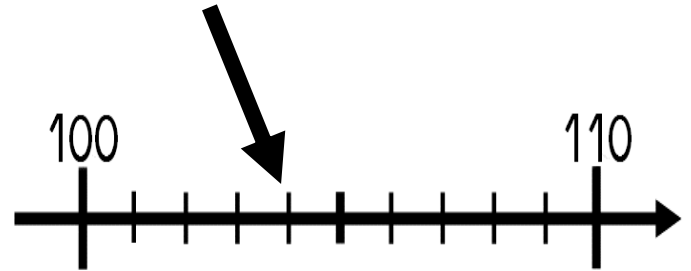
Welche Zahl ist das ? Schreibe.

\_\_\_\_\_

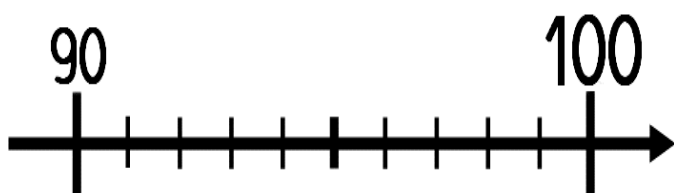


Welche Zahl ist das ? Schreibe.

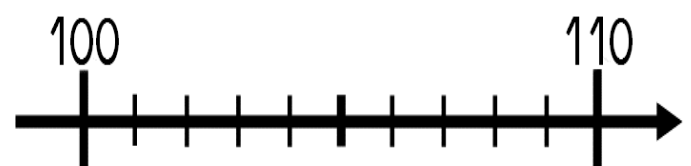
\_\_\_\_\_



Schreibe die Zahl 99  
an den richtigen  
Platz.



Schreibe die Zahl 109  
an den richtigen  
Platz.



2-sprachig

Wie viel Geld ist das?  
Schreibe.

€




Wie viel Geld ist das?  
Schreibe.

€



Wie viel Geld ist das?  
Schreibe.

€



Wie viel Geld ist das?  
Schreibe.


€



2-sprachig


Zeichne die  
Geldsumme.

82 €




Zeichne die  
Geldsumme.

79 €




Zeichne die  
Geldsumme.

110 €



Zeichne die  
Geldsumme.

96 €



2-sprachig

Schreibe die Zahl  
91 in Worten.

---

Schreibe die Zahl  
76 in Worten.

---

Schreibe die Zahl  
84 in Worten.

---

Schreibe die Zahl  
89 in Worten.

---



2-sprachig



Schreibe die Zahl  
100 in Worten.

---

Schreibe die Zahl  
73 in Worten.

---

Schreibe die Zahl  
92 in Worten.

---

Schreibe die Zahl  
87 in Worten.

---



2-sprachig

Ordne die Zahlen von der  
Kleinsten zur Größten.

89      6      64  
102      99

---

Ordne die Zahlen von der  
Kleinsten zur Größten.

24      86      9  
93      41

---

Ordne die Zahlen von der  
Kleinsten zur Größten.

84      80      71  
63      92

---

Ordne die Zahlen von der  
Kleinsten zur Größten.

70      77      8  
82      17

---



2-sprachig

Schreibe eine Zahl, die kleiner ist und eine Zahl, die größer ist.

	99	
--	----	--

Schreibe eine Zahl, die kleiner ist und eine Zahl, die größer ist.

	106	
--	-----	--

Schreibe eine Zahl, die kleiner ist und eine Zahl, die größer ist.

	86	
--	----	--

Schreibe eine Zahl, die kleiner ist und eine Zahl, die größer ist.

	75	
--	----	--



2-sprachig

Rechne.

$$10 + 10 + 10 + 10 + 10 + 10 + 10 + 7 =$$

\_\_\_\_\_

Rechne.

$$10 + 10 + 10 + 10 + 10 + 10 + 10 + 10 + 10 + 3 =$$

\_\_\_\_\_

Rechne.

$$10 + 10 + 10 + 10 + 10 + 10 + 10 + 10 + 10 + 10 + 10 =$$

\_\_\_\_\_

Rechne.

$$10 + 10 + 10 + 10 + 10 + 10 + 10 + 10 + 10 + 10 + 3 =$$

\_\_\_\_\_



2-sprachig

Rechne.

$$60 + 20 =$$

\_\_\_\_\_

Rechne.

$$20 + 20 + 20 +$$

$$20 + 20 =$$

\_\_\_\_\_

Rechne.

$$30 + 30 + 30 =$$

\_\_\_\_\_

Rechne.

$$50 + 50 =$$

\_\_\_\_\_



2-sprachig

Ergänze die Zahlenfolge.

10	20	30			
----	----	----	--	--	--

Ergänze die Zahlenfolge.

5	10	15			
---	----	----	--	--	--

Ergänze die Zahlenfolge.

100	101	102			
-----	-----	-----	--	--	--

Ergänze die Zahlenfolge.

47	48	49			
----	----	----	--	--	--



2-sprachig

Ergänze die Zahlenfolge.

2	4	6			
---	---	---	--	--	--

Ergänze die Zahlenfolge.

40	50	60			
----	----	----	--	--	--

Ergänze die Zahlenfolge.

96	97	98			
----	----	----	--	--	--

Ergänze die Zahlenfolge.

50	60	70			
----	----	----	--	--	--



2-sprachig

Schreibe eine Zahl, die kleiner ist und eine Zahl, die größer ist.

	100	
--	-----	--

Schreibe eine Zahl, die kleiner ist und eine Zahl, die größer ist.

	95	
--	----	--

Schreibe eine Zahl, die kleiner ist und eine Zahl, die größer ist.

	79	
--	----	--

Schreibe eine Zahl, die kleiner ist und eine Zahl, die größer ist.

	81	
--	----	--



2-sprachig



Rechne.

$$25 + 25 = \underline{\quad}$$

Rechne.

$$50 + 50 = \underline{\quad}$$

Rechne.

$$50 + 25 = \underline{\quad}$$

Rechne.

$$25 + 25 + 25 + 25 = \underline{\quad}$$



2-sprachig