



Attention, certains mots peuvent être des adjectifs ou des noms !
Voir aide-mémoire page 152 : L'ADJECTIF QUALIFICATIF.

PAYSAGE
POILU
RAYÉ
REPAS
SOMMEIL
SPONTANÉ
SURPRENANT
TALENTUEUX
TROPICALE
VITRINE
VRAI
XYLOPHONE
ZEBRE

FORT
FRESCUE
FROID
GIGANTESQUE
INTELLIGENT
JAUNE
MAIGRE
MAUVAIS
NAVALE
NERVEUSE
NOUVEAU
NUISIBLE
ONDULE

ANCIEN
BEAU
CAPRICIEUSE
CASSANT
CHACAL
CHARADE
CISELÉ
COURT
DOULOUREUSE
ÉNJAMBER
ÉTONNANT
EXTRAORDINAIRE
FAIBLE

Mon adjectif de plus est :

C	E	R	I	A	N	I	D	R	O	A	R	T	X	E	
A	S	X	L	S	U	R	P	R	E	N	A	N	T	U	V
P	U	U	T	A	E	S	U	E	V	R	E	N	Q	R	S
R	E	E	E	C	C	O	U	R	T	I	A	S	A	E	I
I	R	U	L	F	A	I	B	L	E	N	E	I	C	N	A
C	U	T	B	M	O	S	P	O	N	T	A	N	E	U	V
I	O	N	I	A	A	R	S	O	N	O	U	V	E	A	U
E	L	E	S	I	C	I	T	A	R	D	E	A	A	J	A
U	U	L	I	O	P	E	G	F	N	T	U	Y	E	L	M
S	O	A	U	A	D	I	O	R	F	T	R	L	A	B	E
E	D	T	N	E	G	I	L	L	E	T	N	I	E	R	P

Commence par barrer, dans la liste, tous les mots qui ne peuvent pas être des adjectifs. Puis, barre les autres dans la grille. Attention, ils sont écrits horizontalement, verticalement, en diagonale, à l'endroit ou à l'envers, et quand ils se croisent, une même lettre peut servir pour plusieurs mots. Quand tu les auras tous barrés, il te restera sept lettres pour écrire un adjectif de plus.

MOTS MASQUÉS

PRÉHISTO-QUIZ

1 - À quelle époque l'homme a-t-il découvert le feu ?

- A - Au paléolithique.
- B - Au néolithique.
- C - Pendant l'Antiquité.

2 - Que signifie en latin *Homo sapiens* ?

- A - L'homme à pied.
- B - L'homme qui peint.
- C - L'homme sage.

3 - Qui fut l'homme de Cro-Magnon ?

- A - Notre ancêtre direct.
- B - L'ancêtre du Yeti.
- C - Une invention. Il n'a jamais existé.

4 - Pourquoi l'homme est-il devenu sédentaire ?


- A - Parce qu'il a découvert l'agriculture.
- B - Parce qu'il en avait assez de marcher.
- C - Parce que le paysage était joli.

5 - Qu'a-t-on découvert à Lascaux ?

- A - Les plus anciennes traces de l'utilisation du feu.
- B - Une grotte couverte de peintures d'animaux.
- C - Des menhirs.

6 - À quelle date débute la civilisation égyptienne ?

- A - Vers 12 000 av. J.-C.
- B - Vers 3 000 av. J.-C.
- C - En 500 ap. J.-C.



MOTS CROISÉS



Remplis cette grille de mots croisés en t'aidant des définitions.

	A	B	C	D	E	F	G
1							
2							
3							
4							
5							
6							
7							

Horizontalement :

- 1 - Graves, aigus ou circonflexes.
- 2 - An à l'envers. Maisons d'oiseaux.
- 3 - Sorte d'accent.
- 4 - 2 en chiffres romains.
- 5 - Le contraire de positif.
- 6 - Très fatiguée.
- 7 - Note de musique.
Science-fiction en abrégé.

Verticalement :

- A - Maladies de la gorge.
- B - Bus. Une tige de blé ou une mèche de cheveux.
- C - Sorte d'accent.
- D - Jalousais.
- E - Dis que ce n'est pas vrai.
Vieux nom de la radio.
- F - Travaux dirigés en abrégé.
Femelle du jars.
- G - Sud sud-ouest. Magicienne.

LE BOUQUET



J'ai offert à maman un très joli bouquet de 24 fleurs. La moitié de ces fleurs sont des roses, un tiers sont des marguerites et les autres fleurs sont des tulipes. Toutes les tulipes et un quart des roses sont rouges.

Combien y a-t-il de tulipes, de marguerites, de roses rouges et de roses blanches dans mon bouquet ?

BIZARRE-BIZARRE !

Karim revient d'un week-end à Londres. Il montre à ses amis les souvenirs qu'il a rapportés : « une photo de la reine d'Angleterre, une miniature de Buckingham Palace, un maillot de Liverpool et un disque des Meatles introuvable en France. » Il montre à ses amis le ticket de caisse : il en a eu pour 98 euros.

Pourtant ses amis sont sceptiques. Pourquoi ?

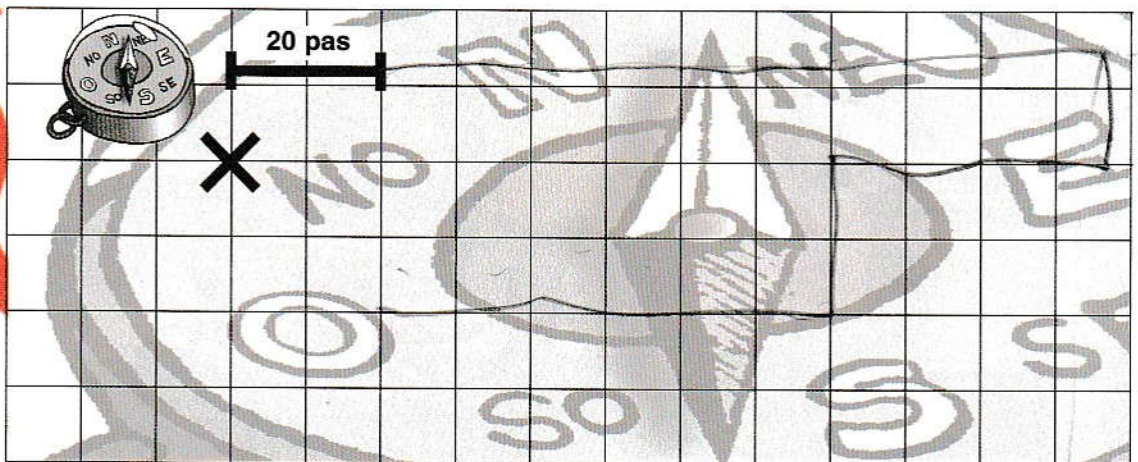


L'OR DU PIRATE

Tu as trouvé un vieux parchemin sur lequel est inscrit ce message :

« À partir du gros rocher, marche 100 pas vers l'est, puis 20 pas vers le sud, 40 pas vers l'ouest, 20 pas vers le sud et 60 pas vers l'ouest. Tu trouveras mon trésor. »

Tu te rends sur l'île déserte, tu suis les indications et tu découvres un coffre rempli de pièces d'or ! Pour le rapporter à ton point de départ près du gros rocher, combien te faut-il parcourir de pas ?



Écris dans chaque rectangle la mesure qui correspond aux deux définitions contenues dans les deux ronds voisins.

Ces deux mesures sont les plus petites de la liste.

6 mm

Ces deux mesures sont exprimées en millimètres.

120 MM

20,015 HM

Ces deux mesures sont exprimées en centimètres.

1,8 DM

Ces deux mesures sont inférieures à 25 cm.

0,5 CM

250 000 CM

Ces deux mesures sont équivalentes.

~~6 MM~~

Ces deux mesures sont équivalentes.

2 500 M

0,018 DAM

Ces deux mesures sont supérieures à 2 km.

Ces deux mesures sont des nombres décimaux avec des millièmes.

MIAM

MIAM

NOISETTES

Trois écureuils ont caché vingt-quatre noisettes dans un tronc creux.

Le premier en a caché la moitié.


Le deuxième en a caché trois fois plus que le troisième.

Combien chaque écureuil a-t-il caché de noisettes ?



ADDITIONS

Le nombre écrit sur chaque brique doit être égal à la somme des deux nombres écrits sur les briques du dessous. Complète cette pyramide.



CARRÉ MAGIQUE

12	9	3	26	20
		21	7	
	25	14		2
19	6		15	8
23	17	10	4	

Dans ce carré magique, la somme de chacune des rangées de nombres (horizontale, verticale et diagonale) est toujours égale à 70. Complète ce carré magique.

- 5
- 13
- 11
- 22
- 18

- 16
- 24



Pour résoudre ce jeu, il suffit d'effectuer une série de soustractions. Voir aide-mémoire page 164 : **LES OPÉRATIONS.**

SUITE LOGIQUE

Complète la suite des dessins de Lune.

