




Voici ton lego.

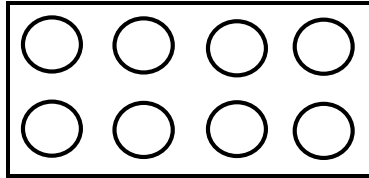


Combien a-t-il de points ?

1/ Choisis plusieurs pièces de la même taille pour recouvrir ton lego.

▫ Combien de points a le lego que tu as choisi ?

2/ Colorie sur le lego ci-dessous la pièce que tu as choisie.



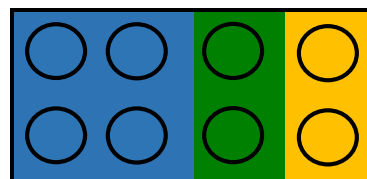
3/ Complète les phrases suivantes :

- Ton lego a points.
- Pour le recouvrir, tu as utilisé des lego à points.
- Sur ton dessin, tu as colorié points sur
- En mathématiques, la part que tu as coloriée peut s'écrire

CETTE ECRITURE A UN NOM. ON L'APPELLE UNE

4/ Construis le lego suivant puis utilise l'écriture mathématique que tu viens de voir pour représenter chaque part :

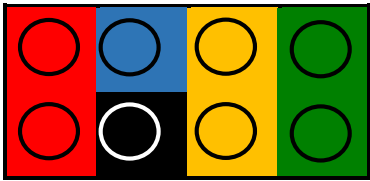
- Part bleue :
- Part verte :
- Part jaune :



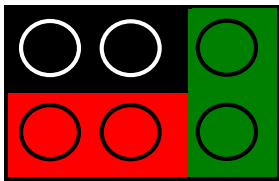
TOTAL :




5/ Assemble les lego suivants puis complète les tableaux :



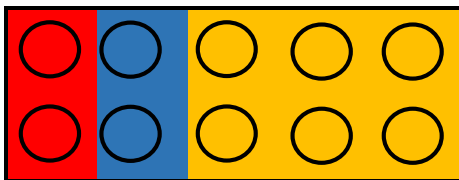
<u>Part rouge</u>	<u>Part bleue</u>	<u>Part noire</u>	<u>Part jaune</u>	<u>Part verte</u>
<u>TOTAL</u>				




<u>Part rouge</u>	<u>Part noire</u>	<u>Part verte</u>
<u>TOTAL</u>		




<u>Part verte</u>	<u>Part rouge</u>	<u>Part jaune</u>	<u>Part bleue</u>
<u>TOTAL</u>			



<u>Part rouge</u>	<u>Part bleue</u>	<u>Part jaune</u>
<u>TOTAL</u>		



<u>Part rouge</u>	<u>Part noire</u>	<u>Partjaune</u>
<u>TOTAL</u>		



<u>Part rouge</u>	<u>Part bleue</u>	<u>Part noire</u>	<u>Part jaune</u>	<u>Part verte</u>
<u>TOTAL</u>				