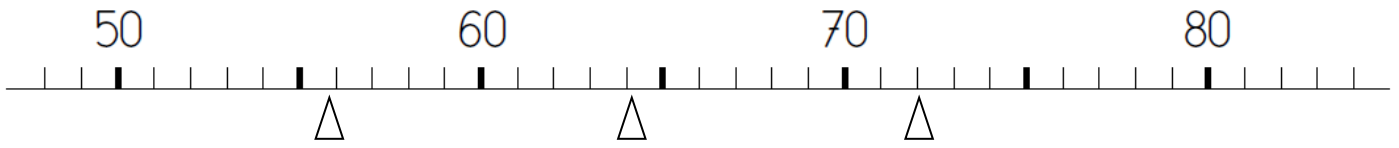


Evaluation Mathématiques CE1
Septembre 2010
N°1

1. Observe la ligne graduée



Quels nombres correspondent aux repères a, b et c ?

A B C

Place les nombres 52, 76 et 68 au bon endroit.

2. Combien y a-t-il d'escargots ? Réponds par une phrase.



.....

3. Entoure les cartes et les perles qu'il faut choisir pour obtenir le nombre de Moustik.



10 perles	10 perles	10 perles	10 perles	10 perles	10 perles	10 perles	10 perles	10 perles
-----------	-----------	-----------	-----------	-----------	-----------	-----------	-----------	-----------



4. Complète

Place.

■ dans la case D3.

● dans la case G5.

▲ dans la case A2.

Complète.

□ est dans la case

○ est dans la case


△ est dans la case

	a	b	c	d	e	f	g	h
1								
2						△		
3								
4					□			
5		○						

5. Résous les problèmes


Lisa veut 43 timbres.

Barre les carnets et les timbres en trop.



Alex veut 45 timbres.

Dessine les carnets et les timbres qui manquent.



Alex a 45 images.

Il donne 2 paquets de 10 images à Lisa.

Combien lui reste-t-il d'images ?

Il lui reste images.

Je sais	Exercices	acquis	en cours d'acquisition	non acquis
Situer des nombres sur une ligne graduée de 1 en 1	①			
Dénombrer des quantités en utilisant des groupements par dizaine	②			
Connaître et utiliser la valeur des chiffres en fonction de leur position dans l'écriture décimale d'un nombre	③			
Repérer et coder les cases d'un quadrillage	④			
Utiliser la valeur positionnelle des chiffres pour résoudre des problèmes.	⑤			