

Pichon nom :

data :

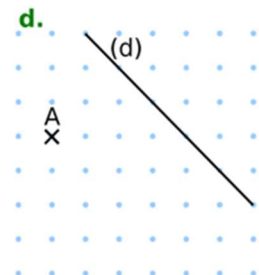
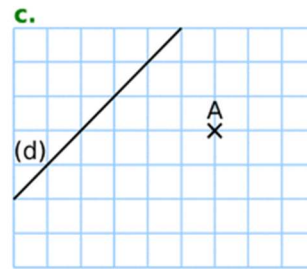
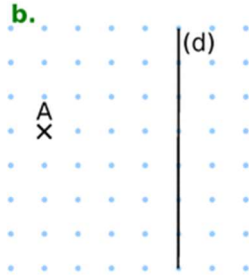
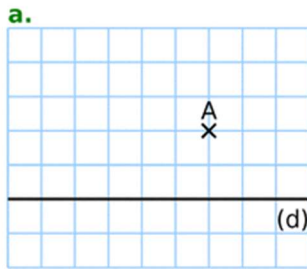
Geometria

Pròva Blau Clar

EG3

Je sais tracer une parallèle à une droite qui passe par un point donné

1/ Per cada figura traça la parallèla (e) a la dreita (d) que passa pel punt (a) :



2/ Traça las parallèlas a la dreita (d) que passen pels punts A , B, C, D, E, F, (daissa los traits de construccion):

