



LES 10 DÉFIS DE FIN D'ANNÉE

Tu as 30 min pour réaliser ces 10 défis. Es-tu prêt à relever ce défi ? C'est parti !

Défi n°1 :


Entoure les 10 verbes conjugués de ce texte :

Les vacances approchent. Nous avons hâte de voir l'océan. Nous partons au même endroit que l'année dernière. On a aimé aller là-bas. C'était super ! Nous nous baignerons dans l'océan. Nous jouerons aux raquettes pendant que nos parents bronzeront. Le soir, nous mangerons au restaurant. Puis nous nous baladerons sur la plage.


Défi n°2 :

Pose et résous ces opérations :


$$79 \times 4$$



$$698 + 156$$



$$458 - 196$$



Défi n°3 :

Ecris les résultats de ces multiplications et divisions :

$$5 \times 6 = \dots\dots\dots$$

$$10 : 2 = \dots\dots\dots$$

$$9 \times 4 = \dots\dots\dots$$

$$35 : 5 = \dots\dots\dots$$

$$3 \times 8 = \dots\dots\dots$$

$$20 : 2 = \dots\dots\dots$$


$$7 \times 3 = \dots\dots\dots$$

$$25 : 5 = \dots\dots\dots$$

$$5 \times 9 = \dots\dots\dots$$

Défi n°4 :

Résous cette énigme et replace les enfants à l'étage où ils habitent :



Yacin habite en-dessous de Jeanne mais il n'est pas au premier étage.

Léo n'habite pas en dessous d'une fille.

Yasmine habite au dernier étage.

Défi n°5 :

Trouve ces deux nombres mystères :



Mon chiffre des centaines est le plus grand chiffre. Mon chiffre des dizaines est mon chiffre des centaines moins 1. Mon chiffre des unités est la moitié de mon chiffre des dizaines.

Je suis



Mon chiffre des dizaines est le double de mon chiffre des centaines. Mon chiffre des unités est le nombre de face d'un dé. Mon chiffre des centaines est mon chiffre des unités moins 5.

Je suis

Défi n°6 :

P	V	L	E	C	T	U	R	E	R
A	P	L	O	N	G	E	R	G	E
R	Y	A	M	I	O	H	V	G	P
T	F	F	B	X	C	N	A	U	O
I	N	A	G	E	R	O	G	G	S
R	K	T	M	M	V	U	U	B	T
Q	G	M	T	E	M	R	E	O	F
I	G	L	A	C	E	S	Z	U	J
G	H	U	J	P	M	I	X	É	H
I	A	M	E	R	K	N	R	E	T

Retrouve les 10 mots sur le thème des vacances et entoure-les :

LECTURE

MER

BOUEE

PARTIR

REPOS

VAGUE

PLONGER

GLACES

NAGER

OURSIN

Défi n°7 :

Trouve 9 noms communs commençant par la lettre D :

- 1)..... 2)..... 3).....
4) 5)..... 6).....
7)..... 8)..... 9).....

Défi n°8 :

Trouve la réponse aux questions :

1) Elle prit son vieux chaudron qu'elle plaça sur le feu. Elle y versa divers ingrédients, dont certains dégageaient une odeur nauséabonde. En dernier lieu, elle ajouta un peu de bave de crapaud. Maintenant, la potion était prête... Qui est-elle ?.....

2) D'un coup, la salle s'assombrit. Calé dans mon fauteuil, je vis défiler sur l'immense toile blanche les premières images... Où suis-je ?

Défi n°9 :

Résous cette énigme :

Monsieur et Madame Martin ont 5 filles. Chaque fille a un frère.


Combien la famille Martin compte-t-elle de membres au total ?

Défi n°10 :

Trouve la phrase cachée dans ce rébus :



C 2



Tu as réussi entre 0 et 3 défis : Tu es capable de faire mieux !



Tu as réussi entre 4 et 6 défis : C'est bien !



Tu as réussi entre 7 et 9 défis : C'est super !



Tu as réussi les 10 défis : Bravo tu es un(e) champion(ne) !

