

Prénom : _____

Date : _____

R.

Révisions

Lundi 25 / 05

Je suis distraite.

1) Corrige les erreurs de madame Stéphanie.



$9 + 1 = \boxed{10}$

$5 + 4 = \boxed{10}$

$1 + 8 = \boxed{10}$

$7 - 3 = \boxed{5}$

$9 - 9 = \boxed{1}$

$7 + 1 + 1 = \boxed{10}$

$10 - 2 - 1 = \boxed{6}$

$6 + 4 = \boxed{10}$

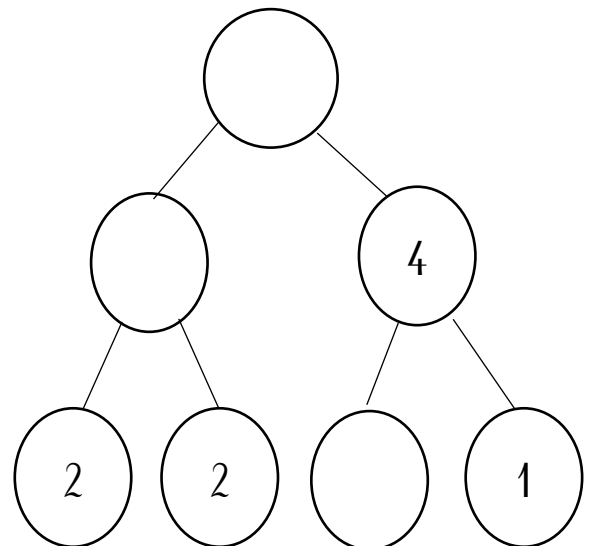
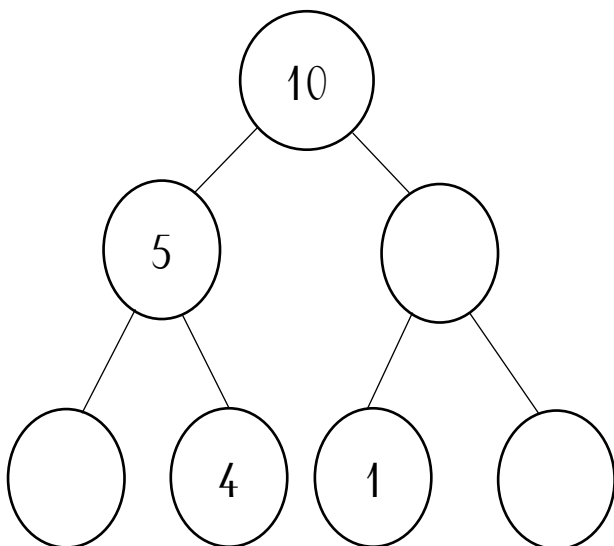
$3 + 3 = \boxed{5}$

$8 - 4 = \boxed{4}$

$6 + 2 = \boxed{9}$

$7 + 0 + 3 = \boxed{9}$

2) Complète les arbres.



3) Retrouve le prénom des enfants.



~~Louis~~

Elise

Erine

Théo

Lila

Lila est à gauche de Louis.

Erine est à droite de Louis.

Erine est à gauche d'Elise.

Théo est à gauche de Lila.

4) Relie l'image à son mot.



• une hutte •

• l'aéroport •

• du lilas •

• le pupitre •

• un trésor •

• le stylo •

• des épinards •

• la moutarde •


• l'ampoule •

• Père Noël •

• Minnie •

• la serrure •

• une marmite •




5) Relie les étiquettes avec un nom de poisson à la mer.

tortue

dorade

serpent

panda



plie

sole

sardine

léopard

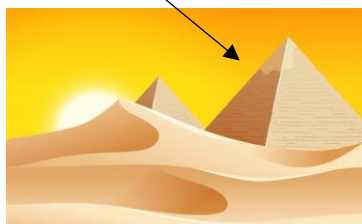
salamandre

putois

6) Écris le mot correspondant au dessin.



un



la

y



une

Mardi 26 / 05

7) Complète le dessin en suivant les consignes. Dessine.

Une souris se trouve **sous** la table.

Un vase est posé **sur** la table.

Un chat noir dort **sur** la chaise **à droite** de la table.

Un livre rouge se trouve **dans** l'armoire de **gauche**.

Un poster est collé au mur **entre** les deux armoires.



8) $>$, $<$ ou $=$

$$\overbrace{2 + 3} \dots \overbrace{3 + 3}$$

$$9 \dots \overbrace{4 + 4}$$

$$\overbrace{6 + 1} \dots \overbrace{10 - 2}$$

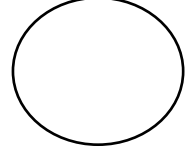
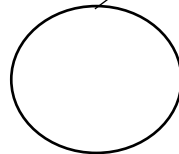
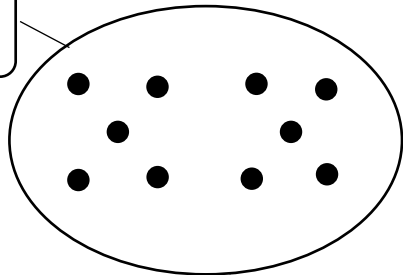
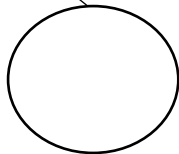
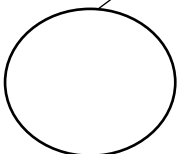
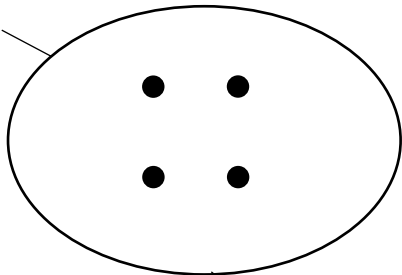
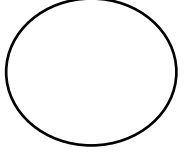

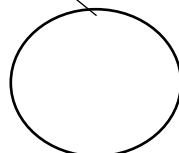
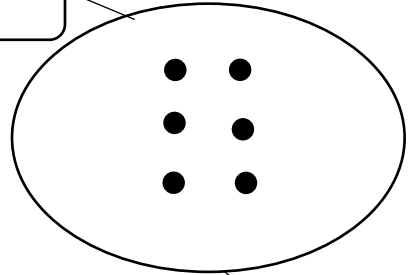
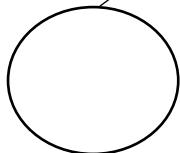
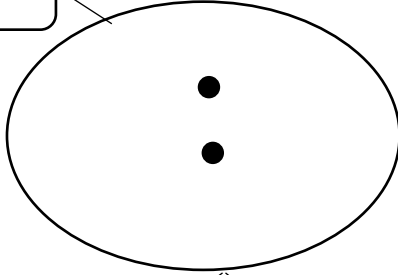
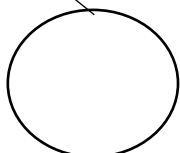
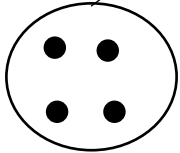
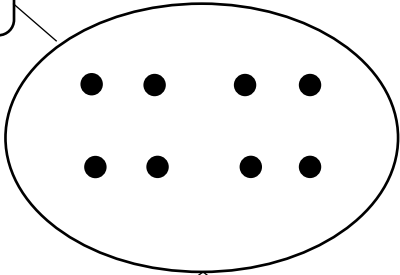
$$\overbrace{8 - 3} \dots \overbrace{2 + 2}$$

$$\overbrace{5 + 3} \dots \overbrace{10 - 2}$$

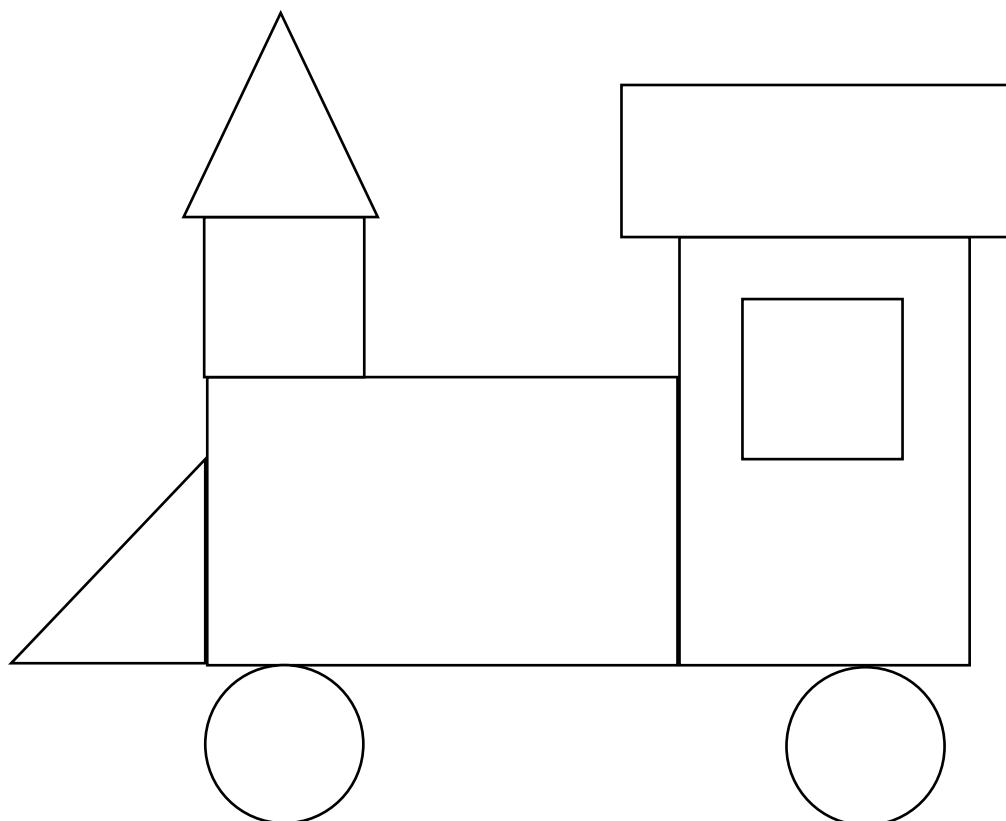
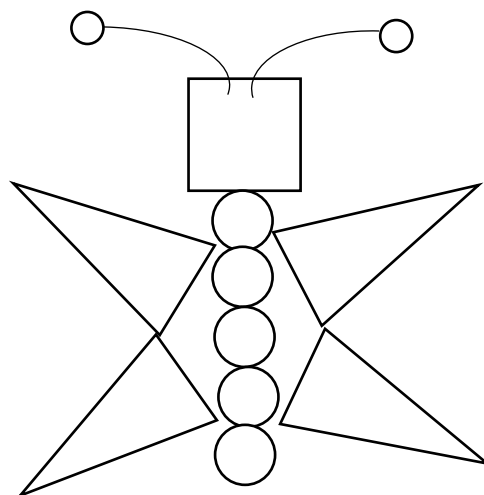


$$\overbrace{5 + 5} \dots 8$$

9) Décompose pour trouver la moitié de chaque nombre.

8



10) Colorie.



11) Retrouve tous les mots dans la grille.

E	L	E	P	H	A	N	T	R	M	O	R	S	E
Z	E	T	C	I	J	B	H	I	B	O	U	C	A
A	O	M	H	P	M	M	O	U	L	E	R	H	P
N	P	P	E	P	A	N	T	H	E	R	E	I	O
E	A	Y	V	O	S	E	R	P	E	N	T	E	I
S	R	S	A	P	T	M	O	U	T	O	N	N	S
A	D	P	L	O	O	U	R	S	S	B	K	Q	S
R	R	O	T	T	A	M	A	N	O	I	R	T	O
D	P	U	G	A	A	J	R	C	U	L	X	I	N
I	U	L	O	M	C	A	I	H	R	I	O	G	E
N	T	E	Z	E	B	R	E	A	I	O	T	R	W
E	O	N	L	A	M	A	B	T	S	N	Y	E	A
A	I	L	A	P	I	N	U	F	O	U	R	M	I
S	S	G	I	R	A	F	E	T	O	R	T	U	E

- LEOPARD
- ELEPHANT
- HIBOU
- HIPPOPOTAME
- ZEBRE
- TIGRE
- FOURMI
- GIRAFE
- LAPIN
- POULE
- SERPENT
- POISSON
- CHIEN
- MORSE
- SOURIS
- TAMANOIR
- PANTHERE
- TORTUE
- SARDINE
- CHEVAL
- MOUTON
- LION
- ANE
- LAMA
- PUTOIS
- CHAT
- MOULE
- OURS

12) Entoure le mot qui correspond au dessin.



plame

palme

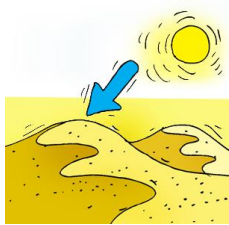
polme



étoile de mar

édoile de mer


étoile de mer



lune

pune

dune



pédale

pétale

pétole



limonade

linonade

limomade



palme

papier

palmier



peloise

pelaise

pelouse



sandale

santale

dansale

13) Complète avec les mots du cadre.

lustre - pamplemousse - ampoule - sol - pelure - pommade - rampe - pied

Le serpent _____ sur le _____ .

Il fait noir, papa change l' _____ du _____ .

Elle retire la _____ du _____ .

Tom a mal à son _____ . Il met de la _____ .

14) Recopie la phrase en attaché.

Maman se promène près du port tous les samedis.

Jeudi 28 / 05

15) Calcule.

$$\overbrace{9 - 3}^{\dots} - 2 = \dots$$

$$\overbrace{7 - 2}^{\dots} - 3 = \dots$$

$$\overbrace{9 - 2}^{\dots} - 4 = \dots$$

$$\overbrace{8 - 3}^{\dots} - 3 = \dots$$

$$\overbrace{9 - 1}^{\dots} - 5 = \dots$$


$$\overbrace{6 - 1}^{\dots} - 3 = \dots$$

$$\overbrace{9 - 5}^{\dots} - 2 = \dots$$

$$\overbrace{10 - 2}^{\dots} - 1 = \dots$$

$$\overbrace{8 - 7}^{\dots} - 0 = \dots$$

16) Entoure le plus léger.




17) Relie au bon instrument de mesure.



Le poids du sac de pommes



Le temps d'une course



La hauteur de la porte



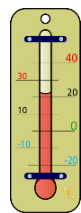


Le coût total du caddie



La quantité de la bouteille de lait



La température extérieure



14) Sudoku.

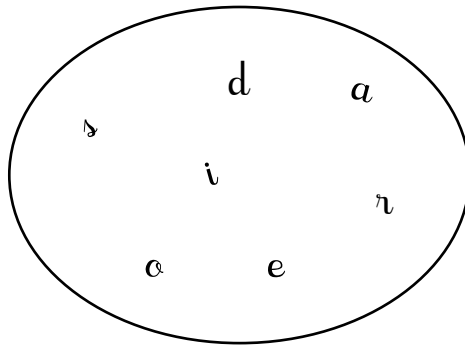
Les images à placer se trouvent à la fin du dossier.

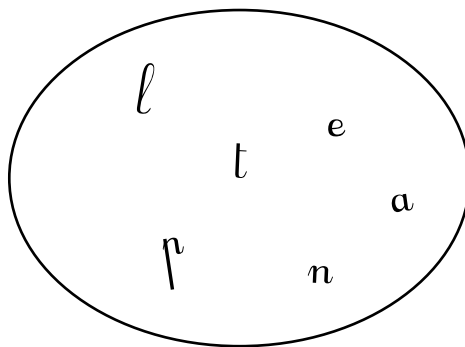
					
					
					
					
					
					

©mme_stephanie



18) Remets les lettres dans l'ordre et écris le mot.





19) Quel est le mot caché sous la tâche. Colorie-le.



Adeline  ne son petit chien.

promène

prépare

parle




Mario  ne le ballon.

martèle

propre

attrape



Ariane casse une  te.

tasse

assiette

marmite

20) Coche la bonne phrase ?



	Lucas découpe un monstre.
	Ioline dessine une momie.
	Lélio dessine un monstre.
	Nadine découpe une fleur.



	Martine se sert du jus d'orange.
	Papa tartine du jus de pomme.
	Mathis prépare de la salade.
	Théo se sert du jus d'orange.

21) Relie.



• Martine prépare le repas. •



• Noah range ses pulls dans le tiroir. •



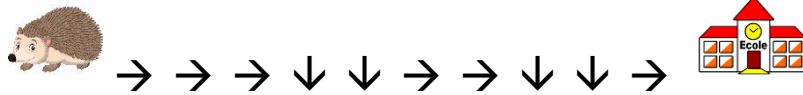
• Léo appelle sa mamie. •



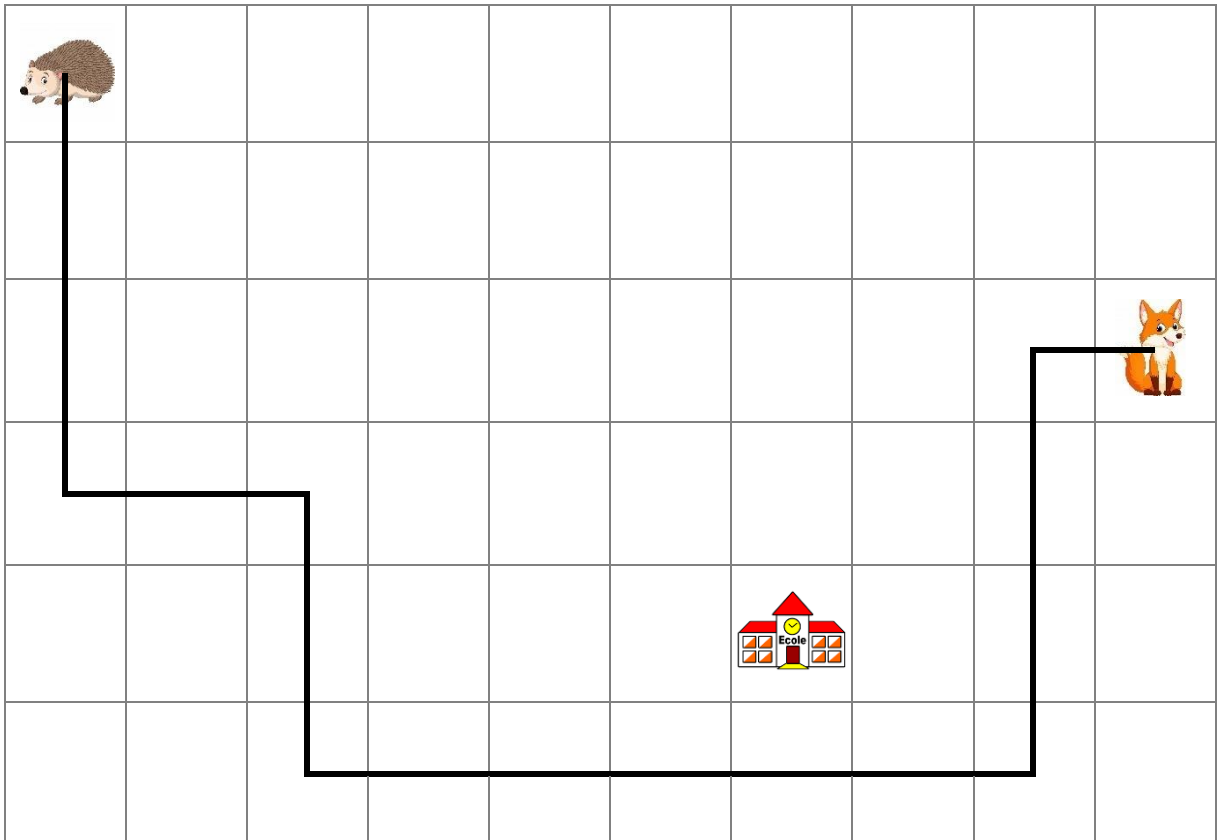

• Timothé donne une fleur à Mathilde. •

Vendredi 29 / 05



22) Trace le chemin de Pic-Pic pour l'amener jusqu'à l'école.

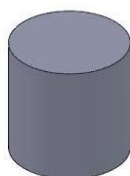

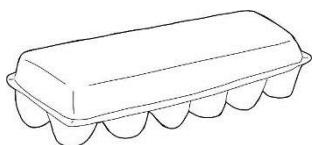


Indique le chemin que prend Pic-Pic pour aller chez son ami Renard.



23) Entoure.

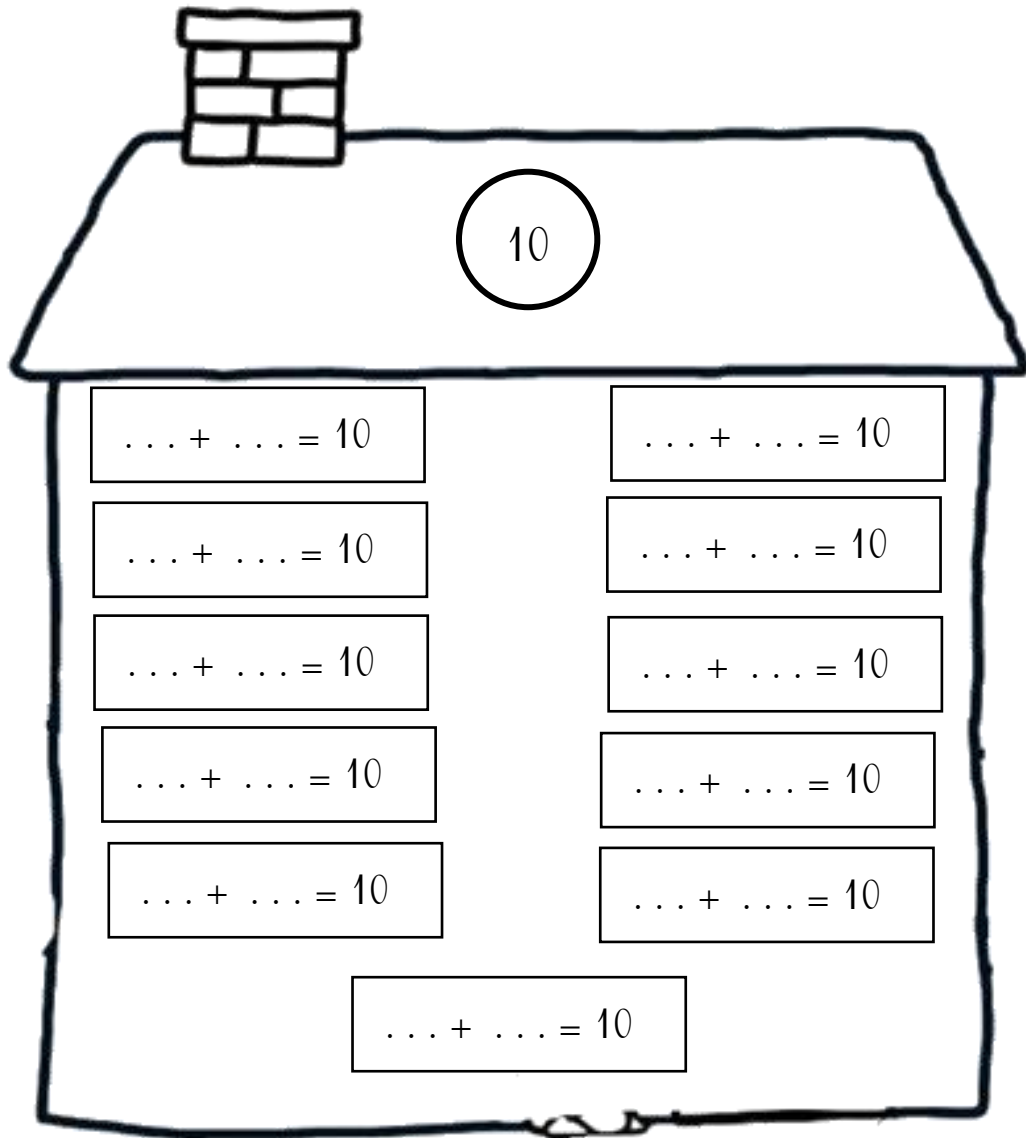
- en **bleu** 2 boîtes à bosses.
- en **rouge** 2 boîtes lisses qui ne roulent pas. 
- en **vert** 2 boîtes lisses qui roulent. 




24) Complète.



25) Complète la maison de 10.



26) Complète les étoiles en respectant le comptage.



27) Complète avec « un » ou « une ».

otarie

pamplemousse

radis

poupée

mandarine

stylo

renard

histoire

rature

28) Complète avec « le », « la » ou « l' ».

ananas

nappe

étoile

motard

mammouth

tenue

tartine

saladier

ampoule

29) Remets les mots dans l'ordre et écris la phrase.



pomme

livres.

est

La

les

sur



papillon

Le

doigt.

se pose

sur

son



pot

fille

un

de

La

porte

fleurs

