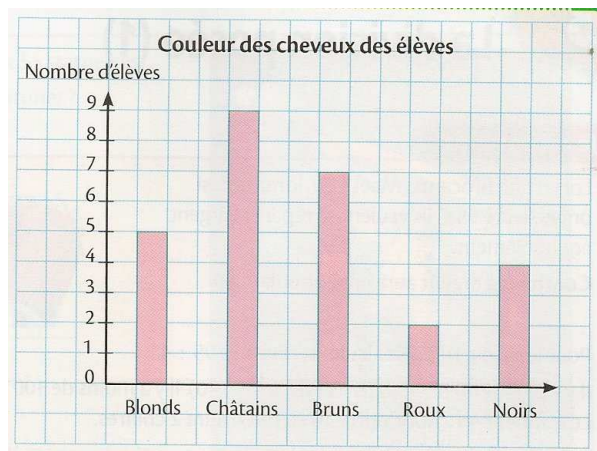


**Compétence :** Lire un histogramme.

- L'histogramme ci-dessous présente la couleur des cheveux des élèves d'une classe de CM1. Sur ton cahier, réponds aux questions suivantes par une phrase.

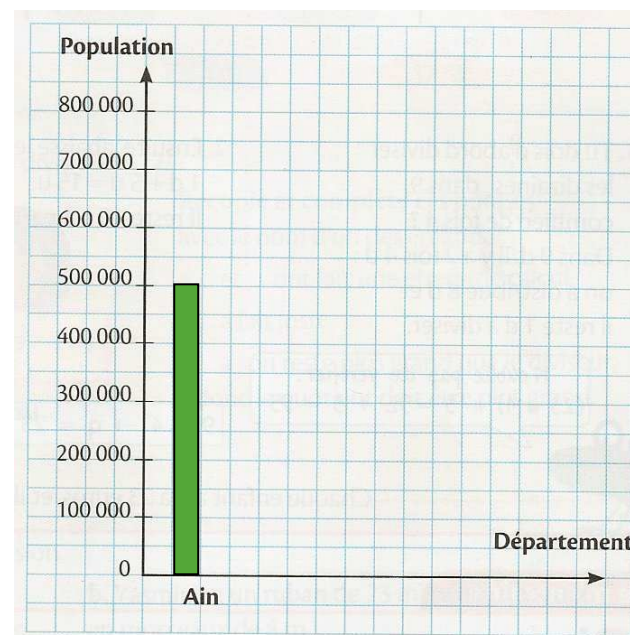


- Combien d'élèves ont les cheveux blonds ?
- Quelle est la couleur de cheveux la plus fréquente ?  
Combien d'élèves ont cette couleur de cheveux ?
- Combien d'élèves n'ont pas les cheveux noirs ?
- Quelle est la couleur de cheveux la moins fréquente ?  
Combien d'élèves ont cette couleur de cheveux ?
- Combien y a-t-il d'élèves dans cette classe de CM1 ?

**Compétence :** Construire un histogramme.

- Le tableau suivant donne la population de quelques départements français.  
Reproduis et complète l'histogramme sur ton cahier.

Départements	Population en habitants
Ain	500 000
Cantal	150 000
Doubs	500 000
Jura	250 000
Lot-et-Garonne	300 000
La Réunion	700 000
Vienne	400 000



A



VA

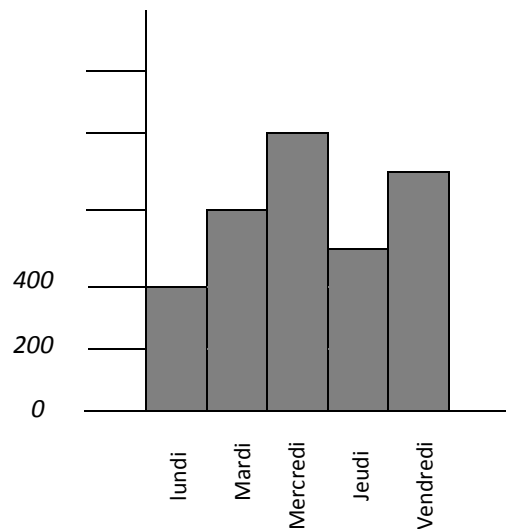


NA



**Compétence :** Lire un histogramme.

Une usine fabrique des chaises. Cet histogramme représente le nombre de chaises fabriquées chaque jour de la semaine du lundi au vendredi.



- 1) Quel jour l'usine a-t-elle fabriqué le plus de chaises ?  
.....
- 2) Quel jour a-t-elle fabriqué 500 chaises ?  
.....
- 3) Combien de chaises a-t-elle fabriquées le mardi ?  
.....
- 4) Combien de chaises a-t-elle fabriquées le vendredi ?  
.....
- 5) Combien de chaises a-t-elle fabriquées en tout cette semaine ?  
.....

A



VA




NA



**Compétence :** Construire un histogramme.

5 enfants ont joué à un jeu vidéo. Ils ont noté leurs points dans un tableau et dans un histogramme. Recopie et complète le tableau et l'histogramme sur une feuille quadrillée.



Observe le tableau puis construis un histogramme.

Moyens de transport pour venir à l'école				
Moyen de transport	à pied	à vélo	en bus	en voiture
Nombre d'élèves	40	60	30	70