







## Chez les commerçants

1. Observe.

Chez le poissonnier	Au supermarché	Chez le pâtissier
 <b>Daurade</b> 19 €	 8 €	 10 €
 <b>Sole</b> 21 €	 10 €	 14 €

2. Madame Dupont achète une sole et une tarte.

Combien a-t-elle dépensé ?

• Voici une aide pour résoudre ton problème : dessine la monnaie (pièces ou billets) pour payer, puis complète.

Sole	Tarte
------	-------

Sole : ..... €	Tarte : ..... €
----------------	-----------------

Somme dépensée : ..... €




• Complète la solution du problème.

..... + ..... = .....

Madame Dupont a dépensé ..... €.



Voici les pièces que chaque enfant a dans sa tirelire :

	Pièces de monnaie			Dessins des pièces dans la tirelire
	50 c	1 €	2 €	
				
Jean	2	10	2	
Camille	6	4	2	
Hélène	2	6	6	

1. Dessine dans le tableau les pièces que contient chaque tirelire.

2. Quelle somme d'argent a chaque enfant ?

Jean : ..... Camille : ..... Hélène : .....

3. Qui a le plus d'argent ? .....