
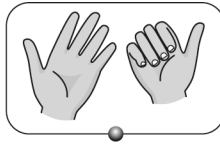



Nom : .....

Date : .....

**1 Relie.**



**2 Entoure le bon nombre.**

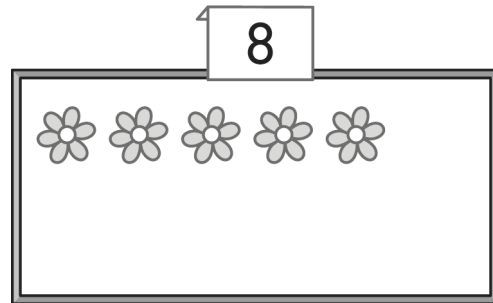


4 5 6 7




6 7 8 9

**3 Dessine ce qui manque.**



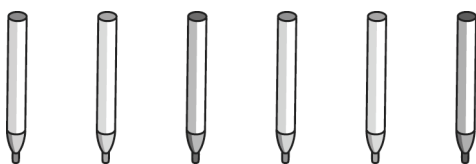
**4 Entoure la carte qui a le plus de cœurs.**



**5 Entoure la carte qui a le moins de piques.**



**6 Dessine autant de bouchons que de feutres.**

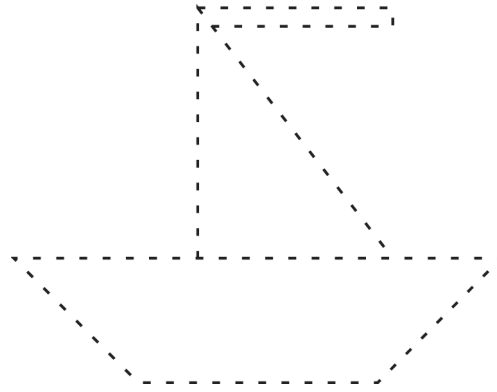


**7 Complète.**




$7 + \dots = \dots$

**8** Repasse à la règle.



**9** La fleuriste compose un bouquet.  
Le bouquet a déjà 3 fleurs.



La fleuriste ajoute 6 fleurs.  
Combien y a-t-il de fleurs  
maintenant dans le bouquet ?  
Complète :

Il y a ..... fleurs dans le bouquet.

**10** Mardi, Lise a 2 cartes.



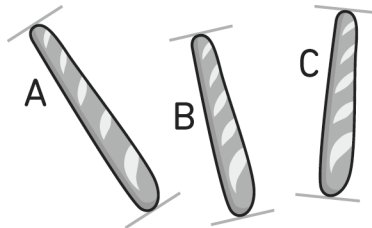
Jeudi, j'ai gagné  
6 cartes.  
Vendredi, j'en ai  
regagné 2.

Combien Lise a-t-elle de cartes  
vendredi ?

Complète :

Vendredi, Lise a ..... cartes.

**11** Entoure les bonnes étiquettes.



La baguette A est plus moins aussi longue que la baguette B.

La baguette B est plus moins aussi longue que la baguette C.

**12** Réponds par V (ou vrai) ou par F (ou faux).

Dans la semaine, il y a 8 jours. ....

Aujourd'hui, c'est dimanche. Hier, c'était samedi. ....

Aujourd'hui, c'est dimanche. Demain, ce sera lundi. ....