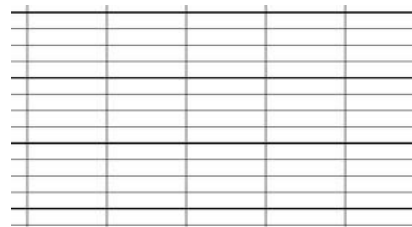
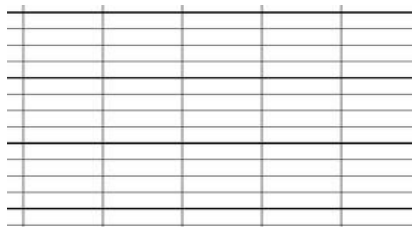
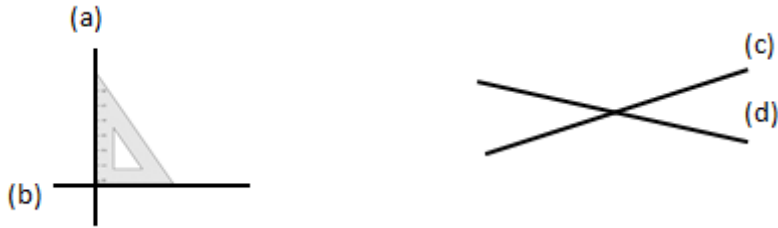


Les droites perpendiculaires

A Deux droites sont perpendiculaires si _____



Pour **vérifier** que deux droites sont perpendiculaires, on utilise une _____.

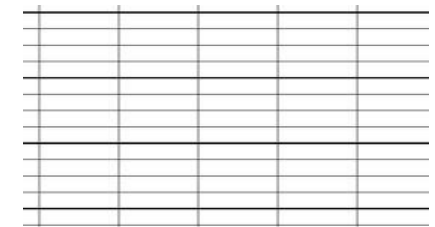
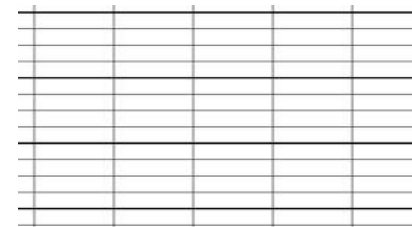
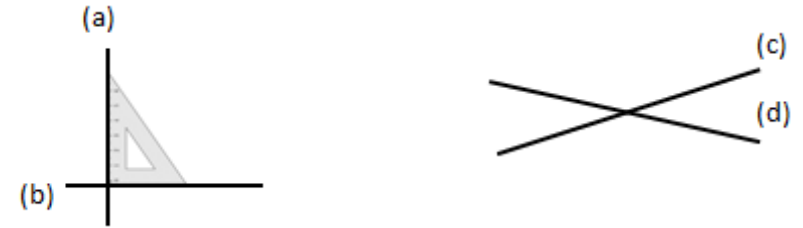
B Pour tracer des droites perpendiculaires :

(d) A X		
Je dois tracer la droite perpendiculaire à (d) passant par A.	Je pose l'angle droit sur (d) en passant par A. Je trace la droite.	Je prolonge à la règle la droite obtenue.

C Je m'entraîne à tracer pour progresser !

Les droites perpendiculaires

A Deux droites sont perpendiculaires si _____



Pour **vérifier** que deux droites sont perpendiculaires, on utilise une _____.

B Pour tracer des droites perpendiculaires :

(d) A X		
Je dois tracer la droite perpendiculaire à (d) passant par A.	Je pose l'angle droit sur (d) en passant par A. Je trace la droite.	Je prolonge à la règle la droite obtenue.

C Je m'entraîne à tracer pour progresser !