





1 Aide Théo à compter ses billes. Fais des paquets de 10.



Théo possède billes.

2  Fais des paquets de 10,  complète le tableau et la phrase.



Marie a dizaines et unités. En tout elle a gâteaux.



Paul a dizaines et unités. En tout il a cadeaux.

2 Léa a 25 points. *Ecris* / **Écris** ce nombre dans le tableau.

d	u
.....

Complète. 25 c'est dizaines et unités.

Entoure les cartes qu'elle a gagnées.

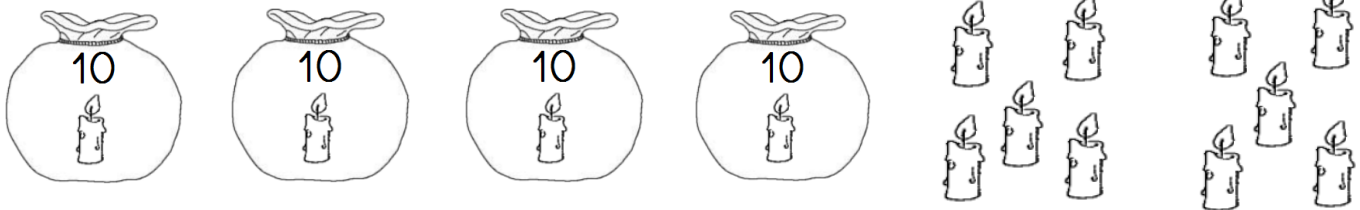


Léa a 34 bougies *Ecris* / **Écris** ce nombre dans le tableau.

d	u
.....

Complète. 34 c'est dizaines et unités.

Entoure les bougies qu'elle a dans son placard




3 Théo a 46 points. *Ecris* / **Écris** ce nombre dans le tableau.

d	u
.....

Complète. 46 c'est dizaines et unités.

Entoure les cartes qu'il a gagnées.



Théo a 57 bougies *Ecris* / **Écris** ce nombre dans le tableau.

d	u
.....

Complète. 57 c'est dizaines et unités.

Entoure les bougies qu'il a dans son placard

