

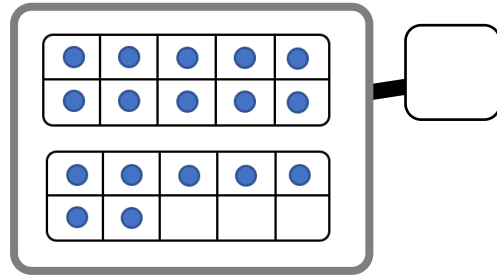
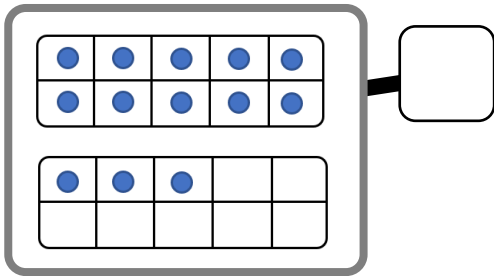
1. Calcul mental :  **Calculer avec des euros**




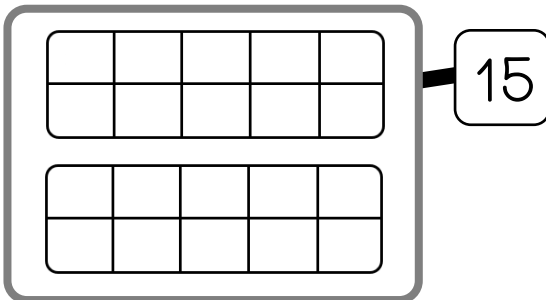
2. Dénombrer et construire des collections



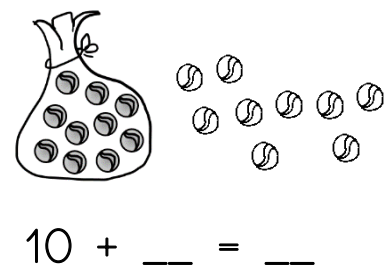
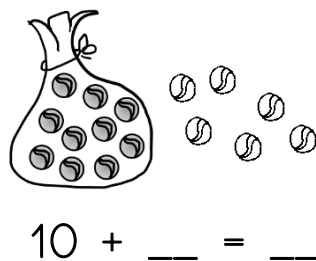
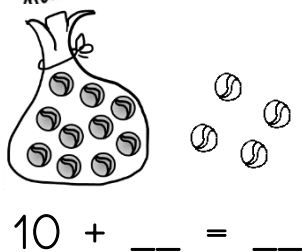
 **Ecris le nombre de jetons rangés dans les boîtes.**



3.  **Dessine le nombre de jeton dans les boîtes.**



4.  **Complète les additions.**



5.  Problème avec les euros



Je veux acheter des crayons de couleur.
Chaque crayon coûte 1€.
J'ai 5 €.

Combien de crayons puis-je acheter ?

→ Je peux acheter ___ crayons

