

*** Activités à mener sur l'ardoise :**

- Calcul mental* : $26 - 6$ / $30 + 8$ / $60 + 5$ / $59 - 9$ / $87 - 7$ / $70 + 1$

- Numération* : dictée de nombres : 41 ; 74 ; 64 ; 94 ; 14 ; 84 (ranger dans l'ordre croissant ↗ puis décroissant ↘).

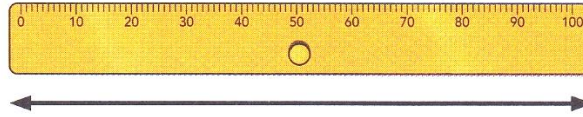


Apprenons ensemble




Complétons

avec cm ou m.



1			
---	--	--	--



1			
---	--	--	--

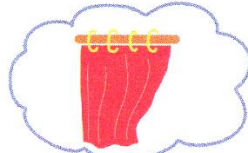
Entraînons-nous

1  **Colorie** les objets **plus courts** qu'un mètre.



2  **Coche** l'unité de mesure adaptée.

un rideau



mètre

centimètre

une brosse



mètre

centimètre

une maison



mètre

centimètre

Je travaille seul(e)

3 ✎ **Coche** la bonne mesure.

une gomme




4 cm
 4 m

un coffre à jouets




1 cm
 1 m

une commode



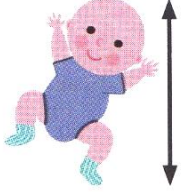
2 cm
 2 m

un marque-page




20 cm
 20 m

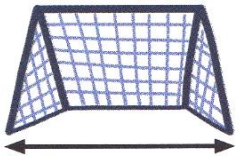
4 ✎ **Complète** en utilisant l'unité de mesure adaptée : *cm* ou *m*.




50



18









7

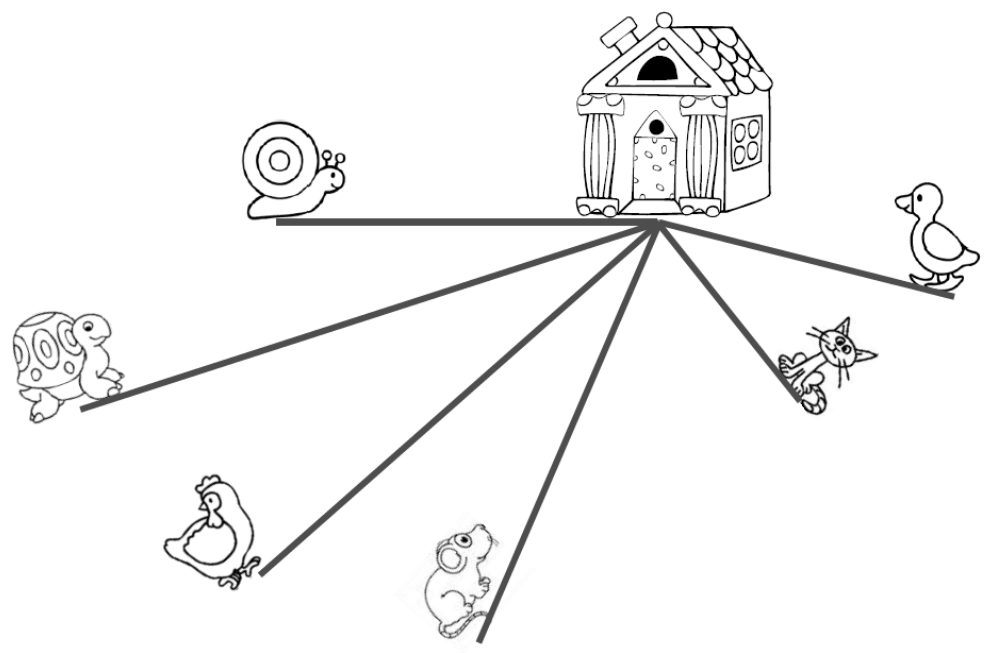


12

Je révise :

Mesure la distance parcourue par chaque animal.
Colorie celui qui fera un trajet de 6 cm.

-  cm
-  cm
-  cm
-  cm
-  cm
-  cm



CORRECTION - NE PAS IMPRIMER

Apprenons ensemble

Complétons avec cm ou m.

1 m

1 cm

Entrainons-nous

1 Colorie les objets plus courts qu'un mètre.

2 Coche l'unité de mesure adaptée.

un rideau		<input checked="" type="checkbox"/> mètre	<input type="checkbox"/> centimètre
une brosse		<input type="checkbox"/> mètre	<input checked="" type="checkbox"/> centimètre
une maison		<input checked="" type="checkbox"/> mètre	<input type="checkbox"/> centimètre

Je travaille seul(e)

3 Coche la bonne mesure.

une gomme <input checked="" type="checkbox"/> 4 cm <input type="checkbox"/> 4 m	un coffre à jouets <input type="checkbox"/> 1 cm <input checked="" type="checkbox"/> 1 m
une commode <input type="checkbox"/> 2 cm <input checked="" type="checkbox"/> 2 m	un marque-page <input checked="" type="checkbox"/> 20 cm <input type="checkbox"/> 20 m

4 Complète en utilisant l'unité de mesure adaptée : cm ou m.

50 cm	18 cm
7 m	12 m

Je révise

Entoure la voiture qui se trouve sur le côté le plus long du circuit.

Pour les élèves qui ont travaillé sur le document papier et non sur leur fichier :

Je révise :

Mesure la distance parcourue par chaque animal.
Colorie celui qui fera un trajet de 6 cm.

- 5 cm
- 8 cm
- 7 cm
- 6 cm
- 3 cm
- 4 cm