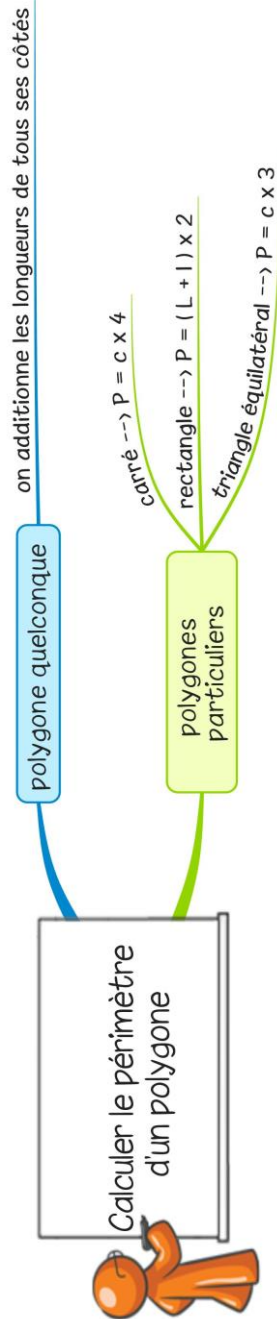


Me6

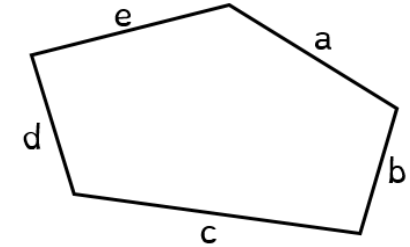
Calculer le périmètre d'un polygone



■ Le périmètre d'une figure est la longueur du contour de cette figure.

■ Pour calculer le périmètre d'un polygone quelconque, on additionne les longueurs de tous les côtés.

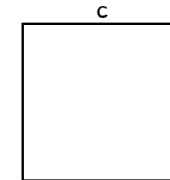
$$a + b + c + d + e$$



■ Pour calculer le périmètre de polygones réguliers, on utilise des formules :

- périmètre du carré : côté \times 4

$$\rightarrow P = c \times 4$$



- périmètre du rectangle : (Longueur + largeur) \times 2

$$\rightarrow P = (L + l) \times 2$$



- périmètre du triangle équilatéral : côté \times 3

$$\rightarrow P = c \times 3$$

