

Prénom :


Date :

Evaluation de Mesure: Les mesures de durées


Compétences évaluées	Acquis	En voie d'acquisition	Non acquis
Savoir lire l'heure			
Savoir placer les aiguilles selon l'heure indiquée			
Savoir calculer une durée			
Savoir passer des heures aux minutes et inversement (conversion)			

1/ Dessine les aiguilles :


/ 4




09 : 30



17 : 45



6 : 40



20 : 15

2/ Ecris l'heure du matin et celle du soir pour chaque montre :

/ 6

matin			
soir			

3/ Lis attentivement les horaires du train Paris- Rouen

/ 5

PARIS - ROUEN	
Paris	8H15
Mantes	8H50
Vernon	9H05
Oissel	9H30
Rouen	9H45

puis calcule la durée des trajets suivants :

Paris – Mantès : Vernon – Rouen :

Mantès – Vernon : Paris – Vernon :

Paris – Rouen :

4/ Complète en t'aidant du tableau

/ 5

1h30min = min

5h20 min = min

10h30 min = min

3h10min = min

2h45 min = min

240 min = ...h min

65 min = ...h min

140 min = ...h min

175 min = ...h min

187 min = ...h min

Nombre d'heures	1	2	3	4	5	10	11
Nombre de minutes	60	120	180	240	300	600	660