



## Paris et la région parisienne

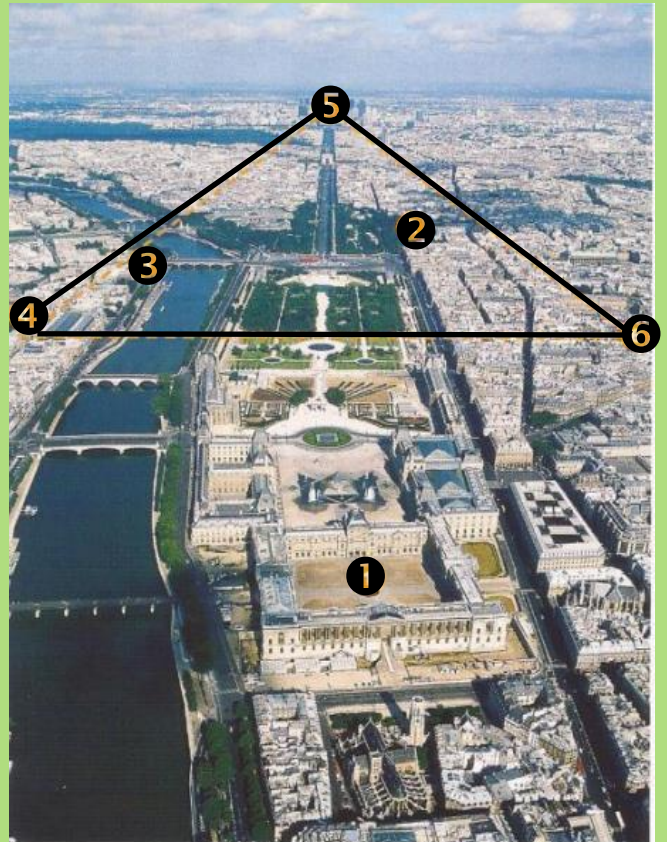
**La domination de l'agglomération parisienne**

L'Ile-de-France s'organise autour de Paris, la 1<sup>ère</sup> agglomération de France avec 10 millions d'habitants.

\* Dominance touristique : Paris est une capitale culturelle au rayonnement mondial ce qui en fait la 1<sup>ère</sup> ville touristique mondiale. Le cœur de Paris résume l'histoire de la France avec ses monuments mondialement connus : le Musée du Louvre (1), Notre-Dame de Paris, la Tour Eiffel, l'Arc de Triomphe...

\* Capitale politique de la France, Paris accueille le Président de la République au Palais de l'Élysée (2), l'Assemblée Nationale (3), le Parlement et différents ministères (4).

\* Paris détient aussi le pouvoir économique avec la Bourse, le quartier des affaires de la Défense (5) et les directions des grandes entreprises bancaires (6).



Le triangle d'or de Paris

**Le Bassin Parisien : un espace agricole**

C'est le 1<sup>er</sup> espace céréalier de l'Union Européenne. Les champs de céréales sont associés à la betterave à sucre. Les exploitations qui sont de très grandes tailles, sont dirigées par de véritables entrepreneurs de la culture. Ces exploitations utilisent beaucoup de machines, des pesticides et ont des rendements très élevés. C'est une agriculture très industrielle.

Les régions du pourtour sont spécialisées dans l'élevage bovin dans le Pays d'Auge, les fleurs dans le Val de Loire et le vignoble en Champagne.

La Basse-Seine est une puissante région industrielle avec ses 2 ports : le Havre et Rouen.



Lis les textes et réponds :

❶ Quels sont les pouvoirs présents dans le triangle d'or ?

---



---



---

❷ Quelles cultures agricoles sont pratiquées ?

---



---



---

❸ Quels sont les deux grands ports de la région parisienne ?

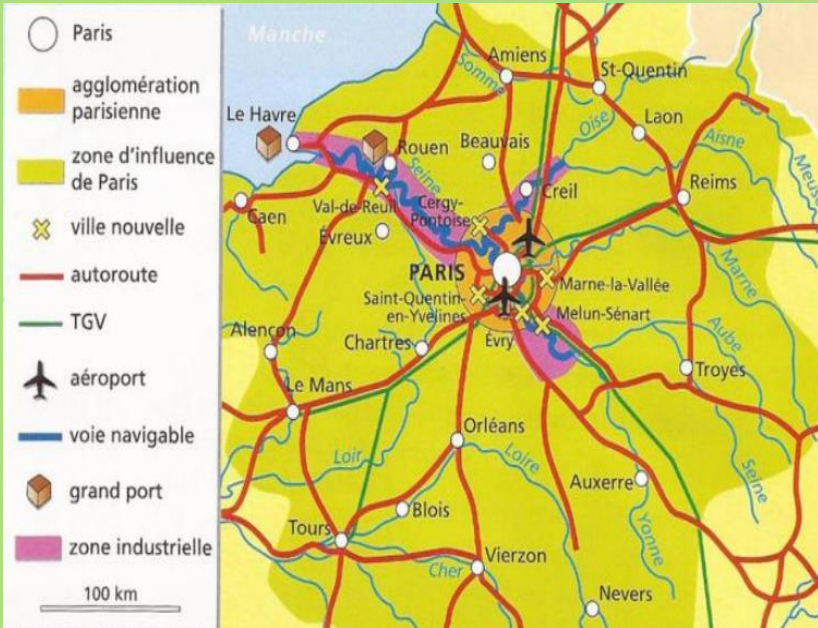
---



---



## Paris et la région parisienne

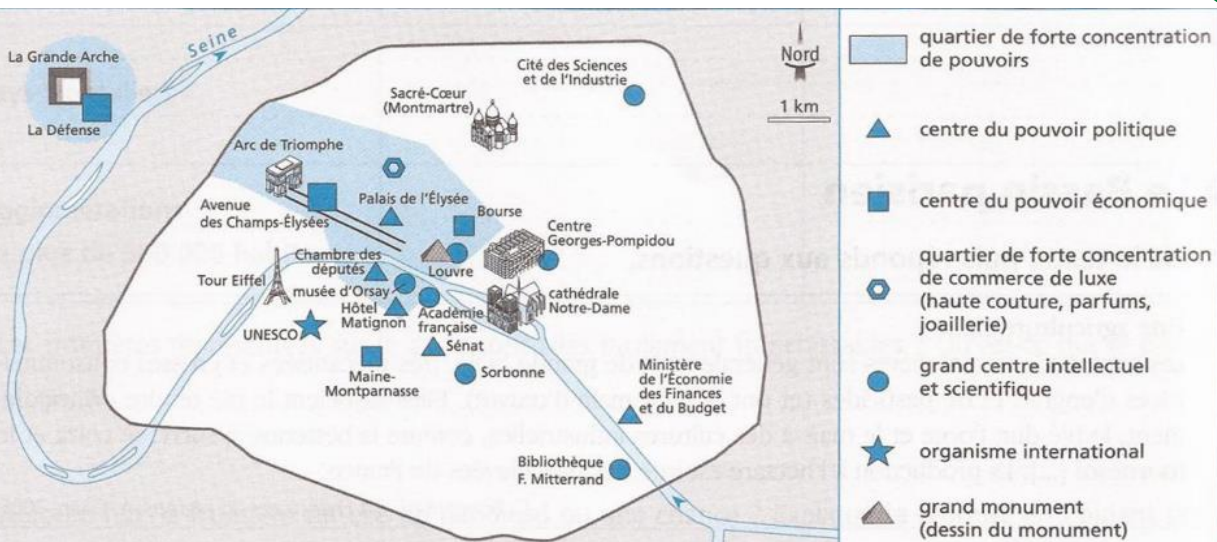


L'Ile-de-France est la région la plus riche de France.  
C'est la plus grande région en termes de services : elle concentre tous les sièges sociaux des grandes entreprises à la défense et abrite les centres de recherche.  
C'est la 1<sup>ère</sup> région pour les commerces et les transports, notamment avec les deux plus grands aéroports internationaux de France : Orly au Sud et Roissy-Charles de Gaulle au Nord.  
L'Ile-de-France est aussi le principal centre industriel de France. Elle exerce son influence sur tout le Bassin Parisien et même sur l'ensemble du territoire français.

3 Lis le texte et réponds :

1 Où l'Ile-de-France concentre-t-elle les sièges sociaux des grandes entreprises ?

2 Quels sont les deux grands aéroports internationaux situés en Ile-de-France ?



3 A l'aide de ce plan, explique pourquoi Paris est une ville de pouvoir et de culture