

Je lis des cartes et des plans

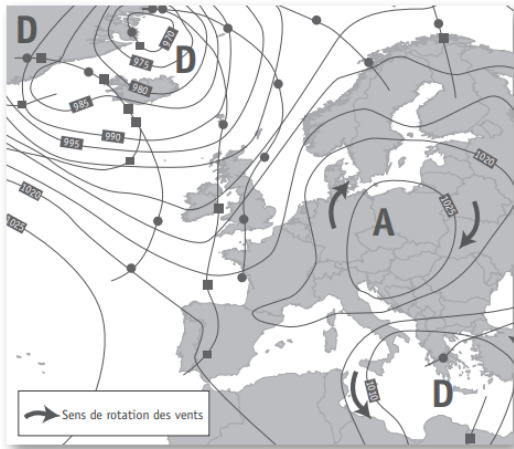
Les plans et les cartes permettent de se situer.

- ⇒ Un **plan** est une représentation, en général à la verticale, d'un espace très proche : un quartier de ville par exemple.
- ⇒ Une **carte** est une représentation, en général à la verticale, d'un espace plus large que le plan : une région, un pays, un continent.

Il existe **différents types de plans et de cartes** (liste non-exhaustive) :

- Les plans de ville.
- Les plans ou cartes touristiques.
- Les plans ou cartes de transport (trafic ferroviaire, métro,...)
- Les cartes topographiques, qui représentent le relief et les aménagements humains de manière précise.
- Les cartes politiques.
- Les cartes routières, qui répertorient des routes pour automobiles,
- Les cartes de courants marins.
- Les cartes météorologiques.
- Les cartes hydrographiques (représentent les cours d'eau).
- Les planisphères
- ...

Pour chaque carte – plan, précise de quel type il s'agit puis répond aux questions.



→

1- Quel est le continent représenté sur cette carte ?

.....

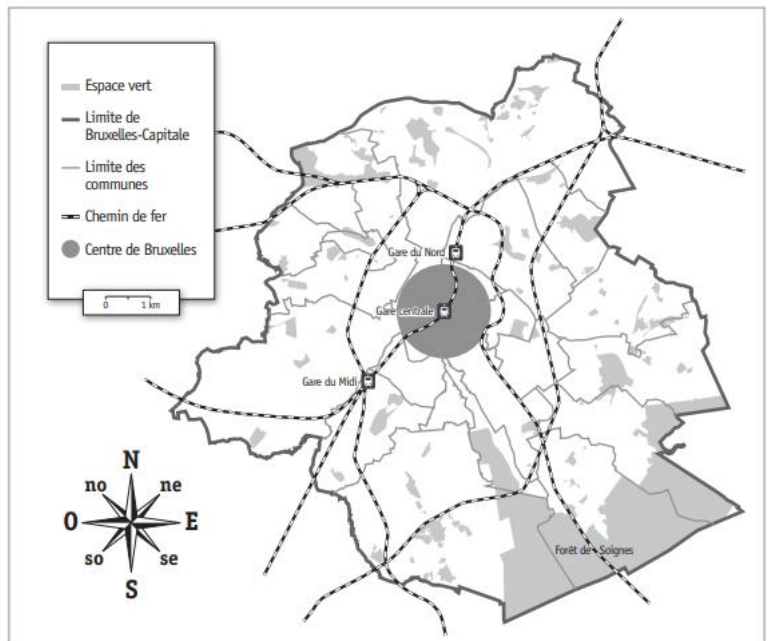
2- Que signifie A ?

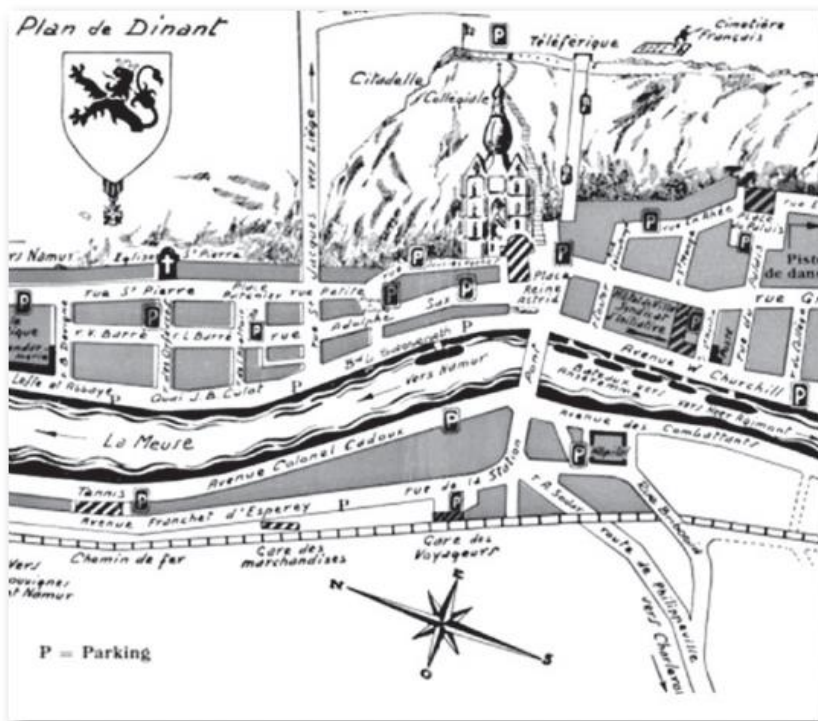
3- Que signifie D ?

..... ←

1- Quel moyen de transport est représenté sur ce plan ?

.....





➔

1- Quelle est la ville représentée ?

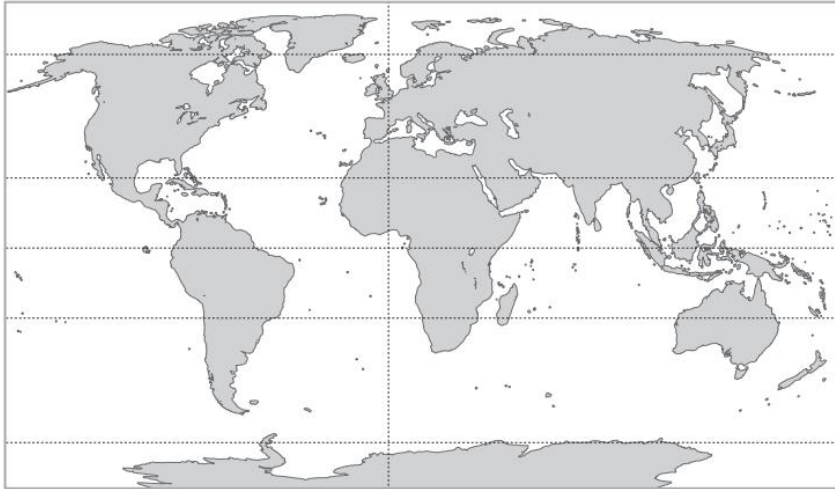
2- Combien de zones de parking y a-t-il ?

- Une dizaine
- Une quinzaine
- Une vingtaine

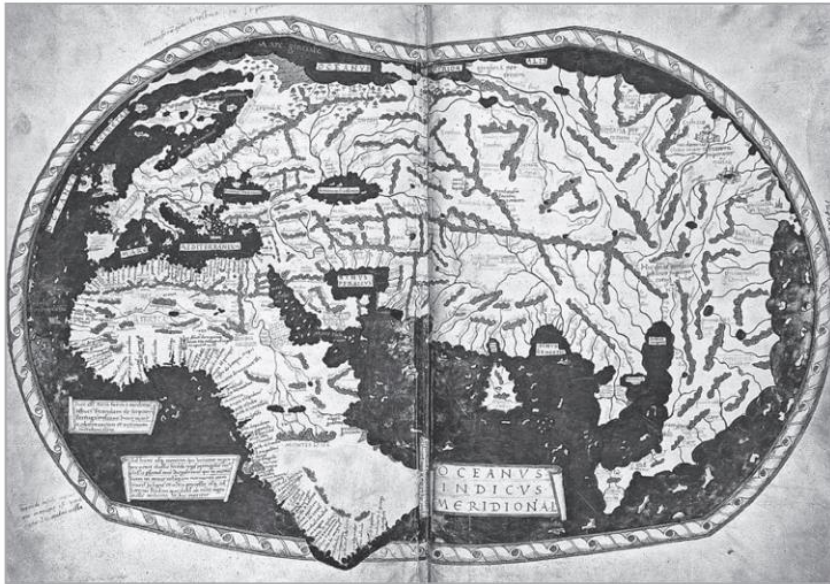
3- Quel est le fleuve passant dans cette ville ?

4- Entoure les images ci-dessous qui représentent la même ville.

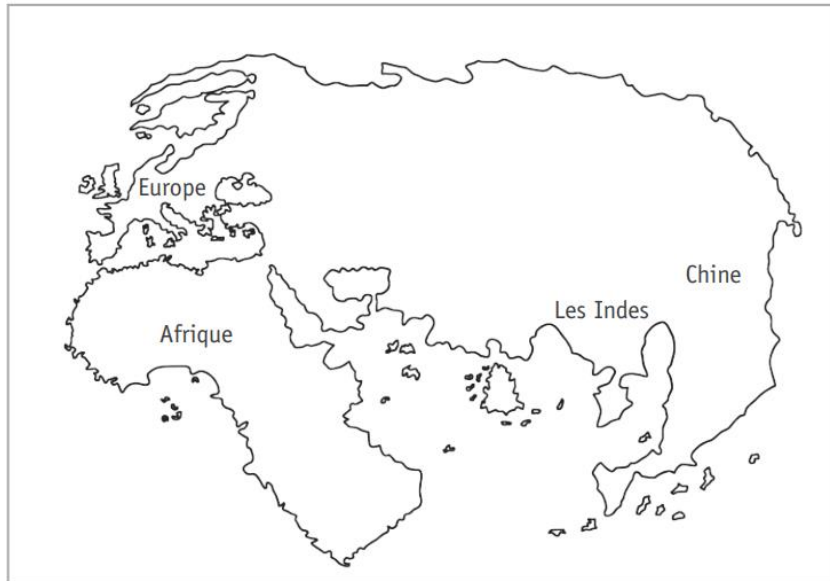




Planisphère de 2016



Planisphère de Martellus, au 15^e siècle (1490) avant les découvertes de Christophe Colomb



Représentation du planisphère de Martellus

→

1- Entoure l'Europe au fluo sur chacune des cartes.




Photo aérienne 21^e siècle





Photo aérienne 21^e siècle



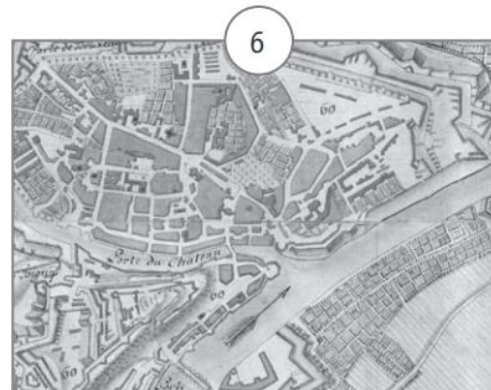
Carte 21^e siècle



Carte 17^e siècle



Carte 21^e siècle

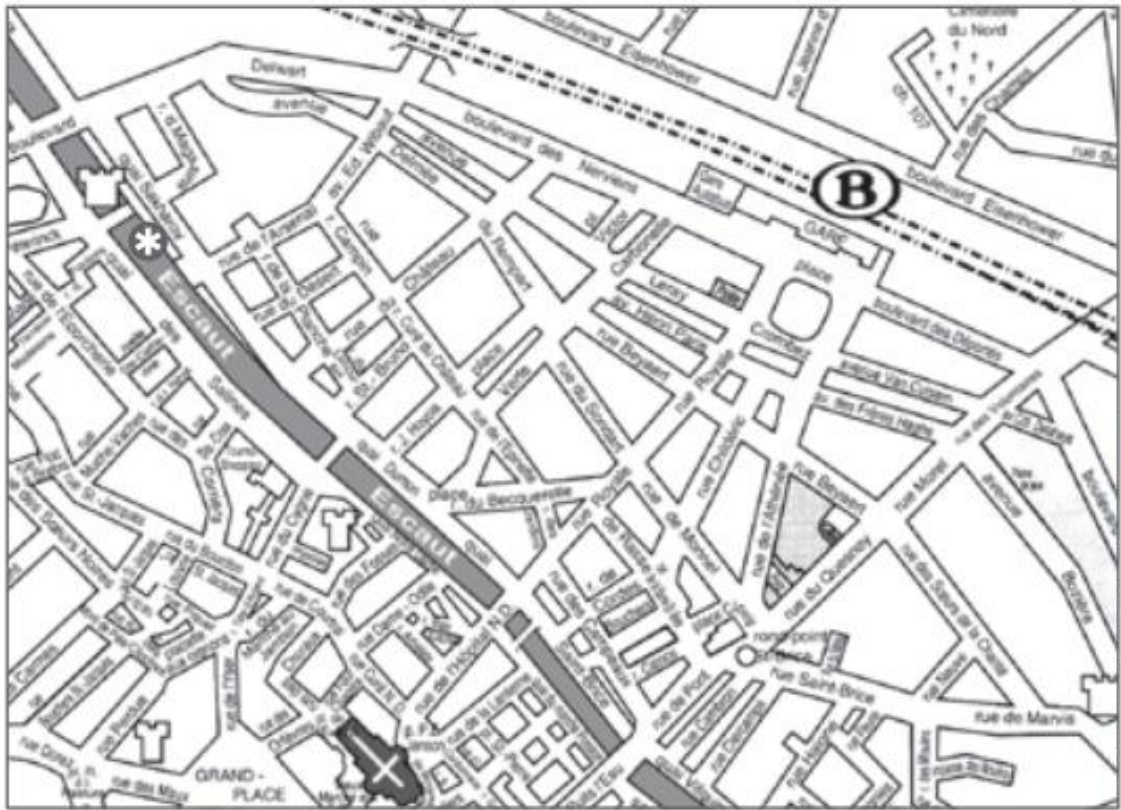


Carte 17^e siècle

➔

1- Quelles images représente la même zone ? , et
Sur ces images, colorie la place centrale.

2- Quelles images représente la deuxième même zone ? , et
Sur ces images repassent le cour d'eau.



© Syndicat d'initiative de la ville de Tournai

→

1- Quelle est la ville représentée ?

2- Quel est le fleuve qui passe dans cette ville ?

Repasse-le en bleu.

3- Par quelle lettre la gare est-elle symbolisée ?



→

Entoure l'Europe sur chacune des cartes.





Tomacum - Braun, Georg & Hogenberg, Franz - 1617



BELGIQUE - RIVIÈRES ET BASSINS HYDROGRAPHIQUES

