



Prénom : .....

J'ai **2 semaines** pour faire ce travail.

Lorsque j'ai terminé un atelier, je précise si j'ai eu des difficultés (je colorie la case).

Jour 1

Rituel	J'ai compris.	C'est difficile.	Aide	1
--------	---------------	------------------	------	---

Observe cette figure :

Reproduis-la à main levée sur ton ardoise.

Prends une photo avec la tablette.

Rituel	J'ai compris.	C'est difficile.	Aide	2
--------	---------------	------------------	------	---

Sur l'ardoise

Pioche une carte « carte à dicter ». Dicte le nombre à ton camarade. Puis c'est à son tour.

(à faire 3 fois)

Calcul mental	J'ai compris.	C'est difficile.	Aide	3
---------------	---------------	------------------	------	---

Sur l'ardoise

Prends ton porteclé des tables.

Interroge un camarade sur **8 calculs** (tables de 2 à 5). Ensuite c'est à ton tour.

Jour 2

Rituel	J'ai compris.	C'est difficile.	Aide	4
--------	---------------	------------------	------	---

Sur l'ardoise

Ecris les nombres de 2 en 2 à partir de 38 jusqu'à 64.

Prends une photo avec la tablette.

Rituel	J'ai compris.	C'est difficile.	Aide	5
--------	---------------	------------------	------	---

Regarde ces sacs qui sont marqués de A à D car ils ne pèsent pas la même chose :

Quel sac est le plus lourd ?

Calcul mental	J'ai compris.	C'est difficile.	Aide	6
---------------	---------------	------------------	------	---

Calcul en ligne :

$38 - 17 = \dots\dots\dots$

$51 - 12 = \dots\dots\dots$

$46 - 13 = \dots\dots\dots$

Entoure ce que tu as fait :

J'ai enlevé d'abord les unités.

J'ai enlevé d'abord les dizaines.

Calcul mental	J'ai compris.	C'est difficile.	Aide	7
---------------	---------------	------------------	------	---

Colorie et trouve l'intrus	Calcul du jour, j'y cours ... 🏃 🏃 🏃				CE1 /
	30 + 2	34	60 + 7	32	56
	60 + 4	85	90 + 8	80 + 5	98
	67	50 + 6	30 + 4	52	64


Je calcule : ajouter un nombre à une dizaine entière.

Jour 3

Rituel	J'ai compris.	C'est difficile.	Aide	8
--------	---------------	------------------	------	---


Rappel-toi du Rallye maths 2 : 4 chats courent grimper à un arbre.

Quatre chats courent dans le champ pour grimper à un arbre.



Le chat noir n'est ni 1<sup>er</sup>, ni dernier. Le chat roux est juste après le chat noir. Le chat gris est le plus rapide de tous. Le chat blanc est juste après le chat gris.

Dessine les chats qui courent vers l'arbre.



Rituel	J'ai compris.	C'est difficile.	Aide	9
--------	---------------	------------------	------	---

Ajoute les signes < ou > :

264 ..... 764                      234 ..... 224

308 ..... 299                      489 ..... 498

438 ..... 384                      460 ..... 450

241 ..... 341                      273 ..... 237

409 ..... 410                      236 ..... 247

462 ..... 397                      369 ..... 396

Jour 4

Rituel	J'ai compris.	C'est difficile.	Aide	10
--------	---------------	------------------	------	----

Sur l'ardoise

Pioche une carte « carte à dicter ». Dicte le nombre à ton camarade. Puis c'est à son tour.

(à faire 3 fois)

Calcul mental	J'ai compris.	C'est difficile.	Aide	11
---------------	---------------	------------------	------	----

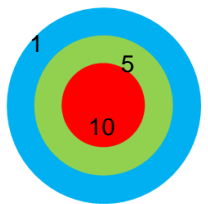
Sur l'ardoise

Prends ton porteclé des tables.

Interroge un camarade sur **8 calculs** (tables de 2 à 5). Ensuite c'est à ton tour.

Calcul mental	J'ai compris.	C'est difficile.	Aide	12
---------------	---------------	------------------	------	----

La cible : Dessine 4 flèches pour faire le score.



12 points


Calcul mental	J'ai compris.	C'est difficile.	Aide	13
---------------	---------------	------------------	------	----

Sur l'ardoise

Entraîne-toi à ajouter 20 à un nombre.

Ecris un nombre entre 100 et 200 sur ton ardoise. Ajoute 20. Vérifie à la calculatrice.

A faire 8 fois.



**Bilan de la semaine.** J'ai fait tous les exercices

Je n'ai pas terminé :

J'ai trouvé difficile les exercices : .....

Bilan de la maîtresse :

Rituel	J'ai compris.	C'est difficile.	Aide	<b>14</b>
--------	---------------	------------------	------	-----------

Observe cette figure :

Reproduis-la à main levée sur ton ardoise.

Prends une photo avec la tablette.

Rituel	J'ai compris.	C'est difficile.	Aide	<b>15</b>
--------	---------------	------------------	------	-----------

Ecris le nombre juste après :

199 : .....

449 : .....

679 : .....

999 : .....

379 : .....

809 : .....

Rituel	J'ai compris.	C'est difficile.	Aide	<b>16</b>
--------	---------------	------------------	------	-----------

Dicte à tes camarades des nombres entre 200 et 900, qui se terminent par 9. Demande-leur d'ajouter 1 à chaque nombre. (3 fois).

Ensuite vous échangez.

Calcul mental	J'ai compris.	C'est difficile.	Aide	<b>17</b>
---------------	---------------	------------------	------	-----------

La cible : Dessine la flèche qui manque pour faire le score.

21 points

Calcul mental	J'ai compris.	C'est difficile.	Aide	<b>18</b>
---------------	---------------	------------------	------	-----------

Prends tes tables d'additions.

Interroge tes camarades sur **6 calculs** Ensuite c'est à ton tour.

Calcul mental	J'ai compris.	C'est difficile.	Aide	<b>19</b>
---------------	---------------	------------------	------	-----------

**Calcule :**

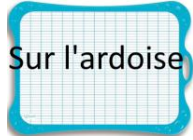
152 + 11 = .....	249 + 11 = .....
178 + 11 = .....	276 + 11 = .....
244 + 11 = .....	167 + 11 = .....

Peux-tu expliquer comment tu fais ? .....

.....

Relie tous les points pour construire seulement des triangles. Colorie les différentes formes créées de toutes les couleurs. Attention, tu dois utiliser **la règle** !

Rituel	J'ai compris.	C'est difficile.	Aide	20
--------	---------------	------------------	------	----



Ecris les nombres de 11 en 11 jusqu'à 77

Prends une photo avec la tablette.



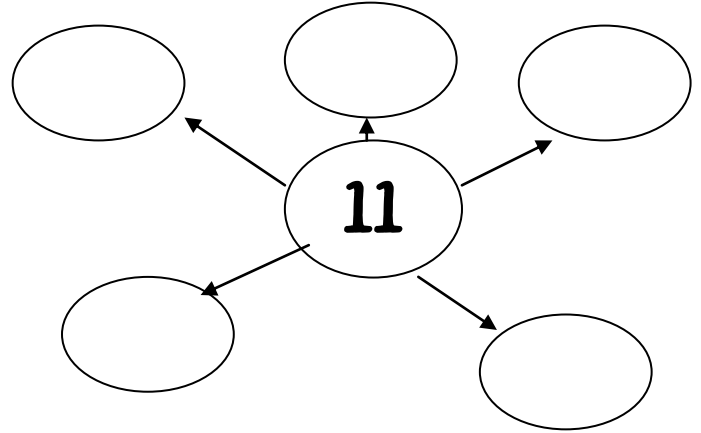
Calcul mental	J'ai compris.	C'est difficile.	Aide	22
---------------	---------------	------------------	------	----

Calcule :

- |                  |                  |
|------------------|------------------|
| 152 - 11 = ..... | 249 - 11 = ..... |
| 178 - 11 = ..... | 276 - 11 = ..... |
| 244 - 11 = ..... | 167 - 11 = ..... |

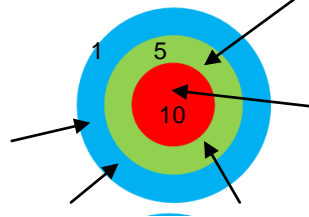
Rituel	J'ai compris.	C'est difficile.	Aide	21
--------	---------------	------------------	------	----

Dessine une petite carte mentale du nombre 11.



Calcul mental	J'ai compris.	C'est difficile.	Aide	23
---------------	---------------	------------------	------	----

La cible : Combien de points ai-je obtenu ?



..... points

Calcul mental	J'ai compris.	C'est difficile.	Aide	24
---------------	---------------	------------------	------	----

Calcule en ligne :

- |                  |                  |
|------------------|------------------|
| 479 + 25 = ..... | 326 + 18 = ..... |
| 138 + 27 = ..... | 407 + 35 = ..... |

Calcul mental	J'ai compris.	C'est difficile.	Aide	28
---------------	---------------	------------------	------	----



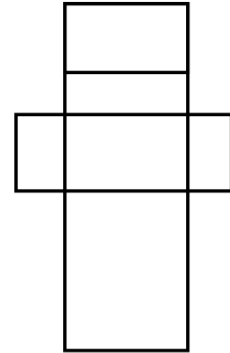
Prends tes tables d'additions.



Interroge tes camarades sur **6 calculs** Ensuite c'est à ton tour.

Rituel	J'ai compris.	C'est difficile.	Aide	25
--------	---------------	------------------	------	----

Observe cette figure :



Reproduis-la à main levée sur ton ardoise.

Prends une photo avec la tablette.



Bilan de la semaine. J'ai fait tous les exercices :

Je n'ai pas terminé :

J'ai trouvé difficile les exercices : .....

Bilan de la maîtresse :

Signature :