





L'abaque des classes

UM	C	D	U
			
			1
		1	0
	1	0	0
1	0	0	0

U □ les _____

D □ les _____

C □ les _____

UM □ les _____



Chaque rang vide est exprimé par un _____.

Si les zéros sont placés à gauche, on peut les supprimer sans changer la valeur du nombre.

$$1 \text{ UM} = \text{ ______ } C = \text{ ______ } D = \text{ ______ } U$$

$$1 C = \text{ ______ } D = \text{ ______ } U$$

$$1 D = \text{ ______ } U$$

